

Le Kenya et sa flore

De la brousse à la savane mais aussi en passant par la mangrove et les champs, la flore kenyane est aussi variée que sa géographie et sa faune.

Le Kenya compte ainsi **quatre types de formation végétale**.

La brousse

Cette formation végétale est formée d'arbrisseaux et d'arbustes.

L'arbre emblématique de la brousse est le **baobab**. Cet arbre peut mesurer jusqu'à 40 mètres de haut et peut résister aux fortes chaleurs.

Il s'agit d'un arbre « multifonctions » :

- son écorce et ses grosses branches permettent de fabriquer des vêtements et de la corde
- ses feuilles servent pour l'alimentation ou de médicaments
- ses fruits appelés *pains de singe* sont riches en vitamines
- étant creux, il permet aux hommes ou aux animaux de s'y abriter.



Baobab

La savane

La savane est couverte de surfaces d'herbes pouvant être aussi grandes qu'un homme et de broussailles.

Ici, ce sont les **acacias parasols** qui poussent :

- ses graines sont comestibles, et peuvent servir de remèdes
- son bois permet de faire du feu.



Acacia parasol



Le palétuvier



Plantation de café

La mangrove et les champs

La mangrove est une zone qui se développe le long des côtes, au Kenya c'est au niveau de l'Océan Indien. Il s'agit d'une forêt marécageuse où pousse le **palétuvier**.

Les champs permettent de cultiver divers sortes d'aliments comme le maïs, le thé ou le café, le manioc, l'ananas, les cacahuètes, les noix de cajou, l'avocat et la papaye, etc.

Questions

1. Je lis les affirmations et je coche si elle est vraie ou fausse.

	Vrai	Faux
4 formations végétales sont présentes au Kenya.		
Le baobab pousse dans la savane.		
L'acacia parasol pousse dans la savane.		
La mangrove est une zone d'eau.		

2. Je coche la (ou les) bonne(s) réponse(s) pour finir chaque affirmation.

a) Les fonctions du baobab sont :

- de nourrir.
- de soigner.
- de protéger.





b) La savane est différente de la brousse car :

- il n'y a que de l'herbe.
- il n'y a pas d'arbres ou d'arbustes.
- il y a beaucoup de baobabs.

c) Le palétuvier est un arbre qui se trouve :

- dans la brousse.
- dans la savane.
- dans la mangrove.

3. Sur la carte ci-contre, je colorie le selon la légende.

- désert en marron
-  savane en jaune
-  brousse en orange
-  mangrove en vert clair
-  champs en vert foncé

