

Voici 4 schémas qui représentent des opérations. Nomme chacune de ces opérations en y associant le terme somme, différence, produit ou quotient.

C'est

On a écrit

Opération

C'est

On a écrit

Opération

92	?
156	

C'est

On a écrit

Opération

C'est

On a écrit

Opération

Voici 4 schémas qui représentent des opérations. Nomme chacune de ces opérations en y associant le terme somme, différence, produit ou quotient.

C'est

On a écrit

Opération

79	21
?	

C'est

On a écrit

Opération

C'est

On a écrit

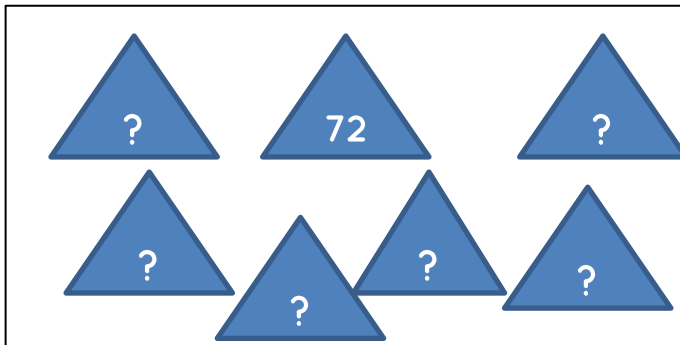
Opération

C'est

On a écrit

Opération


Voici 4 schémas qui représentent des opérations. Nomme chacune de ces opérations en y associant le terme somme, différence, produit ou quotient.



C'est

On a écrit

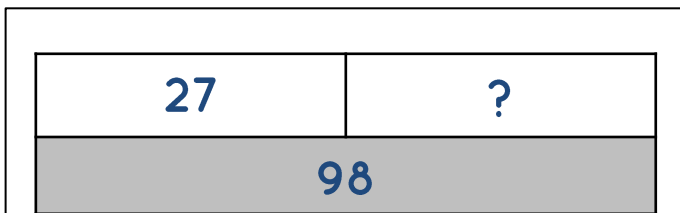
Opération



C'est

On a écrit


Opération



C'est

On a écrit

Opération

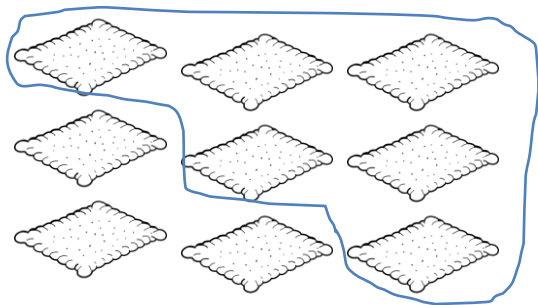


C'est

On a écrit

Opération

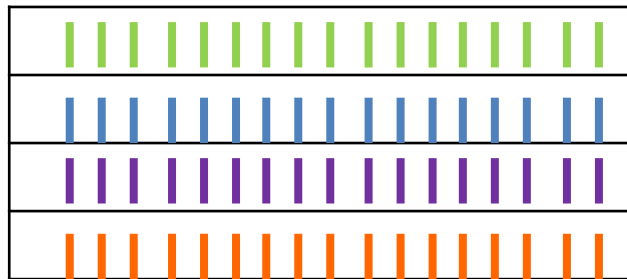
Voici 4 schémas qui représentent des opérations. Nomme chacune de ces opérations en y associant le terme somme, différence, produit ou quotient.



C'est

On a écrit

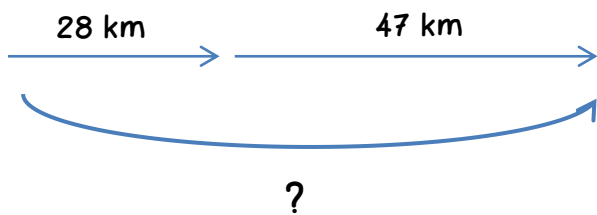
Opération



C'est

On a écrit


Opération



C'est

On a écrit

Opération



C'est

On a écrit

Opération

Voici 4 schémas qui représentent des opérations. Nomme chacune de ces opérations en y associant le terme somme, différence, produit ou quotient.

C'est

On a écrit

Opération

C'est

On a écrit

Opération

C'est

On a écrit

Opération

C'est

On a écrit

Opération