

Défi calcul mental n°16






Compétence travaillée : Connaître les tables de 2 et de 5

...../ 20 points

1/ Ecris seulement le résultat.

2/ Problème :

3/ Calcule le plus rapidement possible.

<input type="checkbox"/>		<input type="checkbox"/>		<input type="checkbox"/>	
--------------------------	---	--------------------------	---	--------------------------	---

$5 \times \dots = 45$

$2 \times \dots = 8$

$5 \times \dots = 25$

$2 \times \dots = 18$

$5 \times \dots = 15$

$2 \times \dots = 2$

© Les trouvailles de KarINETte

Défi calcul mental n°16






Compétence travaillée : Connaître les tables de 2 et de 5

...../ 20 points

1/ Ecris seulement le résultat.

2/ Problème :

3/ Calcule le plus rapidement possible.

<input type="checkbox"/>		<input type="checkbox"/>		<input type="checkbox"/>	
--------------------------	---	--------------------------	---	--------------------------	---

$5 \times \dots = 45$

$2 \times \dots = 8$

$5 \times \dots = 25$

$2 \times \dots = 18$

$5 \times \dots = 15$

$2 \times \dots = 2$

© Les trouvailles de KarINETte