

LES AIGUILLES :

La **petite aiguille** de la pendule indique les _____ .

La **grande aiguille** indique les _____ .

L'aiguille des heures parcourt deux fois le cadran en une journée car un jour compte _____ heures.

LECTURE DE L'HEURE :

1/ Pour lire l'heure, **on regarde d'abord où se trouve la petite aiguille.**

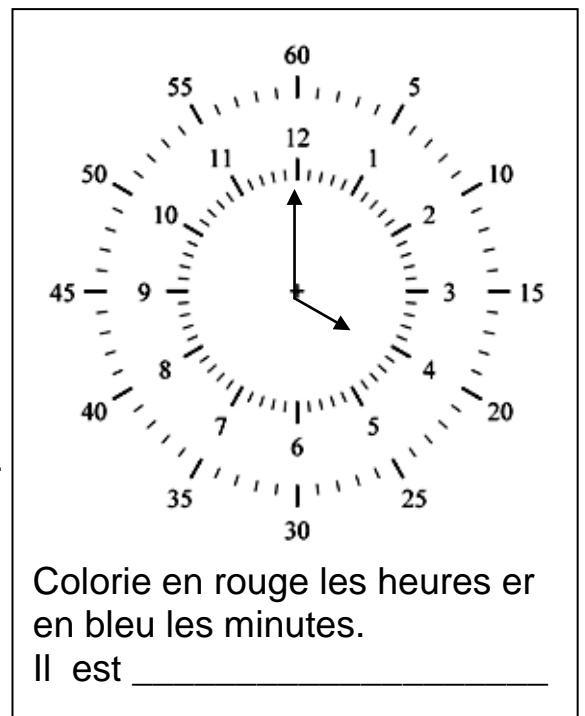
Le matin les heures se lisent de 1 heure à 12 heures (ou midi).

L'après-midi on continue après le 12, de 13 heures jusqu'à 24 heures (ou 00 ou minuit) :


Le « 1 » devient 13 heures, le « 2 » devient 14 etc...

2/ **On regarde ensuite où se trouve la grande aiguille :**


- si elle se trouve sur le 1, on ajoute 5 minutes,
- si elle se trouve sur le 2, on ajoute 10 minutes, etc.




Une heure est égale à _____ minutes.

LES QUARTS D'HEURE :

10 : 15 (matin)
dix heures et quart



8 : 30 (matin)
huit heures et demi



15 : 45 (après-midi)
seize heures moins le quart