




Vorname : \_\_\_\_\_

Datum: \_\_\_\_\_

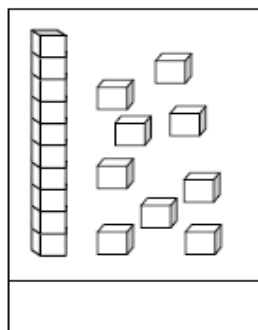
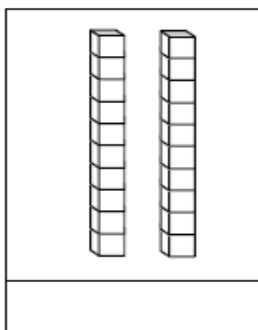
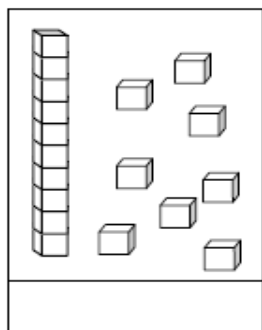
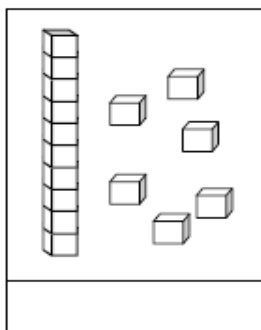


## Zahlen und Mengen : von 0 bis 20

1 Zähle und ergänze :



2 Ergänze:

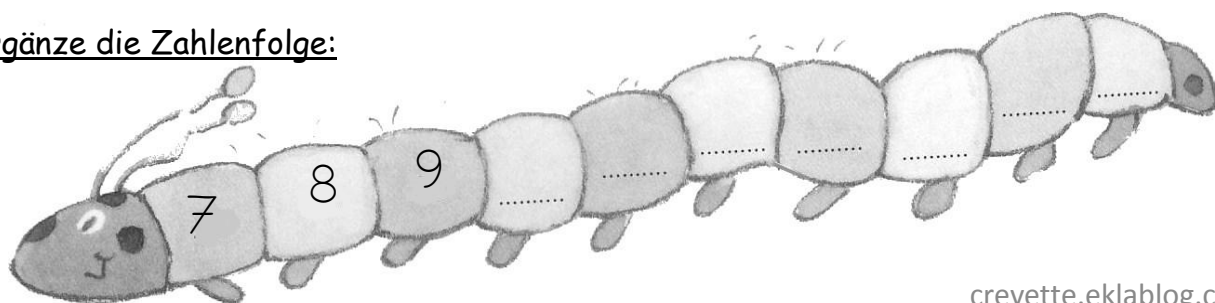


Les-cocinelles.fr

3 Ergänze die Tabelle:

Vorgänger	Zahl	Nachfolger
	14	
	17	
	19	
	10	

4 Ergänze die Zahlenfolge:



Vorname : \_\_\_\_\_

Datum: \_\_\_\_\_

## Zahlen und Mengen: von 0 bis 25



1 Verbinde die Zahlen in der richtigen Reihenfolge von 1 bis 25

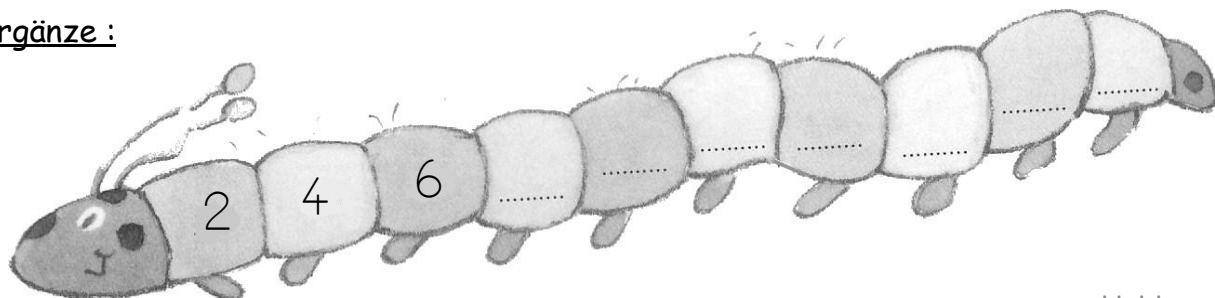


2 Ergänze:

12	$10 + 2$
14	
17	
11	

	$10 + 5$
	$10 + 3$
	$10 + 6$
	$10 + 9$

3 Ergänze :



Vorname : \_\_\_\_\_

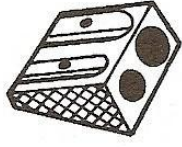

Datum: \_\_\_\_\_

# Zahlen und Mengen : von 0 bis 30

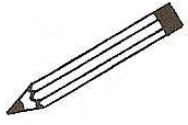


**1** Schreibe die fehlenden Zahlen :

3	....	....	6	
		....		
		....		
	9	....	....	12




	....	....	....	26
		....		
		....		
17	....	....	....	





	....	....	....						
		....							
		....							
9	....	....					....	....	19

20	....	....					....	....	30
		....					....		
		....					....		
		....					....		

**2** Mach Zehnerpakete, zähle und ergänze:





Zehner	Einer
	



Zehner	Einer
	



Zehner	Einer
	

Vorname : \_\_\_\_\_

Datum: \_\_\_\_\_

## Zahlen und Mengen : von 0 bis 30



1 Ergänze mit  $<$ ,  $>$  oder  $=$ :

12 ..... 15

21 ..... 12

18 ..... 8

19 ..... 6

20 ..... 12

14 ..... 14











2 Ordne die Zahlen nach der Größe und beginne mit der kleinsten Zahl

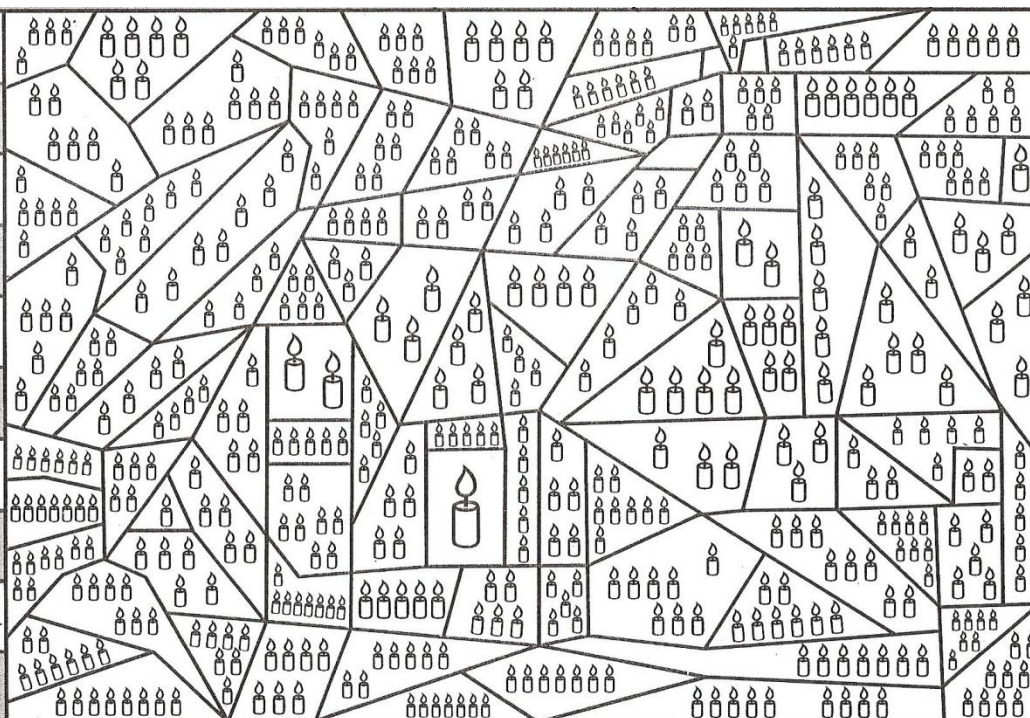
21 - 14 - 3 - 10 - 19 - 27

□ □ □ □ □ □

[crevette.eklablog.com](http://crevette.eklablog.com)

3 Zähle und male das Bild mit den entsprechenden Farben an :

0	rot	
1	violett	
2	schwarz	
3	orange	
4	gelb	
5	grau	
6	blau	
7	grün	
8	braun	
9	rosa	



Vorname : \_\_\_\_\_

Datum: \_\_\_\_\_

**Zahlen und Mengen : von 0 bis 30**

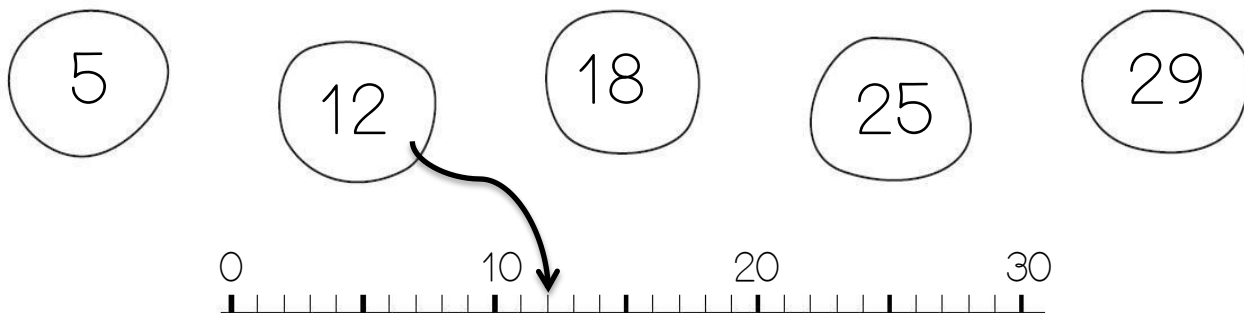


**1** Ergänze:

21	20 + 1
19	
20	
28	
12	

	20 + 6
	10 + 5
	20 + 7
	20 + 9
	10 + 7

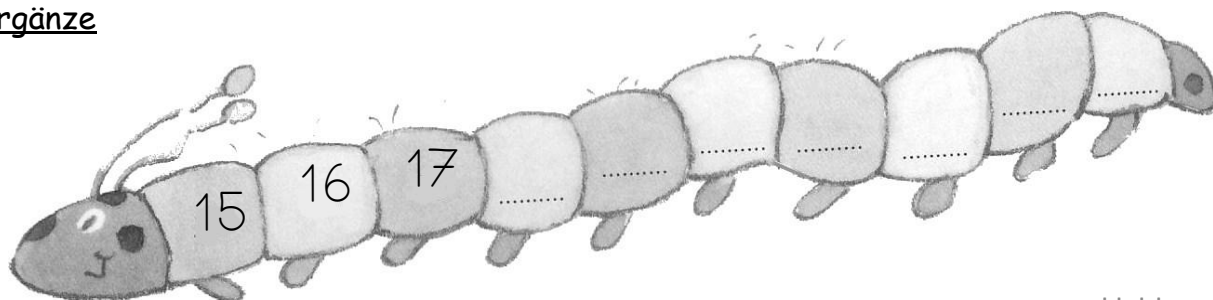
**2** Verbinde jede Zahl mit der richtigen Stelle auf dem Zahlenstrahl



**3** Ergänze:

Vorgänger	Zahl	Nachfolger
	20	
	23	
	30	
	15	

**4** Ergänze





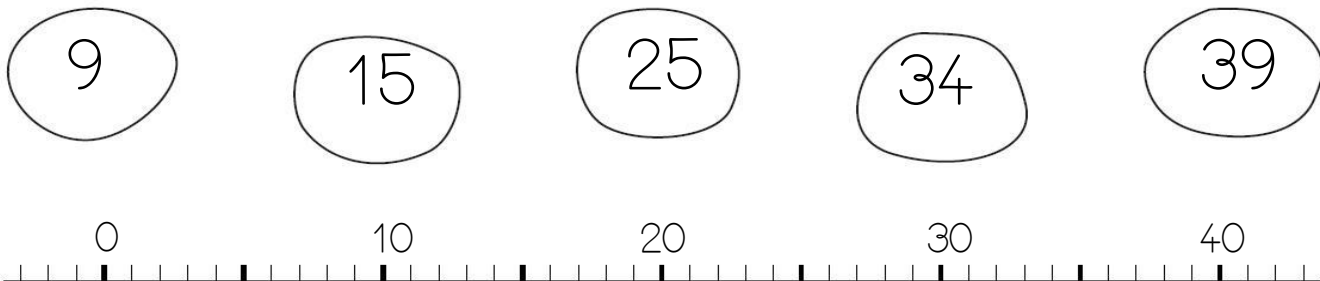
Vorname : \_\_\_\_\_

Datum: \_\_\_\_\_

## Zahlen und Mengen : von 0 bis 40



1 Verbinde jede Zahl mit der richtigen Stelle auf dem Zahlenstrahl:



2 Ergänze mit <, > oder =:



32 ..... 25

28 ..... 8

19 ..... 26

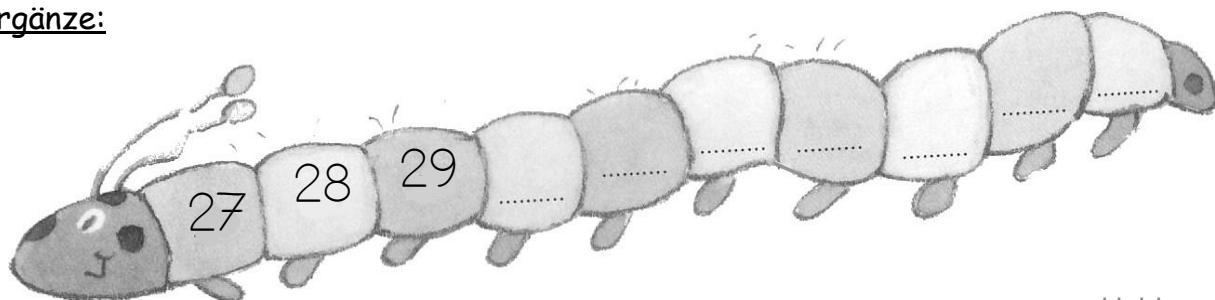
12 ..... 21

23 ..... 32

3 Ergänze:

Vorgänger	Zahl	Nachfolger
	40	
	31	
	27	
	35	

4 Ergänze:



Vorname : \_\_\_\_\_

Datum: \_\_\_\_\_

## Zahlen und Mengen : von 0 bis 40



1 Ergänze:

24	2 Z 4 E
35	
12	
30	

	2 Z 5 E
	3 Z 7 E
	2 Z 2 E
	4 Z 0 E

2 Male die Zehnerziffer rot an und die Einerziffer blau an :

32

25

15

38

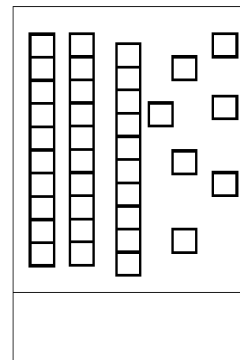
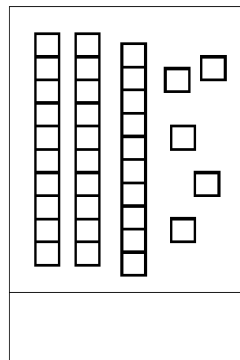
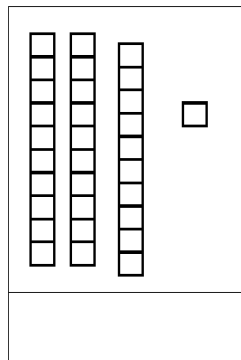
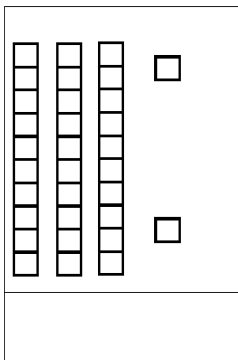
28

8

18

6

3 Ergänze:



Les-cocinelles.fr

4 Ordne die Zahlen nach der Größe und beginne mit der kleinsten Zahl:

25 - 34 - 9 - 18 - 38 - 26

\_\_\_\_\_

# Zahlen und Mengen : von 0 bis 40



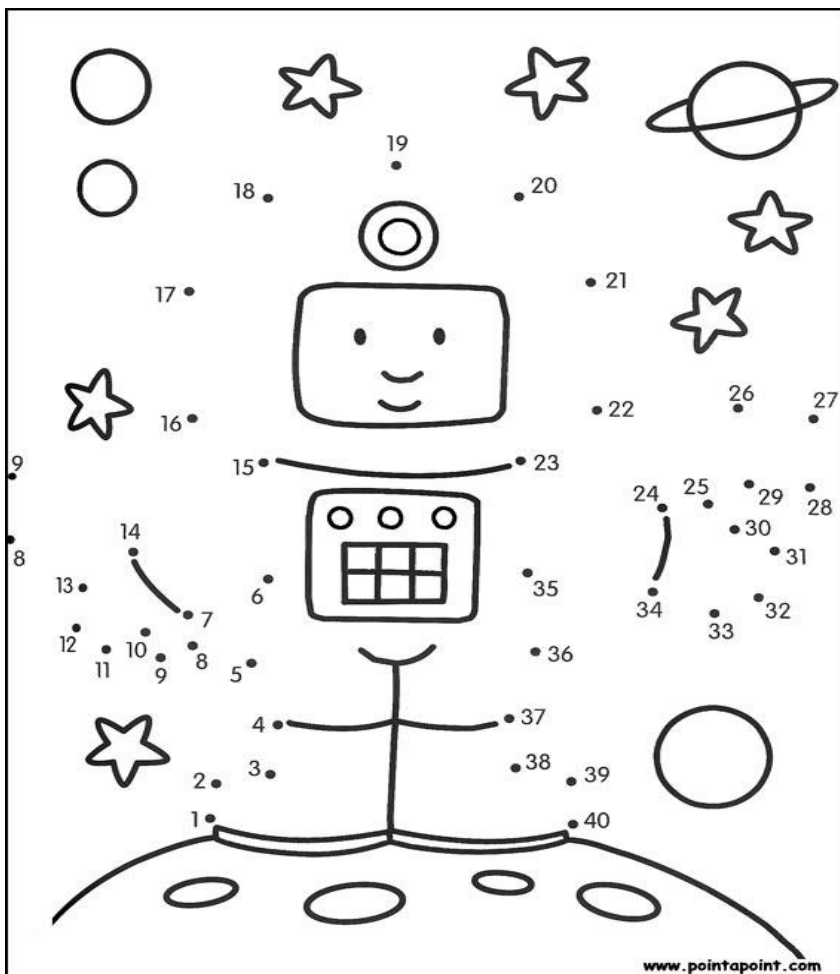
**1** Mach Zehnerpakete, zähle und ergänze:

	<table border="1"> <tr> <td>Z</td> <td>E</td> </tr> <tr> <td> </td> <td> </td> </tr> </table>	Z	E		
Z	E				
	Es gibt ____ Sterne				

	<table border="1"> <tr> <td>Z</td> <td>E</td> </tr> <tr> <td> </td> <td> </td> </tr> </table>	Z	E		
Z	E				
	Es gibt ____ Herzen				

	<table border="1"> <tr> <td>Z</td> <td>E</td> </tr> <tr> <td> </td> <td> </td> </tr> </table>	Z	E		
Z	E				
	Es gibt ____ Kreuze				

**2** Verbinde die Punkte von 1 bis 40 :



**3** Ratespiel :

Meine Zahl ist kleiner als 40 aber größer als 30.

Die Einerziffer ist 6.

Welche Zahl ist das?





**Zahlen und Mengen : von 0 bis 50**

**1 Ergänze mit den fehlenden Zahlen :**

The first circular pattern has segments with numbers 31, 38 and several empty segments with dots. The second circular pattern has segments with numbers 38, 43 and several empty segments with dots. A pencil icon is positioned between the two circles. Below the circles is a sequence of boxes: [40] - [....] - [....] - [....] - [....] - [....] - [50].

**2 Kreise in jeder Reihe die kleinste Zahl ein :**

→	46	28	35	44	29	24	42
→	50	10	25	45	30	20	40
→	53	5	14	32	49	42	41
→	39	37	35	25	27	29	31

**3 Verbinde die Zahlen in der richtigen Reihenfolge:**

A dot-marker puzzle where numbers 1 through 50 are scattered around four illustrations: a skull and crossbones, a parrot, a flower, and a hand. The goal is to connect the dots in the correct order to complete the drawings.

Vorname : \_\_\_\_\_

Datum: \_\_\_\_\_

## Zahlen und Mengen : von 0 bis 50

3  15

1 Ergänze mit <, > oder =:

22 .....  $10 + 2$

45 .....  $40 + 2$


18 .....  $10 + 8$

39 .....  $30 + 9$

26 .....  $20 + 8$

40 .....  $10 + 10 + 10$

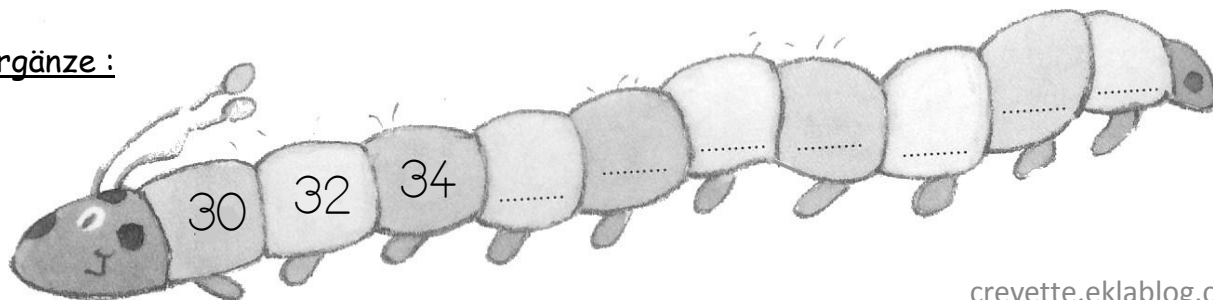
2 Mach Zehnerpakete und zähle die Schmetterlinge:



3 Ordne die Zahlen von der größten bis zur kleinsten Zahl

÷  $26 - 34 - 19 - 18 - 8 - 46$

3 Ergänze :



Vorname : \_\_\_\_\_

Datum: \_\_\_\_\_

## Zahlen und Mengen : von 0 bis 50

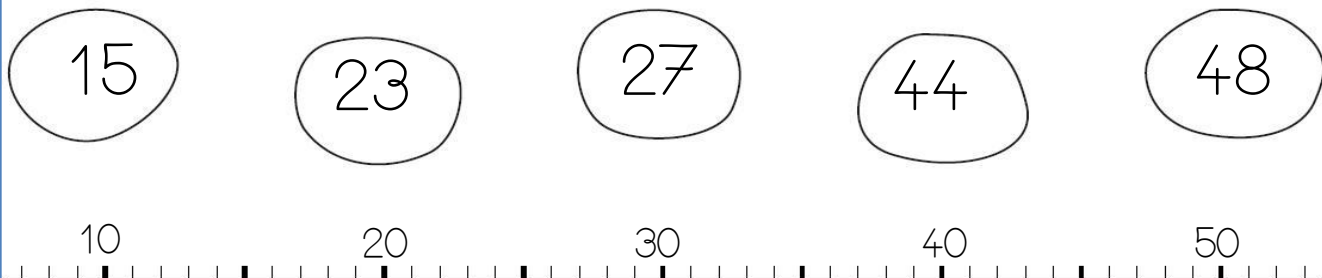


1 Ergänze:

41	40 + 1
49	
30	
38	
42	

	40 + 6
	30 + 5
	20 + 7
	30 + 9
	10 + 9

2 Verbinde die Zahlen mit der richtigen Stelle auf dem Zahlenstrahl



3 Ergänze:

Vorgänger	Zahl	Nachfolger
		31
	43	
38		
		49

4 Male an wenn es 50 macht :

50	40 + 10	dreiBig	40	35 + 5
30 + 10	5 Zehner	25 + 25	4 Zehner	5 Z 3 E
46 + 3	20 + 25	42 + 8	30 + 15	10 + 20
vierrzig	41 + 4	fünfrzig	45 + 5	5 Z 0 E

Vorname : \_\_\_\_\_

Datum: \_\_\_\_\_

## Zahlen und Mengen : von 0 bis 60

3  15

1 Ergänze mit  $<$ ,  $>$  oder  $=$ :

42

.....

4d 3u

51

.....

5d

34

.....

2d 4u

39

.....

3d 9u

46

.....

6d 4u

50

.....

5d

2 Wie viel Geld hat jedes Tier? Zähle :



Wer hat am meisten?

3 Male die Zehnerziffer rot an und die Einerziffer blau an :

52

55

1

48


26

12

30

59

4 Ergänze :



**Zahlen und Mengen : von 0 bis 60**



**1** Kreise in jeder Reihe die kleinste Zahl ein

→	40	25	35	24	29	44	22
→	50	10	25	45	30	60	40
→	53	35	34	32	49	42	41
→	39	37	55	25	57	59	31

**2** Zeichne mit Zehnerstangen und Einer :

<u>43</u> 	<u>25</u>
<u>31</u>	<u>50</u>

**3** Verbinde die Zahlen von 0 bis 60 :

**4** Ratespiel :

Meine Zahl hat 5 Zehner.

Sie ist kleiner als 51.

Welche Zahl ist das?



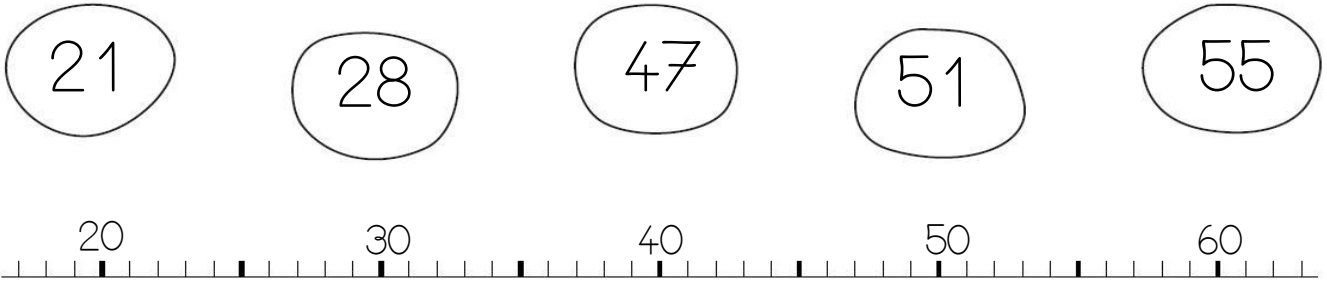
Vorname : \_\_\_\_\_

Datum: \_\_\_\_\_

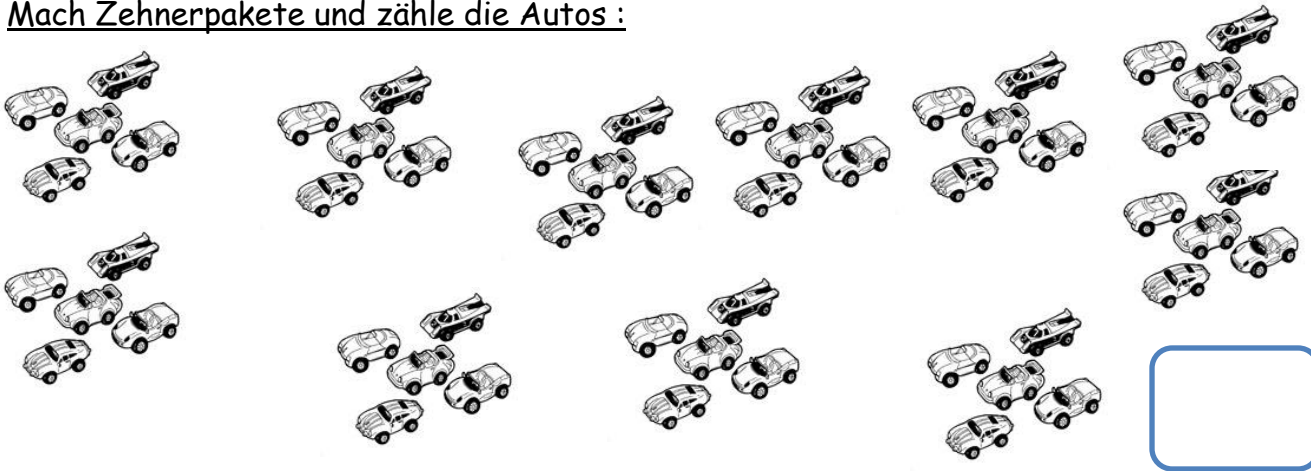
**Zahlen und Mengen : von 0 bis 60**



**1** Verbinde die Zahlen mit der richtigen Stelle auf dem Zahlenstrahl :




**2** Mach Zehnerpakete und zähle die Autos :



**3** Schreibe die Zahlen in der richtigen Reihenfolge in die Wagons :

51 - 58 - 42 - 29 - 37



**4** Male an wenn es 60 macht :

60	$40 + 20$	dreißig	40	$35 + 5$
$30 + 10$	6 Zehner	$30 + 30$	6 Einer	5 Z 3 E
$46 + 3$	$25 + 25$	$50 + 10$	$30 + 20$	$10 + 20$
vierzig	$50 + 9$	sechzig	$55 + 5$	6 Z 0 E

Vorname : \_\_\_\_\_

Datum: \_\_\_\_\_

## Zahlen und Mengen : von 0 bis 69

3  15

1 Ergänze mit  $<$ ,  $>$  oder  $=$ :

62 .....  $50 + 2$

45 .....  $40 + 2$

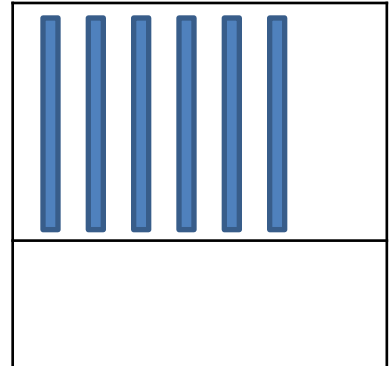
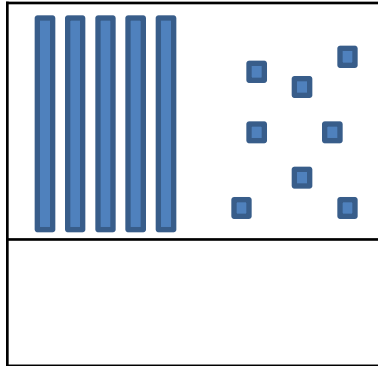
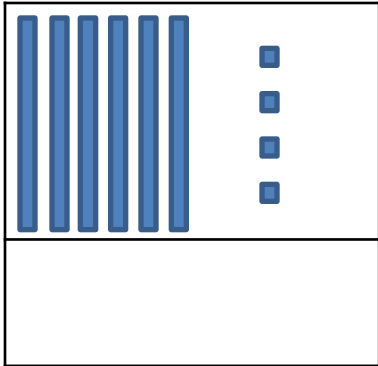
53 .....  $50 + 3$

69 .....  $60 + 7$

67 .....  $60 + 5$


60 .....  $20 + 20 + 20$

2 Zähle und ergänze :




3 Schreibe die Zahlen in der richtigen Reihenfolge in die Wagons :

69 - 49 - 62 - 58 - 67



4 Ergänze :



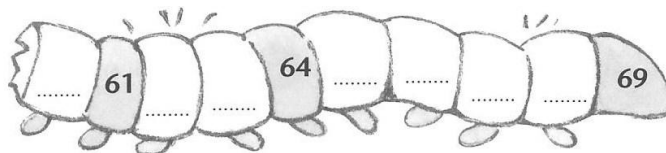
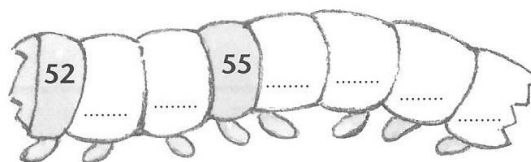
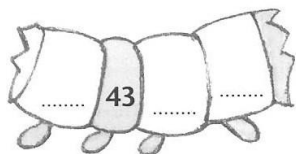
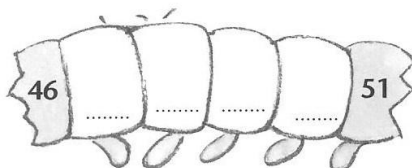
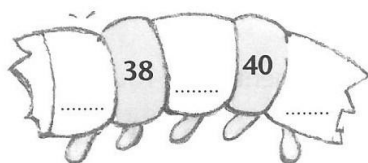
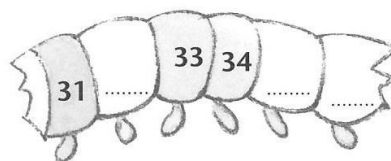

Vorname : \_\_\_\_\_

Datum: \_\_\_\_\_

## Zahlen und Mengen : von 0 bis 69



1 Ergänze und verbinde die Raupenstücke in der richtigen Reihenfolge :



2 Ergänze :

62	6 Z 2 E
50	
65	
48	
32	

	6 Z 3 E
	5 Z 1 E
	5 Z
	6 Z 9 E
	8 E

3 Male an wenn es 69 macht :

69	$50 + 9$	dreiBig	40	$35 + 5$
$60 + 9$	6 E 9 Z	$30 + 30$	6 Einer	5 Z 3 E
6 Z 9 E	neunundsechzig	$70 - 1$	$30 + 20$	$10 + 20$
sechzig	$50 + 9$	9 E 6 Z	$50 + 19$	$9 + 60$

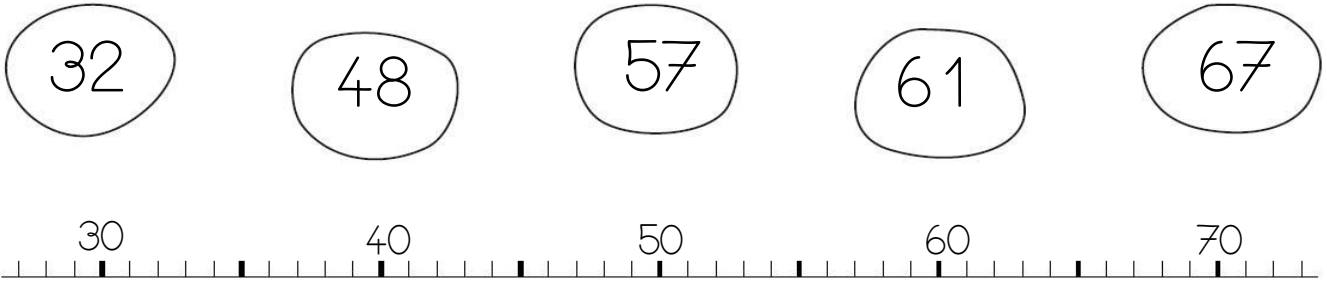
Vorname : \_\_\_\_\_

Datum: \_\_\_\_\_

## Zahlen und Mengen : von 0 bis 69



1 Verbinde die Zahlen mit der richtigen Stelle auf dem Zahlenstrahl :




2 Ergänze

61	$60 + 1$
59	
50	
41	
52	

	$60 + 8$
	$60 + 2$
	$50 + 3$
	$50 + 5$
	$60 + 6$

3 Verbinde die Zahlen von 0 bis 70:



4 Ratespiel :

Meine Zahl ist kleiner als 60. Aber sie ist größer als 40.

Die Zehnerziffer ist nicht 4 und die Einerziffer ist 2.

Welche Zahl ist das?