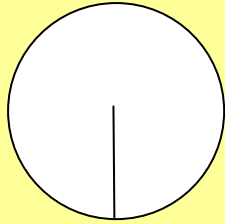


GEOMETRIE

Comment s'appelle le trait qui part de l'extérieur du cercle et rejoint le centre ?



Choisis la bonne réponse.

- Le cercle
- Le périmètre
- Le rayon

GEOMETRIE

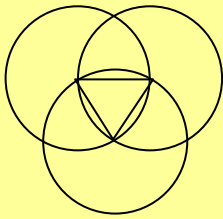
Choisis la bonne réponse.



Le rayon

GEOMETRIE

Combien y a-t-il de figures différentes ?



Choisis la bonne réponse.

- 1
- 2
- 3

GEOMETRIE

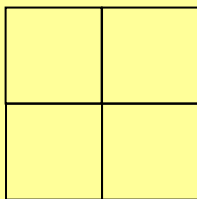
Choisis la bonne réponse.



2

GEOMETRIE

Combien y a-t-il de carrés ?



Choisis la bonne réponse.

- 4
- 5
- 6

GEOMETRIE

Choisis la bonne réponse.



5

GEOMETRIE

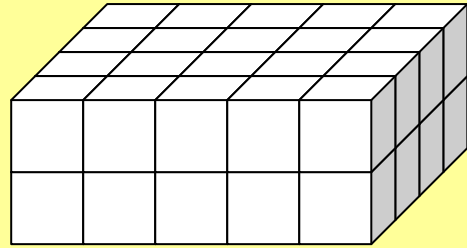
Choisis la bonne réponse.



40 cubes

GEOMETRIE

Combien y a-t-il de cubes ?



Choisis la bonne réponse.

- 10
- 40
- 80

GEOMETRIE

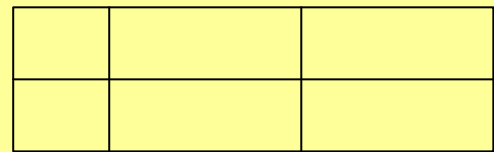
Choisis la bonne réponse.



16

GEOMETRIE

Combien comptes-tu de rectangles ?



Choisis la bonne réponse.

- 7
- 10
- 16

GEOMETRIE

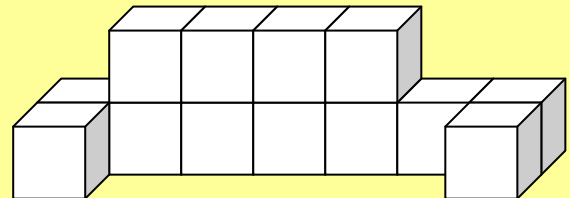
Choisis la bonne réponse.



13

GEOMETRIE

Combien de cubes y a-t-il ?



Choisis la bonne réponse.

- 13
- 14
- 15