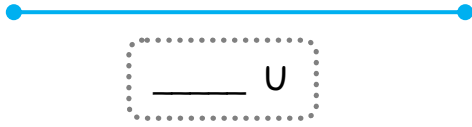


1 Mesure de longueurs

A) Utilise l'unité U et V de la page de matériel A de ton fichier et réponds :



B) Quel est le chemin le plus long ?





Le chemin de la souris verte mesure _____ U.

Le chemin de la souris rose mesure _____ U.

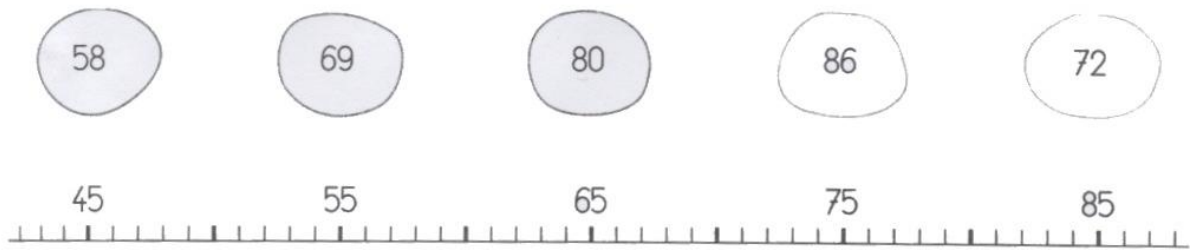
Le chemin de la souris _____ est le plus long.

2 Construire la droite numérique

A) Complète la droite numérique :



B) Relie chaque nombre à son repère :



Classe les nombres des bulles du plus petit au plus grand :

3 Problème de logique : jeu du portrait

A) Lis et réponds aux questions:

Baptiste, Amélie et Lilina mangent chacun un goûter différent : une poire, des gâteaux au chocolat et une brioche.

Amélie n'aime pas le chocolat.

Lilina ne mange que des fruits. Qui mange quoi ?

Baptiste mange _____.

Amélie mange _____.

Lilina mange _____.

Je ne suis ni blanc ni carré : je suis _____



Je ne suis ni noir ni pointu : je suis _____

B



Je suis ni blanc ni rond : je suis _____

J'ai 3 côtés : je suis _____

