




Monsieur Romani fait des courses. Il dépense 87 € au supermarché et 28 € chez le boucher. Combien dépense-t-il en tout ?



Dans un parking, il y a 26 rangées de 10 places. Le parking a été construit en 1992.

Combien y a-t-il de places dans ce parking ?



Colorie en bleu la question à laquelle tu dois répondre.
Colorie en vert les informations utiles.
Colorie en rouge les informations inutiles.

