

Nombre

Nom _____

Prénom _____

Date ____/____/____

<https://laclassobleue.fr/>

① Ecris ces fractions en lettres.

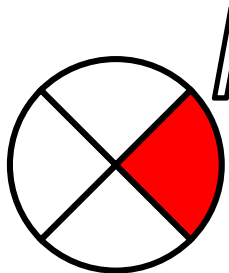
- a) $\frac{1}{5}$ b) $\frac{7}{2}$ c) $\frac{4}{6}$ d) $\frac{3}{4}$ e) $\frac{6}{8}$ f) $\frac{9}{3}$ g) $\frac{5}{12}$ h) $\frac{8}{7}$ i) $\frac{20}{100}$

A _____
B _____
C _____


D _____
E _____
F _____

G _____
H _____
I _____

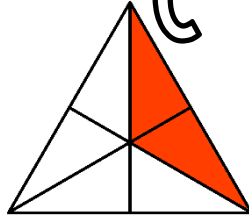
② Ecris les fractions représentées par les parties coloriées.



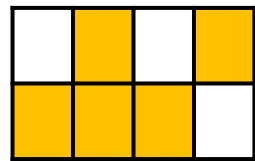
A




B



C



D



E

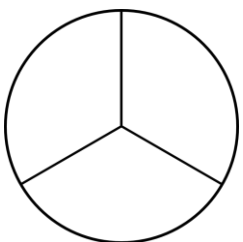
A _____ B _____ C _____ D _____ E _____



Ecris
la fraction B **en lettres** !

_____ B _____

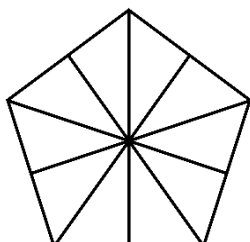
③ Colorie pour obtenir la fraction demandée.




$\frac{2}{3}$




$\frac{3}{5}$



$\frac{6}{10}$



$\frac{4}{9}$



$\frac{7}{8}$

Nombres

Nom _____

Prénom _____

Date ___/___/___

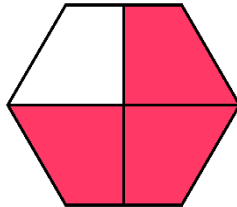
<https://laclassobleue.fr/>

① Ecris les fractions dictées par le maître.


② Est-il possible d'écrire la partie colorée sous forme d'une fraction ?



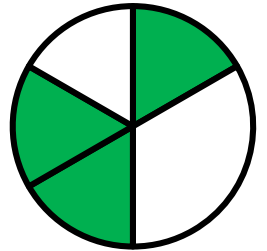
OUI NON



OUI NON



OUI NON



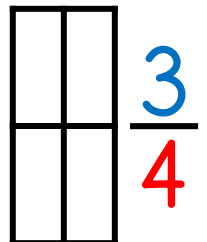
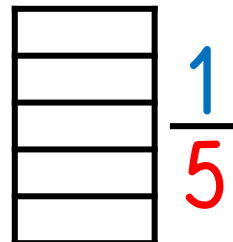
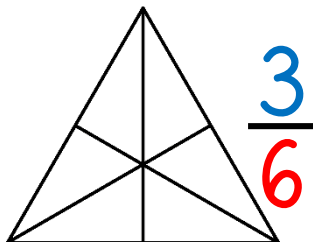
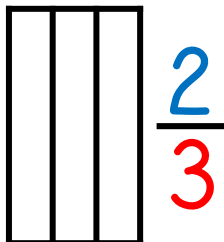
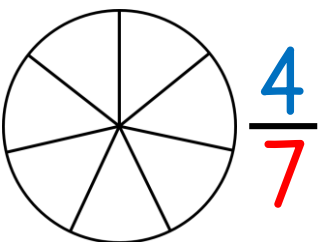
OUI NON

③ Ecris en chiffres.

- | | | | |
|---------------|--------------------|-------------------|---------------------|
| a) un demi | d) dix cinquièmes | g) un dixième | j) neuf centièmes |
| b) six quarts | e) sept neuvièmes | h) huit douzièmes | k) quatre sixièmes |
| c) cinq tiers | f) trois septièmes | i) deux huitièmes | l) vingt trentièmes |

A B C D E F G H I J K L

④ Colorie pour obtenir la fraction demandée.



Nombre

Nom _____ Prénom _____ Date ____/____/____

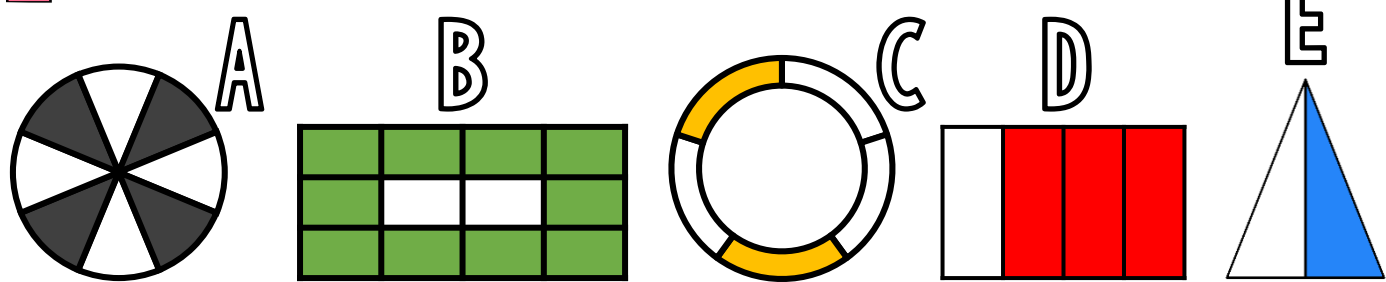
<https://laclassedbleue.fr/>

① Ecris ces fractions en lettres.

- a) $\frac{3}{4}$ b) $\frac{5}{9}$ c) $\frac{6}{7}$ d) $\frac{9}{2}$ e) $\frac{4}{5}$ f) $\frac{7}{8}$ g) $\frac{2}{10}$ h) $\frac{1}{3}$ i) $\frac{15}{100}$

A	D	G
B	E	H
C	F	I

② Ecris les fractions représentées par les parties coloriées.




A B C D E



Ecris la fraction C en lettres!

_____ C _____

③ Colorie pour obtenir la fraction demandée.



Nombre

Nom _____ Prénom _____ Date ____/____/____

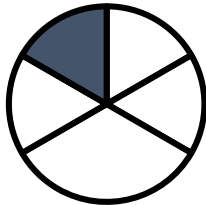
<https://laclassebleue.fr/>

1 Ecris les fractions dictées par le maître.


2 Est-il possible d'écrire la partie colorée sous forme d'une fraction ?



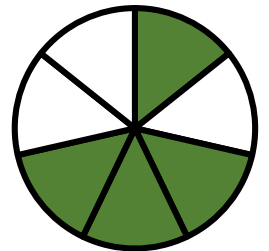
OUI NON



OUI NON



OUI NON



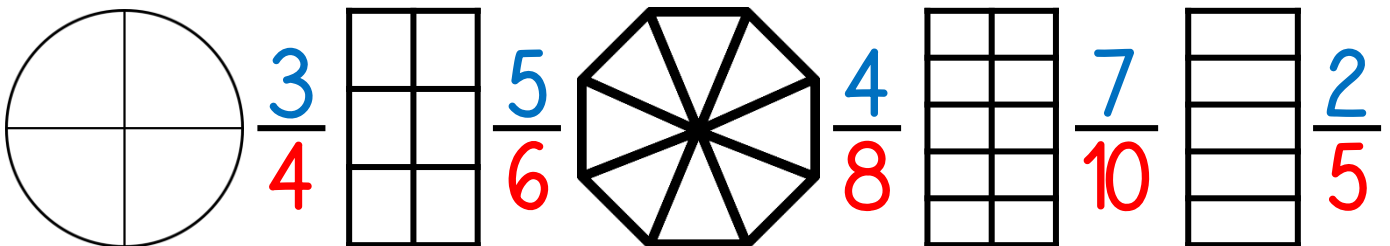
OUI NON

3 Ecris en chiffres.

- | | | | |
|----------------|-------------------|----------------------|----------------|
| a) un tiers | d) cinq huitièmes | g) quatre cinquièmes | j) deux demis |
| b) deux quarts | e) neuf sixièmes | h) dix-sept tiers | k) huit quarts |
| c) trois demis | f) dix douzièmes | i) quinze vingtièmes | l) un centième |

A B C D E F G H I J K L

4 Colorie pour obtenir la fraction demandée.



Nombres

Nom _____

Prénom _____

Date ____/____/____

<https://laclassebleue.fr/>

① Ecris ces fractions en lettres.

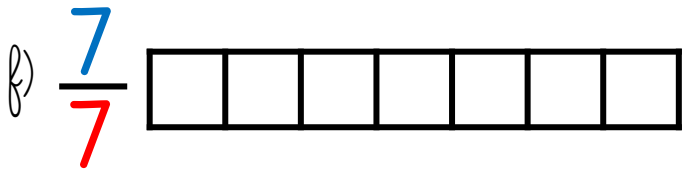
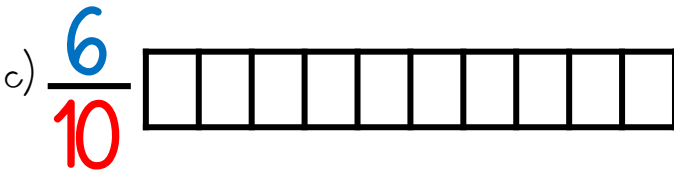
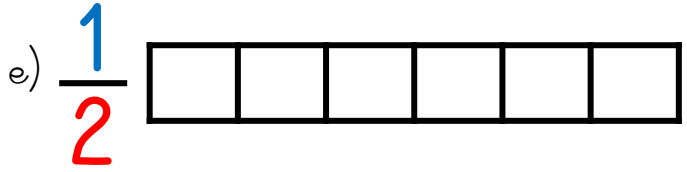
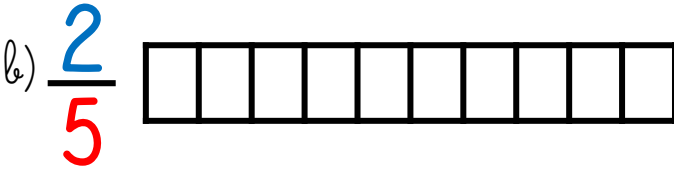
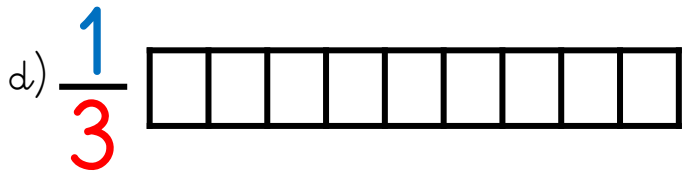
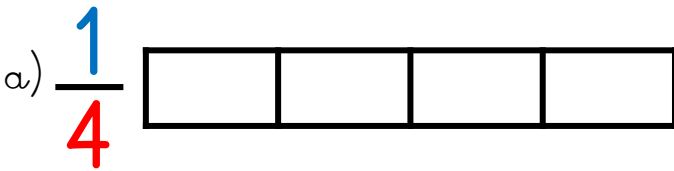
- a) $\frac{4}{5}$ b) $\frac{7}{3}$ c) $\frac{2}{6}$ d) $\frac{9}{9}$ e) $\frac{1}{4}$ f) $\frac{3}{7}$ g) $\frac{12}{15}$ h) $\frac{8}{2}$ i) $\frac{50}{100}$

A _____
B _____
C _____

D _____
E _____
F _____

G _____
H _____
I _____

② Colorie la partie correspondant à chaque fraction.



③ Ecris les fractions dictées par le maître.
