


Compétence: Identifier des quadrilatères dans des collections de figures simples.

MATÉRIEL

Une équerre
Une bande de papier
ou un compas

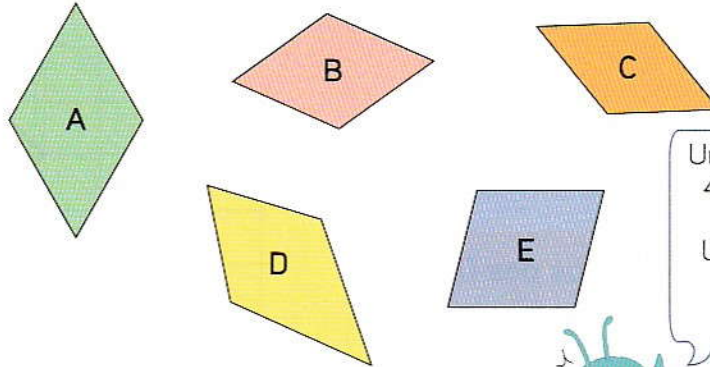
Date

Observe



Les polygones qui ont 4 côtés sont des quadrilatères.

1 Quelles figures sont des losanges ?

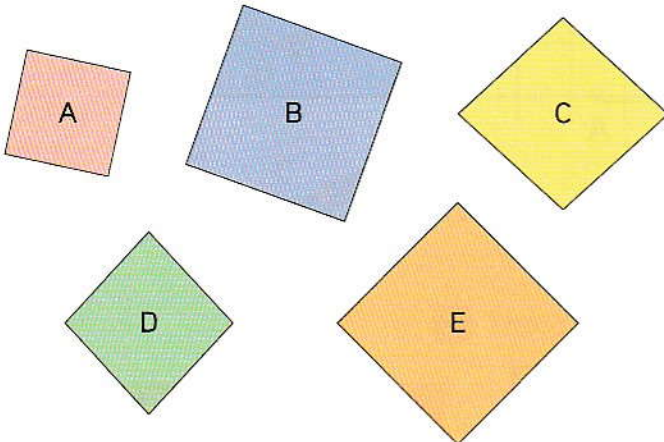


Un losange possède 4 côtés de même longueur. Utilise une bande de papier ou un compas.



Les figures sont des losanges.

2 Quelles figures sont des carrés ?

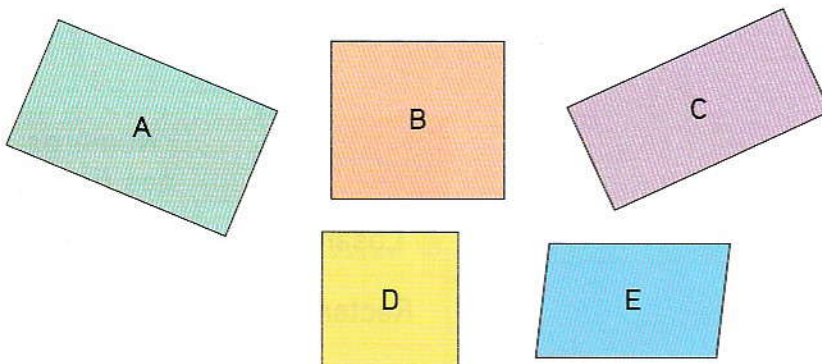


Un carré possède 4 angles droits et 4 côtés de même longueur. Utilise une équerre et une bande de papier ou un compas.



Les figures sont des carrés.

3 Quelles figures sont des rectangles ?



Un rectangle possède 4 angles droits et les côtés opposés de même longueur. Utilise une équerre et une bande de papier ou un compas.



Les figures sont des rectangles.

21

Les quadrilatères (2)

MATÉRIEL

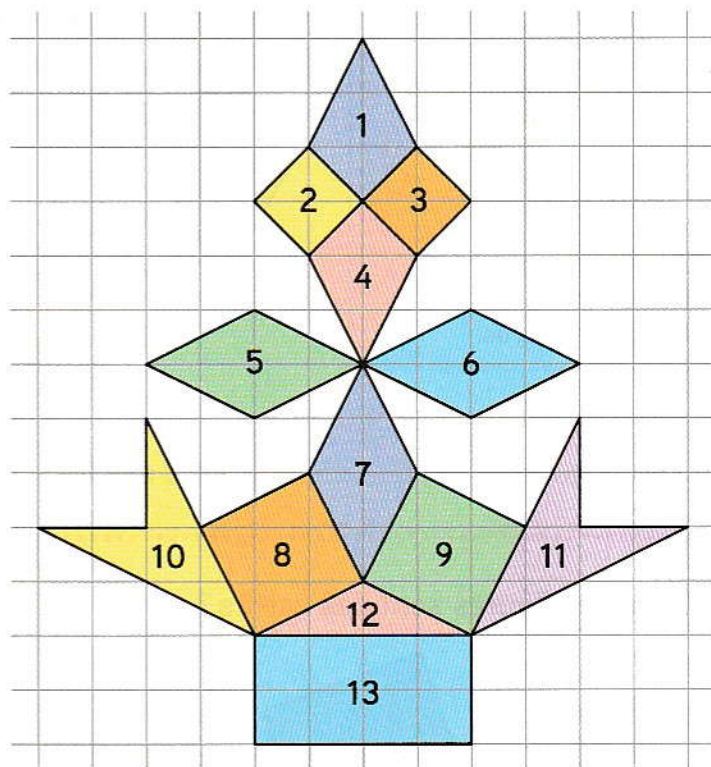
Une équerre
Une bande de papier
ou un compas

Compétence : Identifier des quadrilatères dans des figures complexes.

Date

1 Complète le tableau.

Quadrilatère	Numéros des figures
Losange
Rectangle
Carré



2 Complète les deux tableaux.

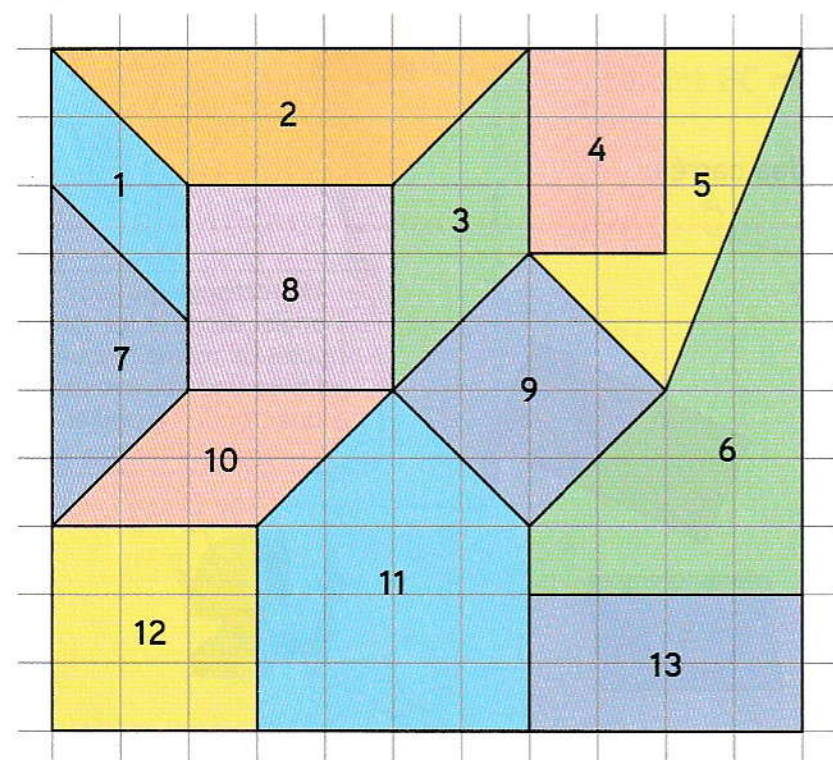


Figure	Numéro des figures
Quadrilatère
Non quadrilatère

Quadrilatère	Numéros des figures
Losange
Rectangle
Carré