

mon prénom :

Evaluation : Mathématiques CM1

la date :

Compétences du LSUN :

Non
atteint

Partiellement
atteint

Atteint

Dépassé

Reconnaitre et utiliser quelques relations géométriques / (notions d'alignement, d'appartenance, de perpendicularité, de parallélisme, d'égalité de longueurs)

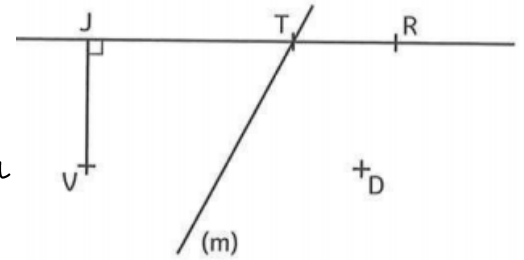
Exercice 1 : Complète avec des mots de géométrie.

Les points J, R, T sont

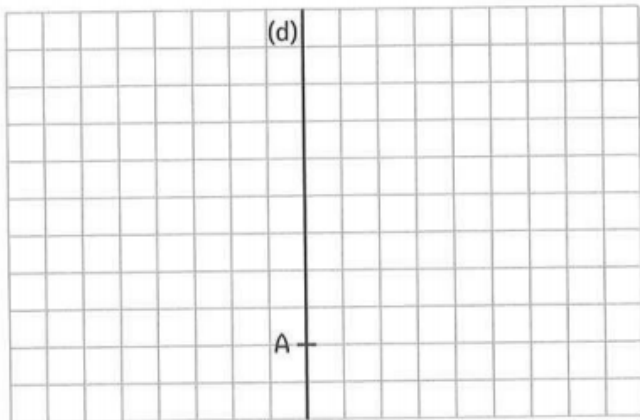
[TR] est un

[JV] et [JT] sont

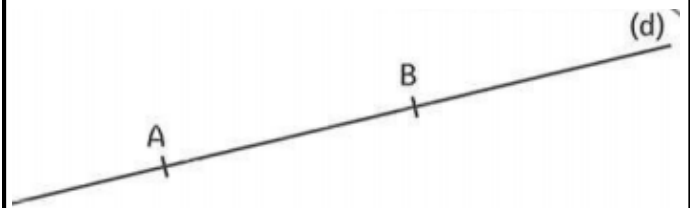
Le T est situé sur la
..... (m).



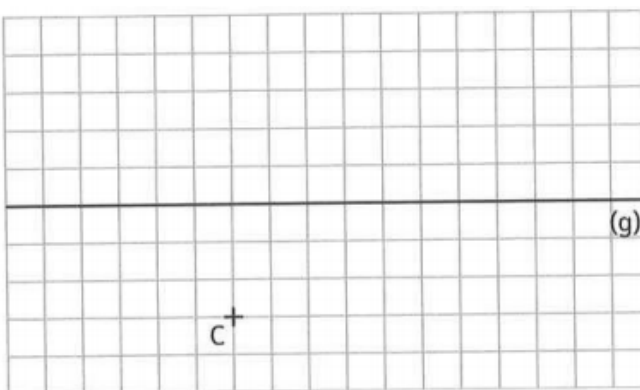
Exercice 2 : Trace la droite perpendiculaire à la droite (d) qui passe par le point A.



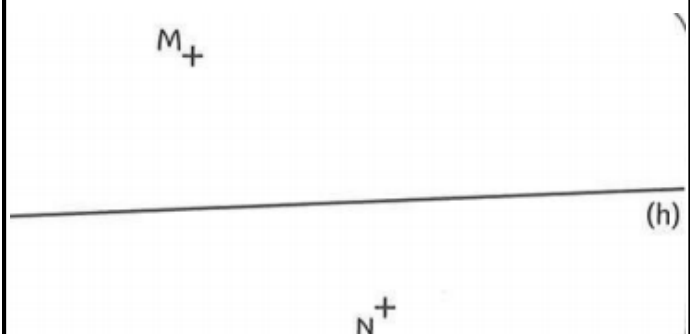
Exercice 3 : Trace deux droites perpendiculaires à la droite (d), l'une passe par le point A, l'autre passe par le point B.



Exercice 4 : Trace la droite parallèle à la droite (g) qui passe par le point C.



Exercice 4 : Trace deux droites parallèles à la droite (h), l'une passe par le point M, l'autre passe par le point N.



Signature des parents

