

Prénom:

# PLAN DE TRAVAIL N°11 - CE1



1

## Conjugaison

Tu complètes le tableau:

	fêter	célébrer	danser
vous			
je			
elles			

2

Je conjugue le verbe au présent:

- Nous (balayer) ..... la salle.  
Il (crier) ..... beaucoup trop fort.  
Les étoiles (briller) ..... dans le ciel.  
Les élèves (additionner) .....  $26 + 56$ .  
Ils (trouver) ..... le bon résultat.  
Tu (plier) ..... ta feuille en deux.  
Nous (voyager)..... autour du monde.

3

Tu entoures le verbe en rouge, le sujet en bleu et tu trouves l'infinitif.



Les rennes tirent le traineau du Père Noël.

Les lutins fabriquent des jouets pour les enfants.

Tu envoies ta lettre au Père Noël.

Le Saint Nicolas apporte des bonbons à l'école.

Le Père Fouettard attrape les enfants désobéissants.

Maman achète du pain d'épices.

Je décore mon sapin avec des boules.

J'aime les repas de Noël.

Elles chantent des chansons autour du sapin.





## Orthographe



Je colorie les mots bien écrits  
(ceux de ma dictée)

Une épée	L'èè	Le cinéma	Le ner	Du papier
aller	Un bébé	Une cler	L'été	chamter
Un bebè	Une épais	Une fée	Du pappier	Une fait
aler	Le nez	Le sinéma	chanter	Une clé



## Orthographe

Devinettes: je cherche la réponse sur ma fiche du son é

- C'est un animal roux, avec une queue en panache

- Le pirate part toujours à sa recherche.

- C'est un vêtement d'hiver.

- On les range dans notre casier, ils sont grands ou petits.



## Vocabulaire



Cherche les mots dans le dictionnaire et écris le numéro de la page.

traîneau \_\_\_\_\_

guirlandes \_\_\_\_\_

décorations \_\_\_\_\_

neige \_\_\_\_\_

lutin \_\_\_\_\_



Je colorie chaque paire de contraire d'une même couleur:

monter	dur	foncé	entrer
léger	beau	descendre	gentil
pauvre	sortir	méchant	lourd
clair	riche	mou	laid



## Écriture

Je copie la phrase:



Iridore et Isabelle partent en vacances  
en Inde. C'est un immense pays!




## Numération

Ecris en lettres:



248	
526	
847	
971	
675	
392	



Décompose comme dans l'exemple:

EX:  $258 = 200 + 50 + 8$

842 = \_\_\_\_\_

654 = \_\_\_\_\_

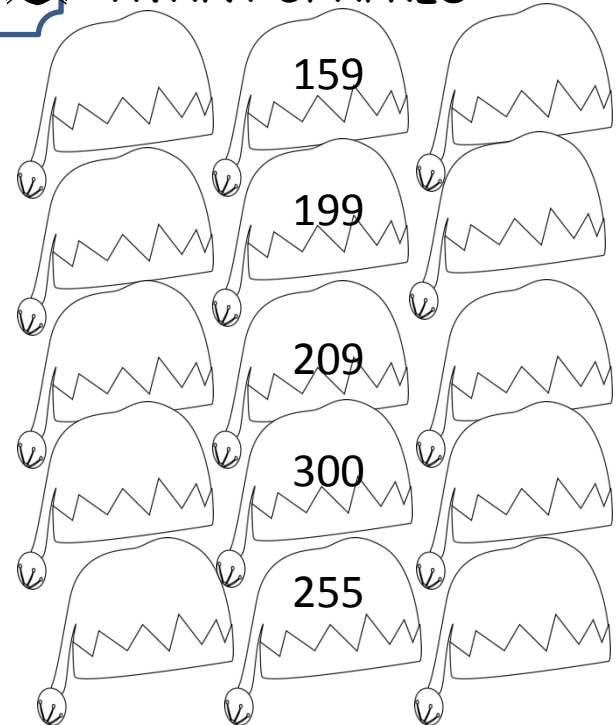
320 = \_\_\_\_\_

709 = \_\_\_\_\_

555 = \_\_\_\_\_

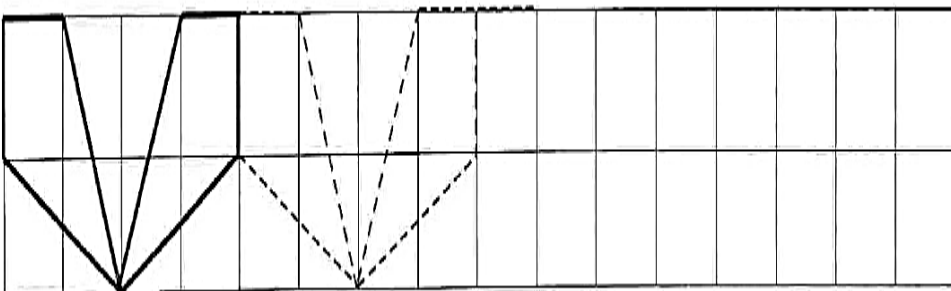
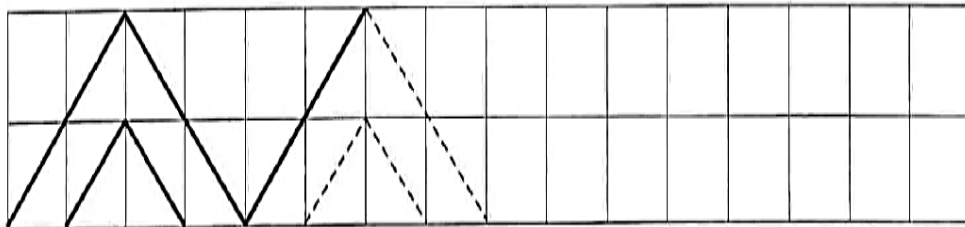

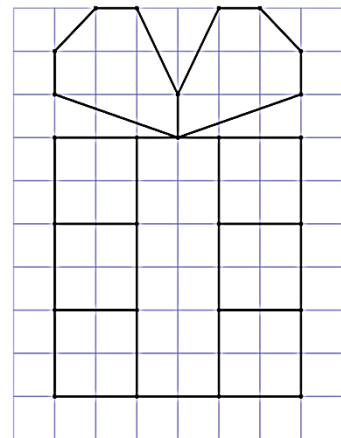


Complète avec le nombre  
AVANT et APRES

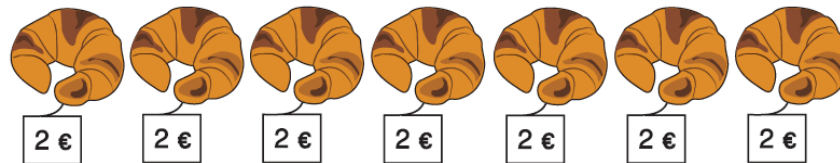


# Géométrie

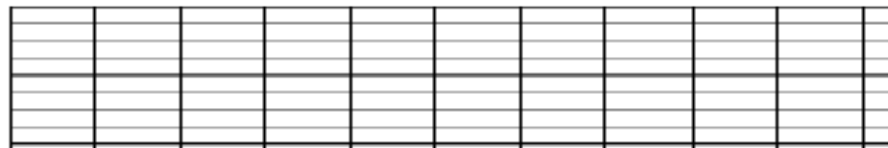
Je reproduis la figure et je colorie



Jérémy achète 7 croissants qui coûte 2 euros chacun.



Trouve combien Jérémy a dépensé. Fais une multiplication et une phrase réponse:



Il paie avec un billet de 20 euros. Combien d'argent la boulangère va lui rendre?



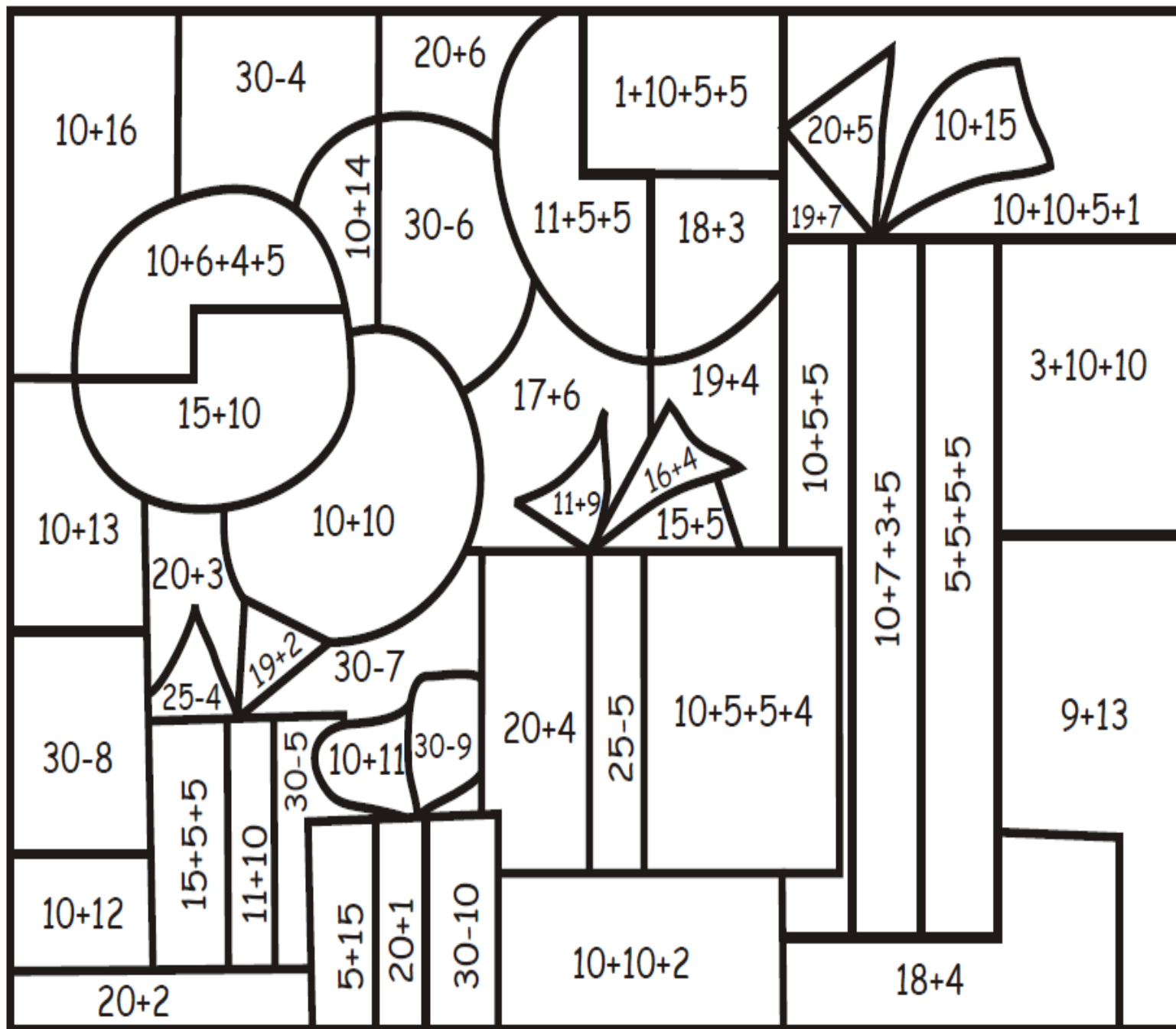
# Opérations



	2	3	7
+	1	2	3
<hr/>			

	3	0	9
+		2	7
<hr/>			

	1	2	8
+	1	2	9
<hr/>			



Vert clair  
20

Jaune  
21

Marron  
22

Bleu foncé  
23

Orange  
24

Rouge  
25

Bleu clair  
26

