



Je révise pendant les vacances

Jour 4 semaine 6

Orthographe

Accorde les participes passés.

Ma grande soeur est arriv _____ hier soir.

Elle est venu _____ passer quelques jours avec nous. Je suis très contente ! Elle était part _____ faire ses études à Rennes. Elle a suivi _____ des cours et elle a fini _____ ses premiers examens. Mes cousines sont passé _____ la voir. Elles ont établi _____ une liste de questions et sont très intéress _____ par ce que ma soeur leur raconte.

Opérations

• $\frac{3}{4} + \frac{2}{4} = \frac{\quad}{4}$	• $\frac{5}{2} - \frac{3}{2} = \frac{\quad}{2}$
• $\frac{1}{3} + \frac{2}{3} = \frac{\quad}{3}$	• $\frac{3}{5} - \frac{2}{5} = \frac{\quad}{5}$
• $\frac{9}{2} + \frac{7}{2} = \frac{\quad}{2}$	• $\frac{8}{4} - \frac{1}{4} = \frac{\quad}{4}$
• $\frac{4}{4} + \frac{5}{4} = \frac{\quad}{4}$	• $\frac{8}{3} - \frac{3}{3} = \frac{\quad}{3}$


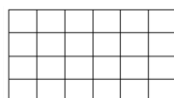
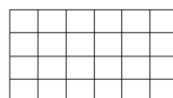

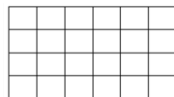
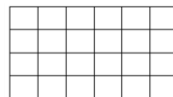
Vocabulaire

Barre l'intrus dans chaque famille de mots.

- dentier – trident – dentelle – densité
- fleuriste – floraison – flore – flou – fleur
- chevalier – carnaval – cavalier – cavalcade
- marin – mer – marine – amerrir – mercredi
- lumineux – lunaire – lumière - allumette

Numération

Colorie selon ce qui est écrit.

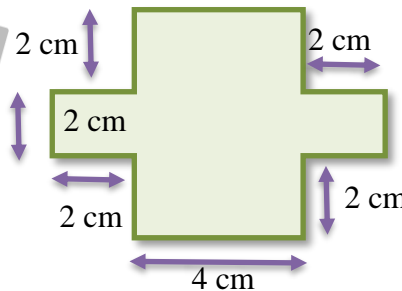
		
$\frac{1}{2}$	$\frac{2}{4}$	$\frac{1}{3}$
		
$\frac{2}{3}$	$\frac{4}{6}$	$\frac{3}{4}$

Conjugaison

Conjugué à l'imparfait

- partager, il _____ son goûter.
- nager, tu _____ le crawl.
- ranger, elles _____ ses affaires.
- protéger, je _____ mes tibias.
- lancer, ils _____ le ballon.
- placer, vous _____ les livres.
- rincer, on _____ les verres.

Aire



L'aire de cette forme est de _____ cm².

Calcule l'aire (surface verte) de cette forme.

Je lis



Paula, le 21 juillet 2018

Marion Delbart
4 allée des chênes
63 200 Clairière

Chère Marion,

Je t'envoie cette carte de mes vacances à Paula. Je passe de très bonnes vacances avec ma famille.

J'ai déjà dépensé les 50 € que ma grand-mère m'a donnés.

J'ai fait trois tours d'une heure en pédalo (4,50 € une heure), je suis allée au Parc aquatique (12,90 € l'entrée), j'ai mangé 3 glaces (3,50 € la glace) et j'ai dépensé le reste pour acheter des cartes postales.

Je n'ai plus d'argent pour le reste de mes vacances ; j'irai simplement me baigner à la Mer et jouer dans le sable. En fait, c'est ce que je préfère.

À bientôt, gros bisous
Camille



1. Calcule le coût total des tours en pédalo.

Les tours en pédalo ont coûté _____ €.

2. Calcule le coût total des glaces.

Les glaces ont coûté _____ €.

3. Calcule le coût des dépenses pour le pédalo, le Parc aquatique et les glaces.

Le coût des dépenses (sans les cartes postales) est de _____ €.

4. Calcule le montant dépensé pour l'achat des cartes postales.

Camille a dépensé _____ €.

Dans ce texte, relève :

1. un verbe au passé composé conjugué avec « être » : _____
2. un verbe au passé composé conjugué avec « avoir » : _____
3. un complément du nom : _____
4. le 3^{ème} verbe au passé composé : _____

Qui a écrit cette lettre ? Est-ce une fille ou un garçon ?

Explique pourquoi. (Réponds en rédigeant une phrase complète.) _____

A quoi correspondent les nombres suivants ?

- a) 4 représente le _____
- b) 3 représente le _____
- c) 21 représente la _____
- d) 50 représente la _____

