

1. CALCUL MENTAL : doubles et moitiés

2. Complète.


20 = 5 + _____ 28 = 20 + _____ 29 = 9 + _____

17 = 15 + _____ 20 - 2 = _____ 28 - 8 = _____


25 - _____ = 20 28 - _____ = 18 11 + _____ = 15

3. Problème sur les additions.


4 enfants partent avec une liste d'achats, calcule combien chacun devra payer.




Un livre (8€)
Feutres (14€)
TOTAL :



Journal (5€)
Un jeu (18€)
TOTAL :




Des billes (10€)
Crayons (7€)
Poupée (12€)
TOTAL :




voiture (23€)
gomme (3€)
Un stylo (8€)
TOTAL :


Nombre de réponses justes



Nombre de réponses justes



Je sais résoudre un problème additif




1. CALCUL MENTAL : doubles et moitiés

2. Complète.


20 = 5 + _____ 28 = 20 + _____ 29 = 9 + _____

17 = 15 + _____ 20 - 2 = _____ 28 - 8 = _____


25 - _____ = 20 28 - _____ = 18 11 + _____ = 15

3. Problème sur les additions.


4 enfants partent avec une liste d'achats, calcule combien chacun devra payer.




Un livre (8€)
Feutres (14€)
TOTAL :



Journal (5€)
Un jeu (18€)
TOTAL :




Des billes (10€)
Crayons (7€)
Poupée (12€)
TOTAL :




voiture (23€)
gomme (3€)
Un stylo (8€)
TOTAL :

Nombre de réponses justes



Nombre de réponses justes



Je sais résoudre un problème additif

