

Ton prénom :

date :

5 Mets de l'ordre dans ces nombres,  range-les en ordre croissant. (croître = grandir).

95	227	212	72	140	159

6 Mets de l'ordre dans ces nombres,  range-les en ordre décroissant. (décroître = diminuer).

805	777	31	199	508	8

7 Utilise les signes de mathématiques.  Complète avec l'un de ces signes :

+ - = < > ≠

28 8 = 20

20 + 8 80 + 2

40 + 8 20 + 20 + 4 + 4



30 2 = 16 + 16

187 871

100 + 30 + 2 70 + 2

8 Compter de x en x. a)  Compte de 10 en 10 de 20 jusqu'à 160 .

20														
----	--	--	--	--	--	--	--	--	--	--	--	--	--	--

b)  Observe la suite suivante, puis  entoure la bonne réponse.

20	40	60	80	100	120	140	160	180	200	220	240	260	280	300
----	----	----	----	-----	-----	-----	-----	-----	-----	-----	-----	-----	-----	-----

de 2 en 2

de 5 en 5

de 10 en 10

de 20 en 20

de 25 en 25

de 50 en 50

de 100 en 100.

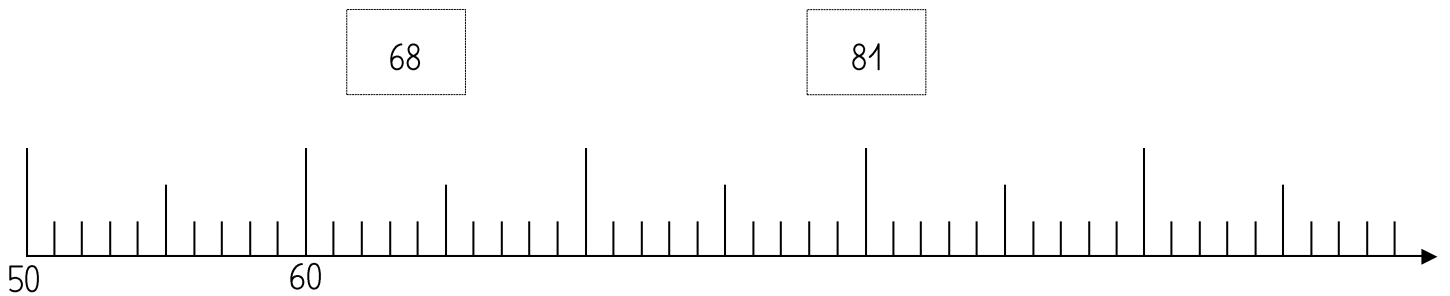
Ton prénom :

date :

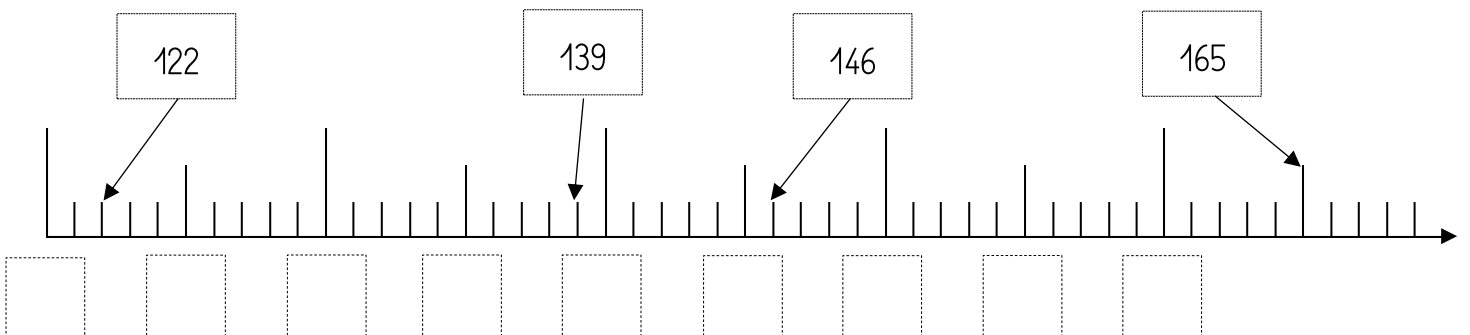
9 Complète ces deux tableaux, 👁️👁️ observe bien l'exemple.

Nombre qui est juste avant celui-ci →		Nombre qui est juste après celui-ci ←		Nombre arrondi à la dizaine avant celui-ci →		Nombre arrondi à la dizaine après celui-ci ←
11	12	13		10	12	20
	256			0	432	0
	399			0	254	0

10 ✎ Trace un trait pour placer les nombres sur la demi-droite graduée.



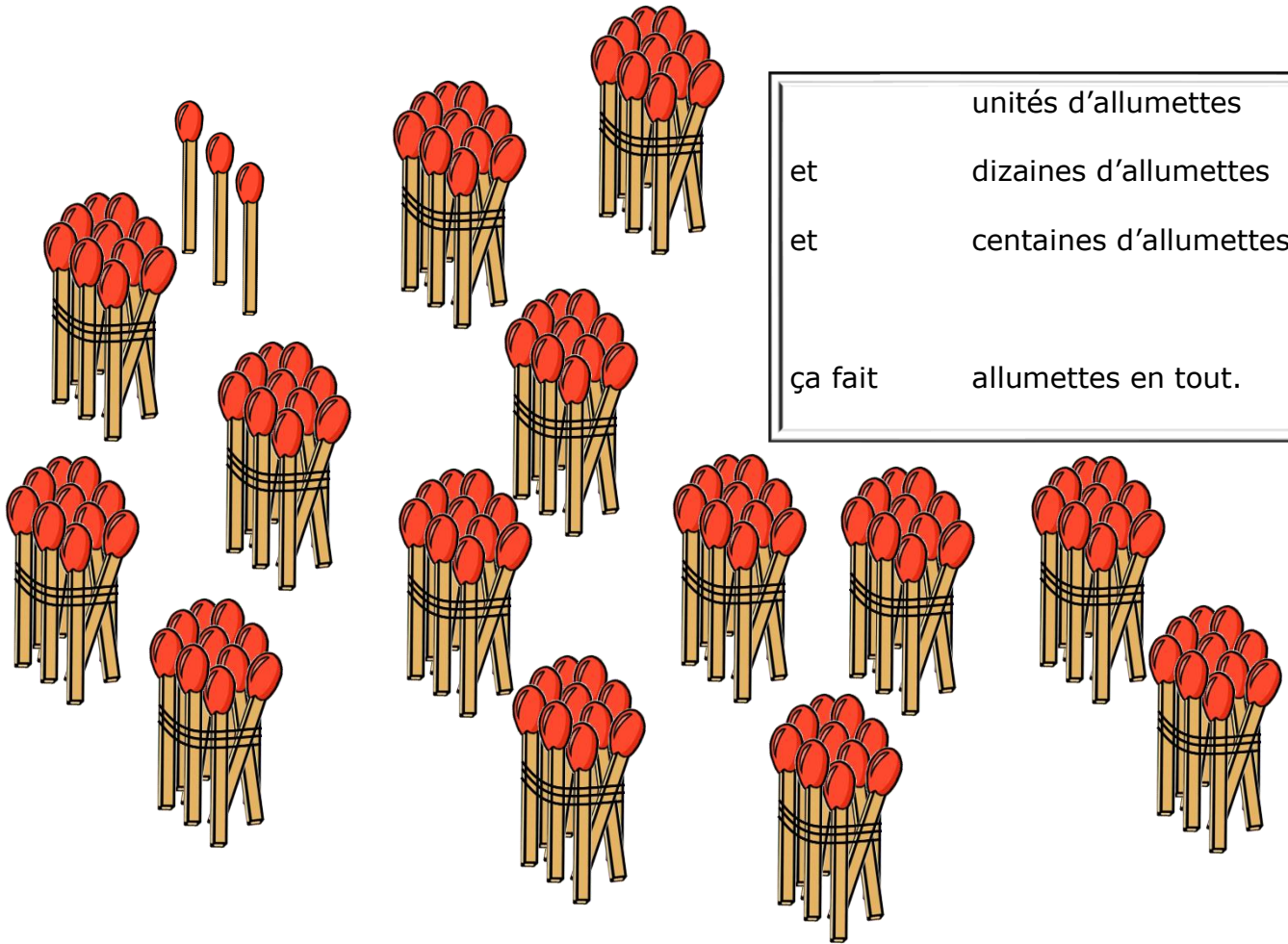
11 👁️👁️ Observe les nombres et ✎ complète la demi-droite graduée.



Ton prénom :

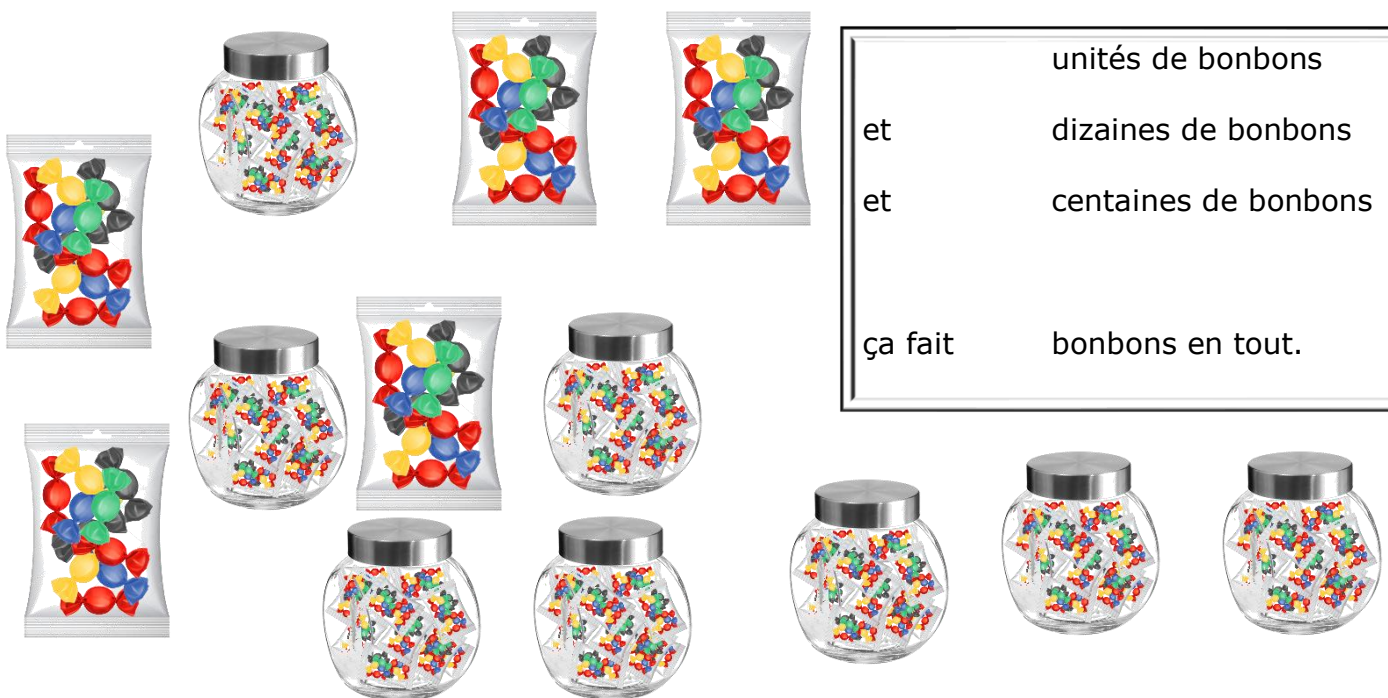
date :

12 Écris combien tu vois d'allumettes.



unités d'allumettes
et dizaines d'allumettes
et centaines d'allumettes
ça fait allumettes en tout.

12 Écris combien tu vois de bonbons.



unités de bonbons
et dizaines de bonbons
et centaines de bonbons
ça fait bonbons en tout.