

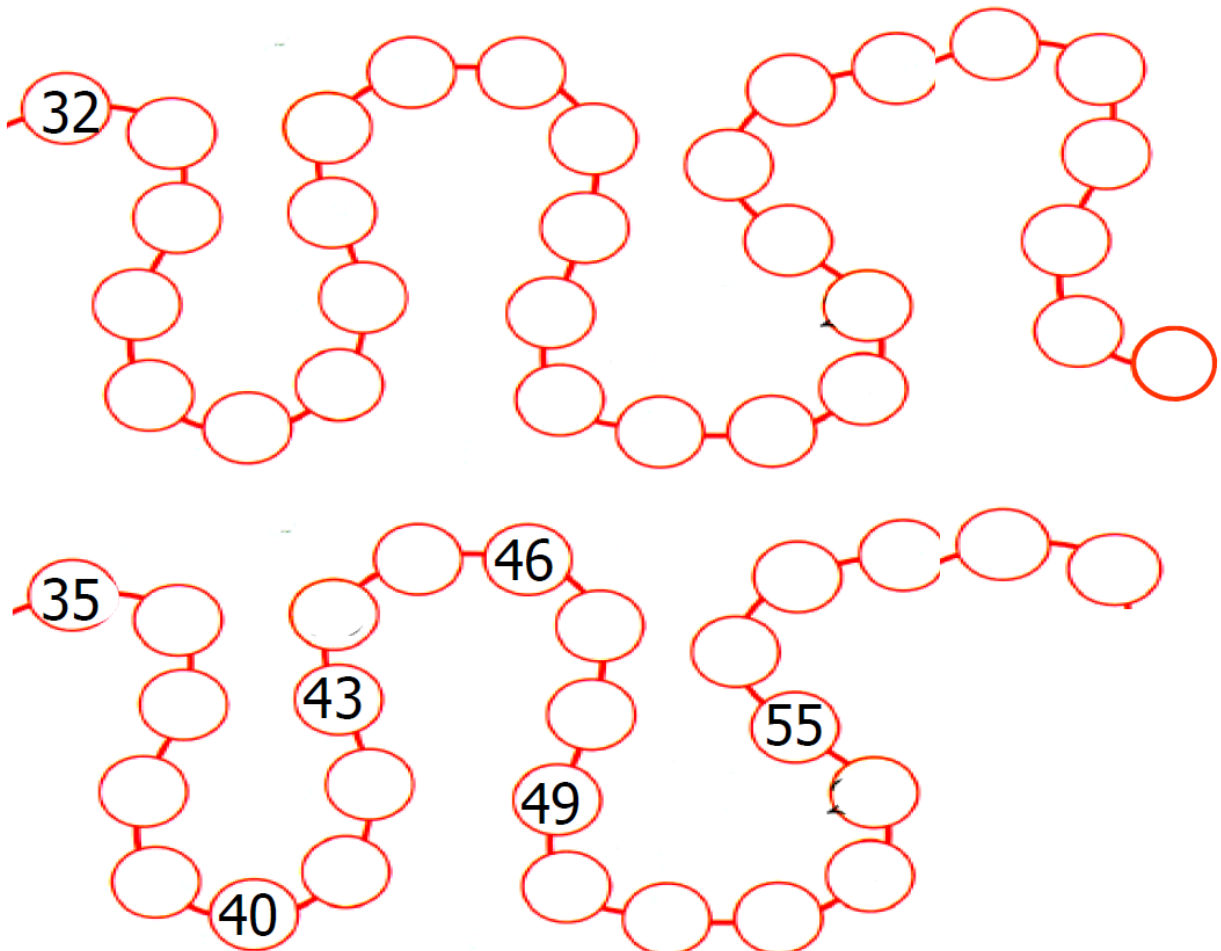
Evaluation de mathématiques/ numération

Compétences évaluées :	Niveau acquis			
Écrire sous la dictée des nombres jusqu'à 59.	A	AR	EC	NA
Compléter une file numérique vierge jusqu'à 59.	A	AR	EC	NA
Compléter une file lacunaire inférieure à 60.	A	AR	EC	NA
Écrire des suites de nombres de 2 en 2.	A	AR	EC	NA
Écrire des suites de nombres de 3 en 3.	A	AR	EC	NA
Écrire des suites de nombres de 5 en 5.	A	AR	EC	NA
Écrire des nombres par ordre croissant.	A	AR	EC	NA
Écrire des nombres par ordre décroissant.	A	AR	EC	NA
Décomposer en dizaines et unités des nombres jusqu'à 59.	A	AR	EC	NA
Dénombrer des collections d'objets en les groupant par dizaines.	A	AR	EC	NA




1- Dictée de nombres.

--	--	--	--	--	--	--	--	--	--

2- Complète les bandes numériques.



3- Ecris des suites de nombres de 2 en 2, de 3 en 3 et de 5 en 5.

	+ 2	25															
	+ 3	18															
	+ 5	1															

4- Ecris les nombres du plus petit au plus grand.

18- 28 - 16 - 36 - 26 - 59 - 48 - 42


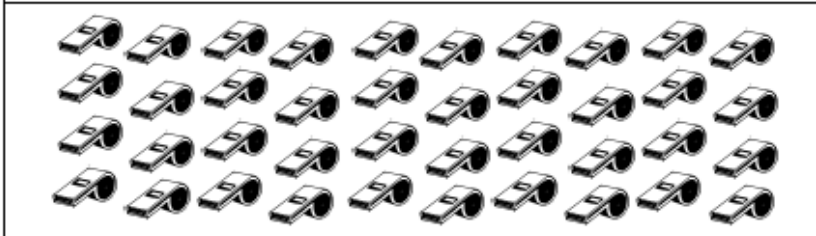



5- Ecris les nombres du plus grand au plus petit.

56- 46 - 57 - 42 - 27 - 59 - 47 - 12

6- Décompose ces nombres en dizaines et unités.

54 =	10 + 10 + 10 + 10 + 6 =	38 =
20 + 2 =	Vingt =	5d9u =

7- Compte le nombre d'objets puis écris combien il y en a.

	d	u	
	d	u	
	d	u	
	d	u	
	d	u	