



Les nombres de 0 à 69 (1)

Dictée de nombres :

 Objectif	 Soin	<input type="checkbox"/> avec aide
		<input type="checkbox"/> sans aide

EXERCICE 1 :

Complète avec les signes < ou >

$34 \text{ ----- } 43$

$21 \text{ ----- } 12$

$45 \text{ ----- } 32$

$16 \text{ ----- } 56$



$56 \text{ ----- } 43$

$43 \text{ ----- } 40$

$28 \text{ ----- } 30$

$25 \text{ ----- } 46$

$20 \text{ ----- } 27$

 Objectif	 Soin	<input type="checkbox"/> avec aide
		<input type="checkbox"/> sans aide

EXERCICE 2 :

Décompose en t'aidant du modèle suivant :

$54 = 10 + 10 + 10 + 10 + 10 + 4$

$23 = \text{.....}$









$42 = \text{.....}$

$51 = \text{.....}$

$30 = \text{.....}$

$19 = \text{.....}$









$37 = \text{.....}$

    Objectif	    Soin	<input type="checkbox"/> avec aide
		<input type="checkbox"/> sans aide

EXERCICE 3 :

Complète le tableau suivant :

Avant	Nombre	Après
	30	
18		
		21
14		
	1	
56		
		40









    Objectif	    Soin	<input type="checkbox"/> avec aide
		<input type="checkbox"/> sans aide

EXERCICE 4 :

Range du plus petit au plus grand :

23 - 12 - 54 - 33 - 55 - 20 - 44 - 6 - 18

----- < ----- < ----- < ----- < ----- < ----- < ----- < -----

    Objectif	    Soin	<input type="checkbox"/> avec aide
		<input type="checkbox"/> sans aide

EXERCICE 5 :

Ecris en lettres :

36 =>

22 =>