





G3

Symétrie axiale




FICHE 1 : AXE DE SYMÉTRIE


1 Indique si chaque figure a un axe de symétrie.

a.		b.		c.		d.	
Oui	<input checked="" type="radio"/> Non	<input checked="" type="radio"/> Oui	Non	Oui	<input checked="" type="radio"/> Non	<input checked="" type="radio"/> Oui	Non

2 Entoure les erreurs de symétrie sur la partie droite du robot.



3 Complète cette figure par symétrie par rapport à l'axe rouge en utilisant un calque.



4 Trace le(s) axe(s) de symétrie de chaque lettre du mot CISEAUX.

