

mon prénom :

Evaluation : Mathématiques CM1 (3)

la date :

Compétences du LSUN :

Non
atteint


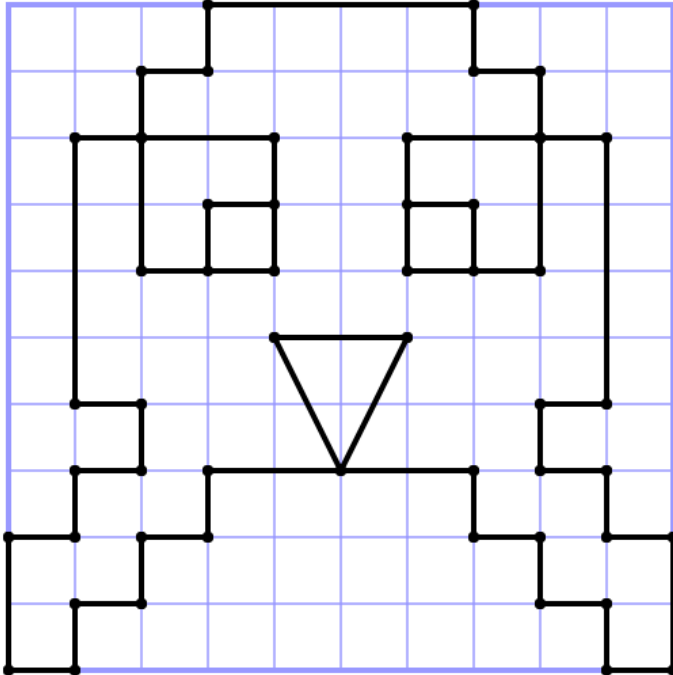
Partiellement
atteint

Atteint

Dépassé

(Se) repérer et (se) déplacer en utilisant ou en élaborant des représentations.

Exercice 1 : Reproduis la figure.



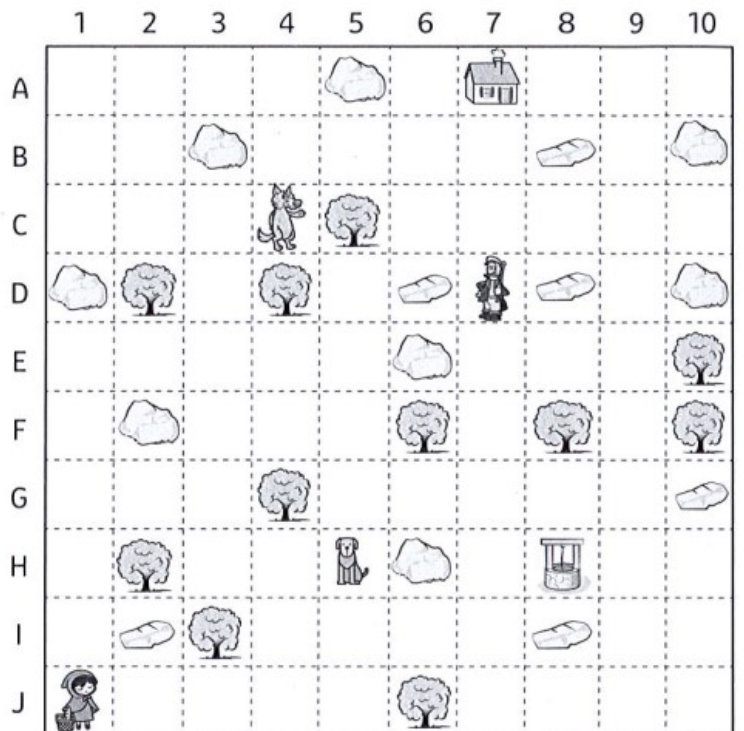
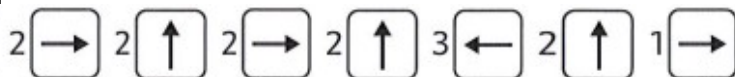
Exercice 2 :

1. **Place** des arbres dans les cases
(G;2) - (C;10) - (G;8) - (D;5) - (H;7) - (B;2) -
(I;9) - (E;4)

2. Dans quelle case se trouve :

- le Petit Chaperon rouge :
- le Grand Méchant Loup :
- le chasseur :
- la maison de Mère-Grand :
- le chien :
- le puits :

3. **Trace** le trajet suivi par le Petit Chaperon Rouge d'après ces indications :



Signature des parents

