

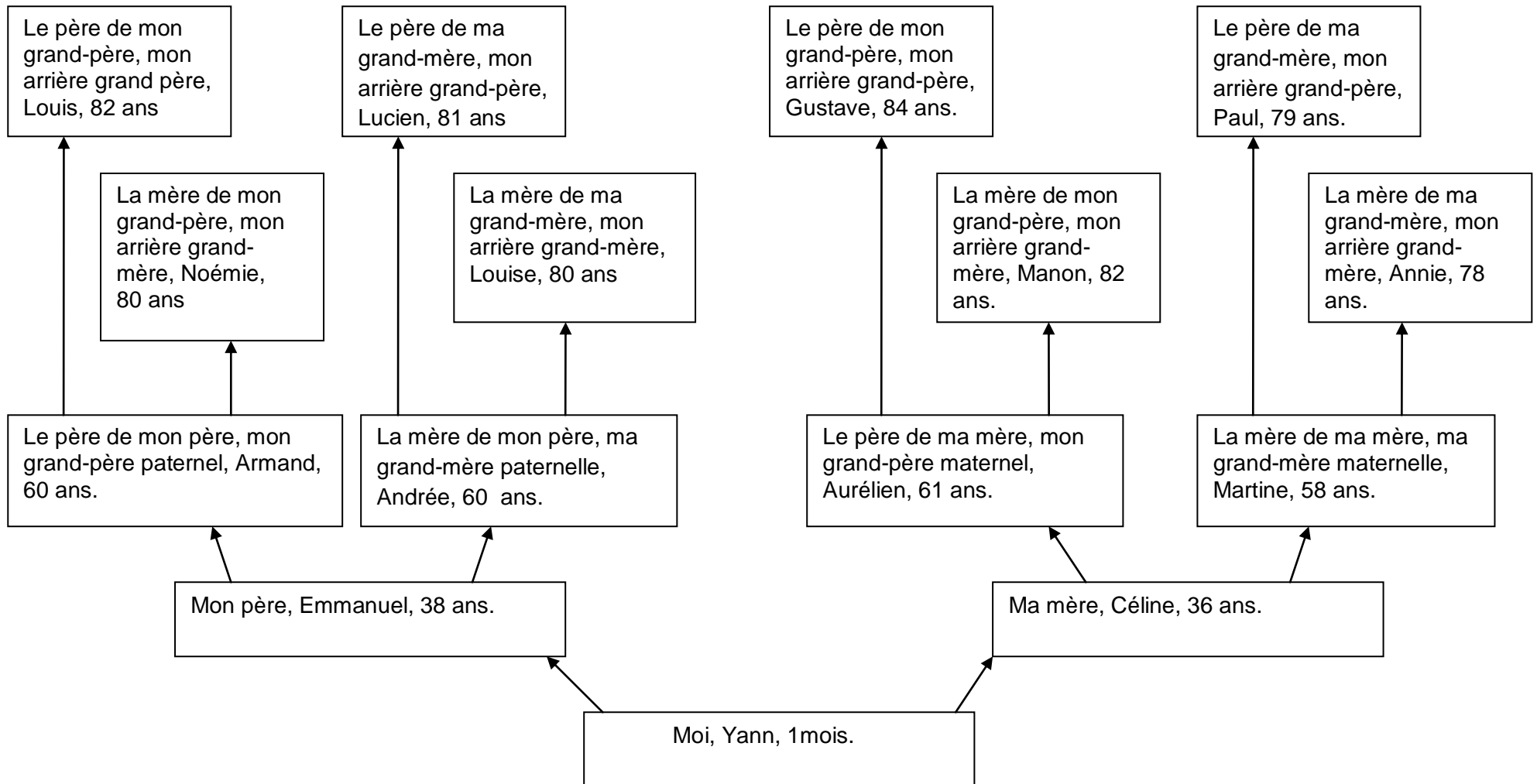
Prénom :

Date :

BILAN DECOUVERTE DU MONDE : 2° TRIMESTRE

TEMPS

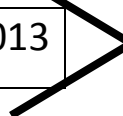
L'ARBRE GENEALOGIQUE



1/ C'est l'arbre généalogique d'Alice?	Vrai		Faux	
2/ Quel âge a l'enfant de l'arbre ?	11 ans	1 ans	10 ans	1 mois
3/ Comment s'appellent les parents de l'enfant ?	André et Amélie	Sophie et Edouard	Emmanuel et Céline	
4/ Noémie est la mère de ?	Andrée	Armand	Aurélien	
5/ Qui est le plus vieux de la famille ?	Lucien	Gustave	Paul	
6/ Manon est la mère d'Aurélien ?	Vrai		Faux	
7/ Qui a le même âge ?	Lucien et Annie		Louis et Manon	
8/ Combien y a-t-il de personnes dans cet arbre ?	11	15	13	18

LA FRISE CHRONOLOGIQUE

2002	2003	2004	2005	2006	2007	2008	2009	2010	2011	2012 ... 2013
------	------	------	------	------	------	------	------	------	------	---------------



Trace une X dans la case qui correspond à l'année de ta naissance.

- Colorie :**
- en **vert**, l'année dans laquelle nous sommes
 - en **rouge**, les années précédentes (qui sont avant)
 - en **bleu**, les années suivantes (qui sont après)

Le bleu correspond au	PASSE	PRESENT	FUTUR
Le vert correspond au	PASSE	PRESENT	FUTUR
Le rouge correspond au	PASSE	PRESENT	FUTUR

Prénom :

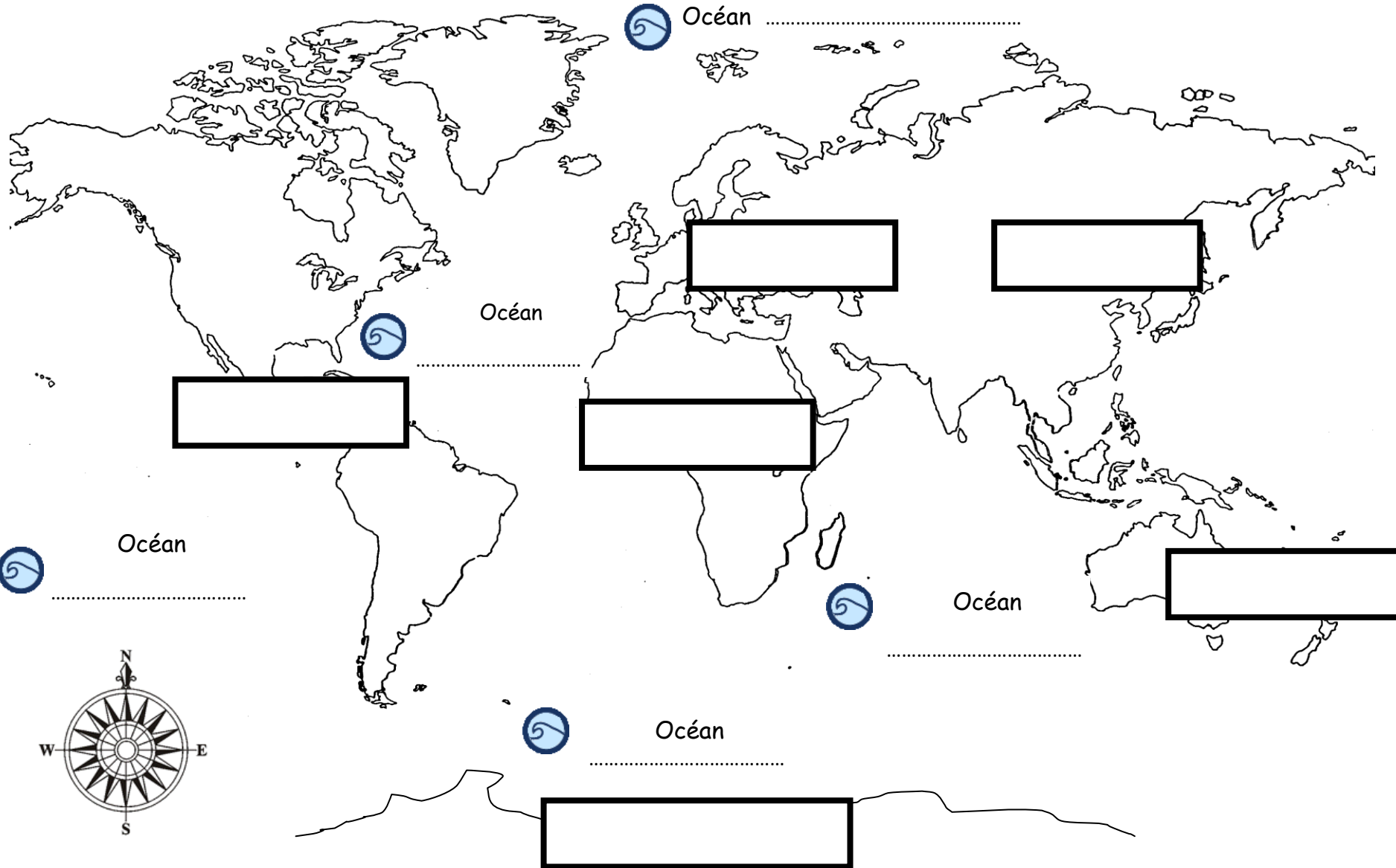
Date :

ESPACE

Continents & Océans

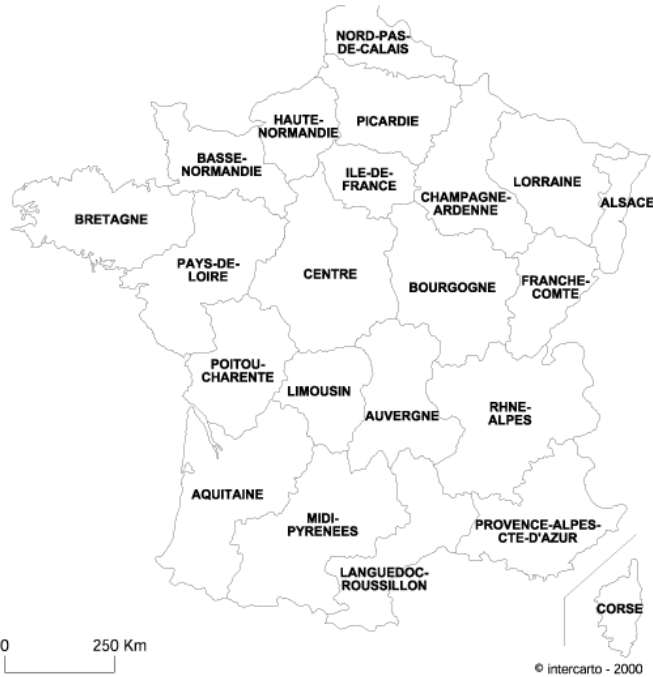
Retrouve et replace : 1 - les continents : AFRIQUE, AMERIQUE, ANTARCTIQUE, ASIE, EUROPE, OCEANIE.

2 - les océans : ARCTIQUE, ANTARCTIQUE, ATLANTIQUE, INDIEN, PACIFIQUE .



La région ILE DE FRANCE & ses départements

1. Colorie notre région :



2. Relie :

- | | |
|------|---------------------|
| 75 ● | ● Val d'Oise |
| 77 ● | ● Val de Marne |
| 78 ● | ● Seine Saint Denis |
| 91 ● | ● Hauts de Seine |
| 92 ● | ● Essonne |
| 93 ● | ● Yvelines |
| 94 ● | ● Seine et Marne |
| 95 ● | ● Paris |

3. Entoure la bonne réponse.

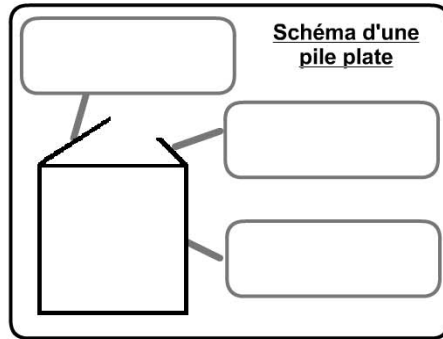
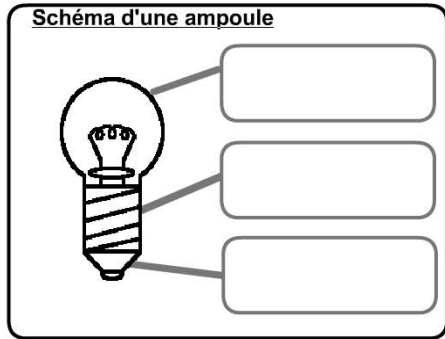
	VRAI	FAUX
<u>Une carte géographique</u> sert à représenter, de manière plus petite, le monde, un pays, ... etc		
<u>Les cartes de France</u> peuvent présenter des informations variées : - la position de ma place en classe		
- la position des montagnes		
- la position des stations de métro..		

Prénom :

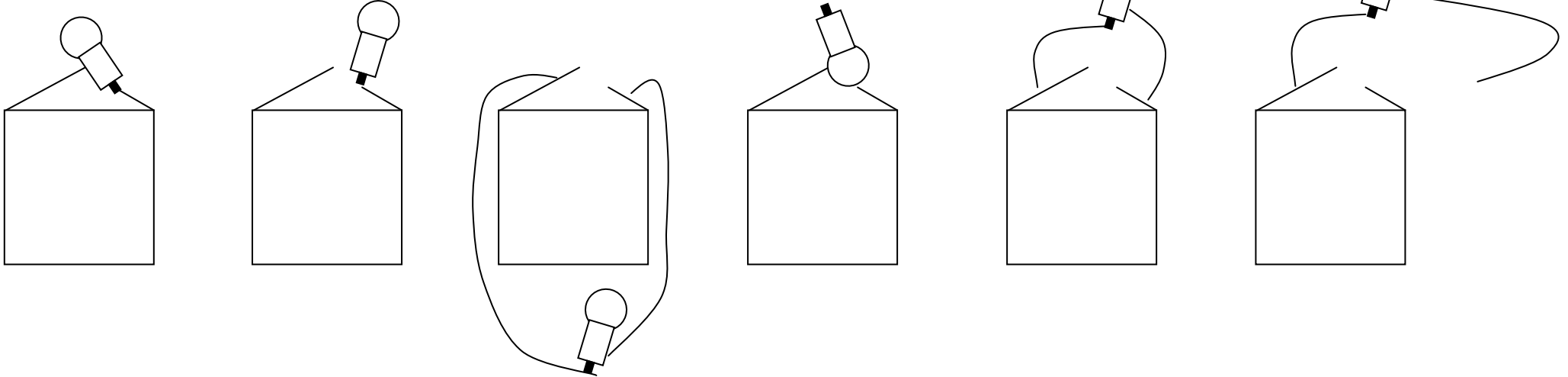
Date :

SCIENCES

1. Complète : corps – grande lame – culot – plot – ampoule - petite lame



2. Colorie les ampoules si elles sont bien positionnées pour s'allumer.



Se repérer dans le temps (dans un arbre généalogique et sur une frise chronologique)	A B C D
Connaître de nouveaux espaces par leur représentation (photos, cartes...)	A B C D
Comprendre le fonctionnement d'objets techniques simples	A B C D