

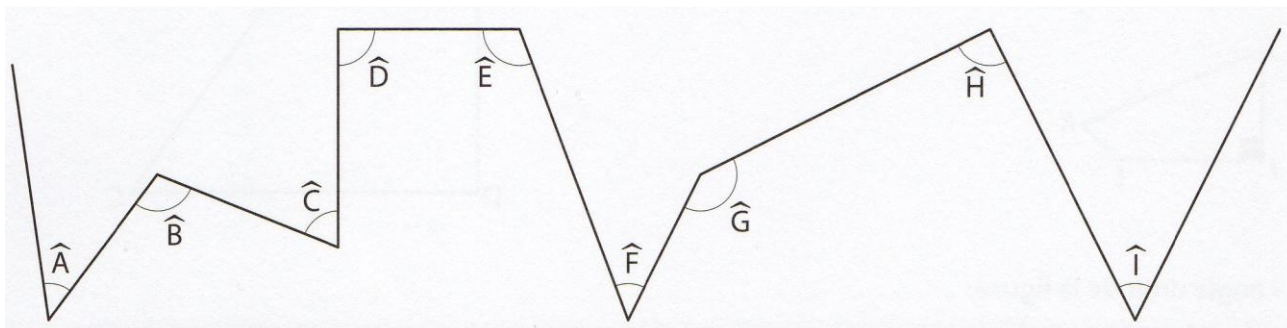


Grandeurs et mesure : Les angles

CM2

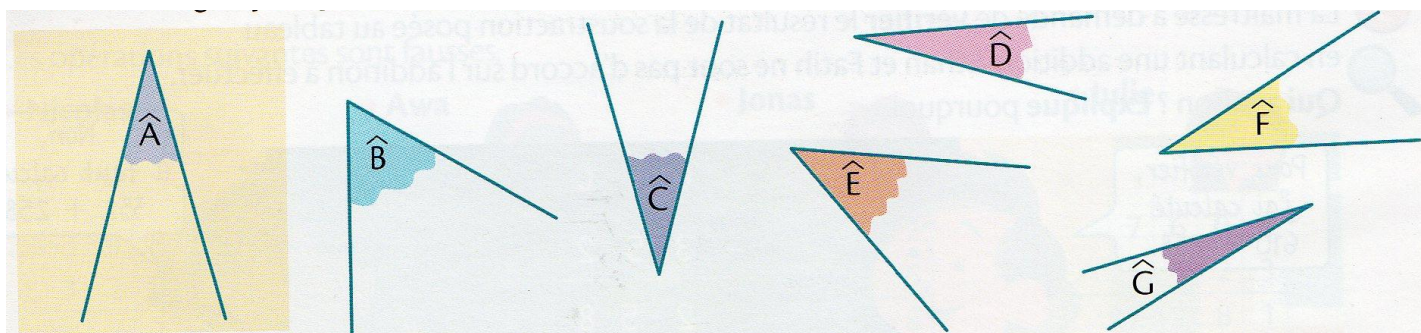
Fiche d'exercices n°3
Leçon 2

➔ **Exercice 1** : Observe les angles formés par cette ligne brisée et classe-les dans le tableau suivant.



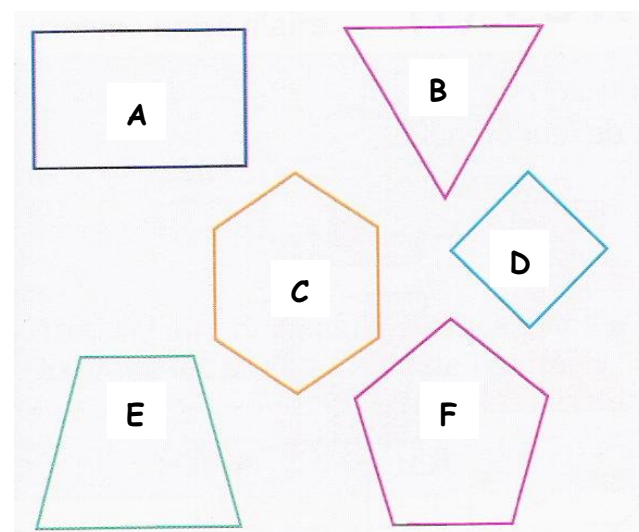
Angles aigus	Angles droits	Angles obtus

➔ **Exercice 2** : Aide-toi du papier calque pour comparer les angles avec l'angle \hat{A} .
Trouve les angles plus petits que \hat{A} , égaux à \hat{A} et plus grands que \hat{A}



➔ **Exercice 3** : Reproduis exactement l'angle B et \hat{E}

➔ **Exercice 4** : Observe ces polygones puis complète le tableau.



Polygone	Nombre d'angles aigus	Nombre d'angles droits	Nombre d'angles obtus
A			
B			
C			
D			
E			
F			