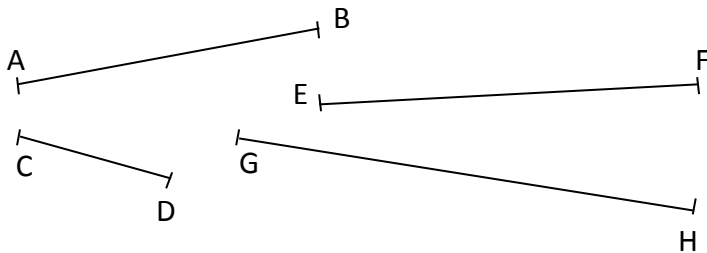


1. **CALCUL MENTAL – Additionner astucieusement 3 noms**

2. **A l'aide de ton double décimètre, mesure la longueur des segments et complète le tableau :**



Segment	Mesure en cm
AB	
CD	
EF	
GH	

3. **Trace à l'arrière de la feuille les segments suivants :**

AB = 3 cm CD = 1 cm EF = 8 cm
 GH = 12 cm IJ = 17 cm

Nombre de réponses justes

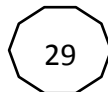


Je sais mesurer des segments avec précision

OUI
MOYEN
NON

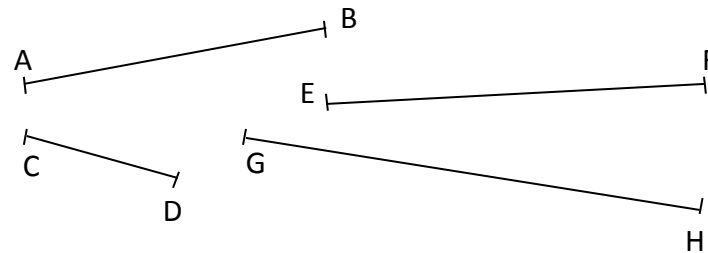
Je sais tracer des segments avec précision.

OUI
MOYEN
NON



1. **CALCUL MENTAL – Additionner astucieusement 3 noms**

2. **A l'aide de ton double décimètre, mesure la longueur des segments et complète le tableau :**



Segment	Mesure en cm
AB	
CD	
EF	
GH	

3. **Trace à l'arrière de la feuille les segments suivants :**

AB = 3 cm CD = 1 cm EF = 8 cm
 GH = 12 cm IJ = 17 cm

Nombre de réponses justes



Je sais mesurer des segments avec précision

OUI
MOYEN
NON

Je sais tracer des segments avec précision.

OUI
MOYEN
NON

