


Rallye Maths CP

Manche 2

Pour chaque exercice, vous gagnez 5 points si la réponse est juste et 5 points en plus si elle est bien expliquée ! Si la réponse n'est pas juste, l'exercice ne rapporte aucun point. Mais il faudra choisir 3 exercices !

Exercice 1 :

Regarde cette forme. Il faut mettre les chiffres de 1 à 5 dans les cases.



Il faut que la somme de la ligne et de la colonne soit la même.

Trouve une solution avec les chiffres de 1 à 5.

Exercice 2 :

Sonia, Antoine, Marie et Léo ont des yeux de couleur différente : noirs, bleus, verts ou gris.


Marie a les yeux gris et Antoine n'a pas les yeux verts.

L'une des filles a les yeux noirs.

Donne la couleur des yeux des 4 personnes.

Exercice 3 :

Regarde cette construction de cubes :

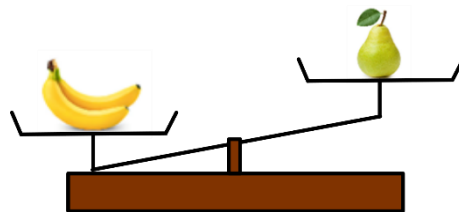



Les cubes sont tous posés sur une table, il n'y a pas de trous cachés.

Combien faut-il de cubes  pour refaire la même construction ?

Exercice 4 :

Regarde les balances :



Range du plus léger au plus lourd les trois aliments :

.....<<.....