

Correction du Jeudi 7 mai

Rituel Dictée Flash

Le monstre aux petits pieds minces ne peut pas courir. Il se sert de ses longs bras minces pour attraper une souris qu'il enfourne dans sa grande bouche ridicule.

Rituel Phrase du jour

Avez-vous montré vos tickets avant d'entrer ?

V S V COD CCT

Vous : Qui est-ce qui a montré ses tickets ? => Vous
« Vous » est le **sujet**.

Avez montré : Qu'avez-vous fait ? vous avez montré.
« avez montré » est le **verbe**

Ses tickets : On ne peut pas le supprimer, ni le déplacer. Il complète le verbe. Il répond à la question **quoi ?** Il s'agit donc d'un **COD**.

*Vous avez montré **quoi** ? => vos tickets*

Avant d'entrer : on peut supprimer et déplacer ce groupe de mot. Il répond à la question **quand ?** Il s'agit donc d'un Complément Circonstanciel de Temps (**CCT**)

*Vous avez montré vos tickets **quand** ? => avant d'entrer*

Français



> Conjugaison :

1. Mets les verbes à l'imparfait de l'indicatif

26. Tu **descendais** l'escalier et tu **tournais** à gauche.
27. Quand je **lisais**, je **découvrais** de nouvelles choses.
28. Je **perdais** mon temps : je ne **faisais** rien.
29. Vous **pleuriez** beaucoup. Pourquoi ?
30. Mes frères **vendaient** leurs articles de sport.
31. Nous **voulions** visiter le musée et nous **devions** payer l'entrée.
32. Vous **étiez** une très jolie jeune femme.
33. Ils **faisaient** une grande fête à chaque année.
34. Tu **entendais** ce bruit ? Je **comprenais** des mots...
35. Tu **pensais** toujours à ton amoureux.
36. Mes voisins **voulaient** quitter le pays.
37. Tu **remplissais** le pot d'eau et tu **mettais** des glaçons.
38. Je **promettais** de dire la vérité.
39. Chaque soir, je **lisais** un peu et je **dormais** sur le divan.
40. Ils **finissaient** le jardinage et ils **rentraient** se laver.
41. Tu **envoyais** un message à tes amis.
42. Tu **prenais** une douche et tu **allais** au lit.
43. Quand on **était** petit, on **apprenait** à marcher.
44. Nous **vivions** au Canada ; c'**était** un pays nordique.
45. Ils **faisaient** à manger et ils **nettoyaient** toujours la cuisine.



➤ **Grammaire :**



Exercice n°1 : Dans chaque phrase, souligne en bleu le sujet, en rouge le verbe et en noir le COD.

Pour trouver le COD, on se pose la question Qui ? ou Quoi ? après le verbe

L'architecte a fait le plan de la maison.

Les maçons construisent les fondations.

Ils montent les murs.

Les couvreurs poseront les tuiles.

Ils dresseront les cloisons.

Le peintre posera les papiers muraux.

Imprudemment, le hérisson traverse la route.

Mon jeune chien a encore fait des bêtises.

Exercice n° 2 : Complète avec un COD :

exemple

Je donne **des bonbons** à ma sœur.

Les enfants aiment **les animaux**.

Sarah croit toujours **aller à la mer**.

Je vois **des livres** sur l'étagère.

Exercice n° 3 : Trouve les compléments du verbe dans les phrases (COD en noir, COI en gris). Attention certaines phrases n'ont pas de compléments du verbe :

- Marie parle à Sonia pendant des heures
- Jean les regarde
- Pierre donne des bonbons à Julie.
- Eloïse lui dit
- Tu donneras des vêtements à la croix rouge.
- Demain, nous allons à la piscine.
- Je ne lui parle plus

Mathématiques (MHM)



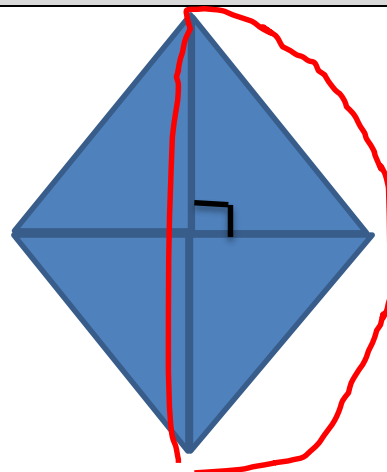
Géométrie mentale :

Les diagonales sont perpendiculaires.

4 triangles rectangles en bleu

4 triangles isocèles formés par 2

Triangles rectangles assemblés en rouge



➤ Problèmes :

Problème 1

La maison des Martin est rectangulaire. Elle fait 11,5 m de long sur 8,4 m de large. M. Martin a acheté 35 m de gouttière.

A-t-il assez de gouttière pour faire le tour de sa maison ? »




$$11,5 + 8,4 = 19,9 \text{ m}$$

$$19,9 \times 2 = 39,8 \text{ m}$$

M Martin n'a pas assez avec 35 m de gouttière.

Problème 2

	PROBLÈMES CM2 (2)	6
Un jardinier a planté des tulipes dans le parc. Il y a 12 rangées de 26 tulipes. Combien a-t-il planté de tulipes ?		

$$26 \times 12 = 312$$

Il a planté 312 tulipes.

Enigmes

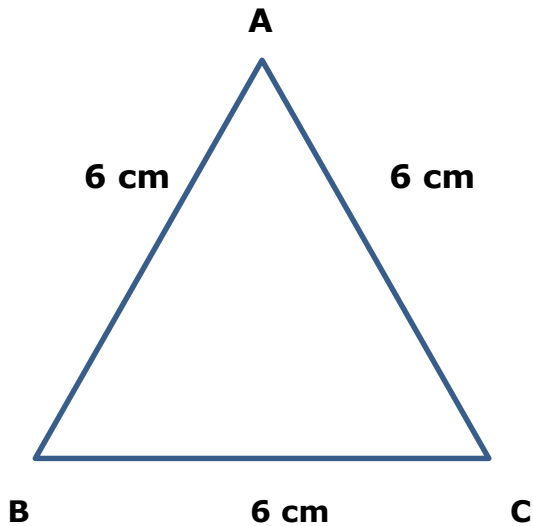
	La boîte à énigmes ★	20
		
A-L'affiche indique qu'il y a 17 biscuits par kilogramme. Combien y en aura-t-il pour deux kilogrammes ?		
B-Si un kilo de biscuits coute 5€, combien vont couter 34 biscuits ?		

- A- $2 \times 17 = 34$ biscuits , il aura 34 biscuits
B- 34 biscuits représentent 2 kg
 $2 \times 5 = 10$ € 34 biscuits couteront 10 €

Géométrie

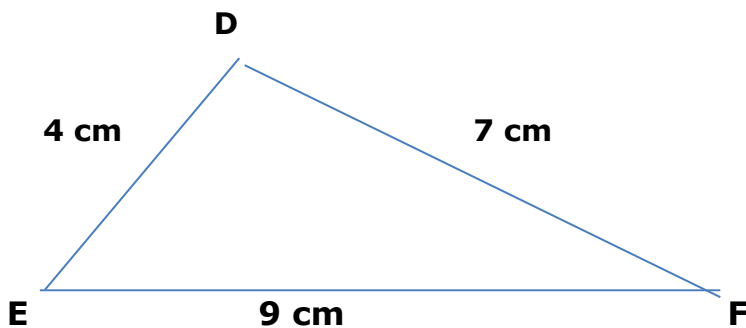
Triangle ABC :

$AB = 6$ cm, $AC = 6$ cm et $BC = 6$ cm



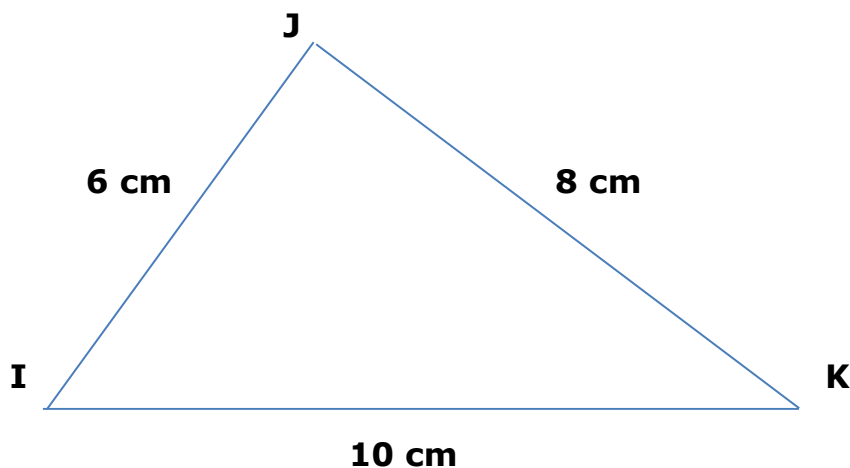
Triangle DEF :

$DE = 4$ cm, $DF = 7$ cm et $FE = 9$ cm



Triangle IJK :

$IJ = 6$ cm, $JK = 8$ cm et $IK = 10$ cm



Littérature

Otto, autobiographie d'un ours en peluche / Lecture 3



David Almond
Otto
Autobiographie d'un ours en peluche
Illustrations de Peter de Sève

1- Comment s'appelle la fille de Charlie ?

La fille de Charlie s'appelle Jasmine.

2- Pourquoi Otto se retrouve-t-il au milieu des ordures ?

Des Sales gosses l'ont arraché à Jasmine et l'ont utilisé comme balle. Ils lui ont donné des coups de pieds et l'ont frappé avec une batte.

3- Qui le ramasse ?

Une vieille femme qui faisait les poubelles l'a ramassé.

4- Qui le rachète ?

Un antiquaire a racheté Otto.

5- Où se retrouve-t- il à la fin du chapitre ?

Otto se retrouve dans la vitrine du magasin d'antiquité.