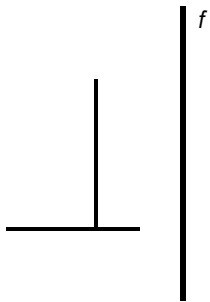


# Bilan CM2 : la symétrie

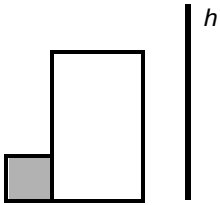
Prénom :

## 1. Réponds par Vrai ou Faux



Les deux figures ont les **mêmes dimensions** :  
Les deux figures sont à **la même distance de l'axe de symétrie** :

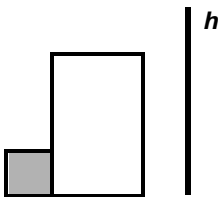
Il y a **retournement** :  
Les 2 figures **sont symétriques** :



La **distance** des deux figures **par rapport à l'axe h** est la même :

Il y a **retournement** :

Les deux figures ont les **mêmes dimensions** :  
Les 2 figures **sont symétriques** :




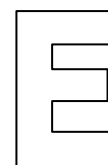
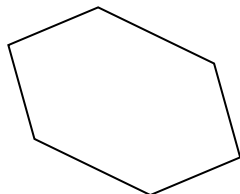




La **distance** des deux figures par rapport à l'axe h est la même :

Il y a **retournement** :

Les deux figures ont les **mêmes dimensions** :  
Les 2 figures **sont symétriques** :

## 2. Trace l'axe de symétrie

**Attention** il peut y en avoir plusieurs !



### 3. Trace les figures symétriques

