

Multiplier par 10

1

Souviens-toi et complète :

Pour multiplier un nombre par 10 j'écris un _____
à _____ de ce nombre.

2

Calcule :

$6 \times 10 = \underline{\quad}$

$8 \times 10 = \underline{\quad}$

$3 \times 10 = \underline{\quad}$

$10 \times 10 = \underline{\quad}$













$12 \times 10 = \underline{\quad}$

$35 \times 10 = \underline{\quad}$

$62 \times 10 = \underline{\quad}$

$84 \times 10 = \underline{\quad}$

Rendre la monnaie

<p>Mathix achète</p>  <p>12 €</p>	<p>Il donne</p> 	<p>Entoure ce qu'on lui rend</p> 
<p>Léa achète</p>  <p>26 €</p>	<p>Elle donne</p> 	<p>Entoure ce qu'on lui rend</p> 
<p>Théo achète</p>  <p>37 €</p>	<p>Il donne</p> 	<p>Dessine ce qu'on lui rend</p>
<p>Sarah achète</p>  <p>84 €</p>	<p>Elle donne</p> 	<p>Dessine ce qu'on lui rend</p>
<p>Tim achète</p>  <p>65 €</p>	<p>Il donne</p> 	<p>Dessine ce qu'on lui rend</p>

