

mon prénom :

Evaluation : Mathématiques CE2

la date :

Compétences du LSUN :

Non
atteint


Partiellement
atteint

Atteint

Dépassé

Reconnaitre et utiliser les notions d'alignement, d'angle droit.

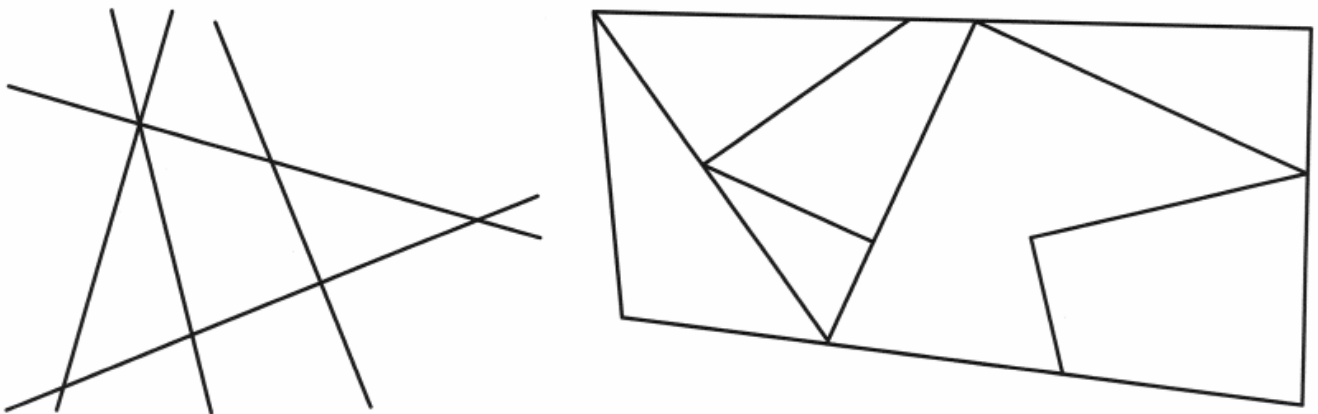
Exercice 1 : Trace en bleu les droites qui ont trois points alignés, en vert les droites qui ont quatre points alignés et en rouge les droites qui ont cinq points alignés.



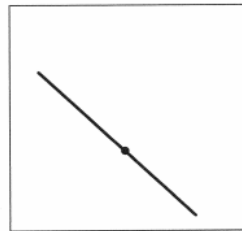
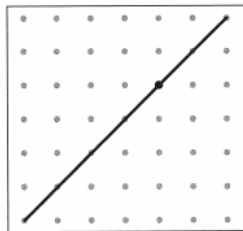
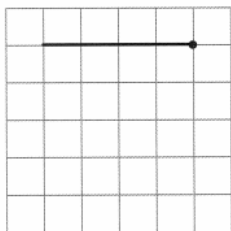
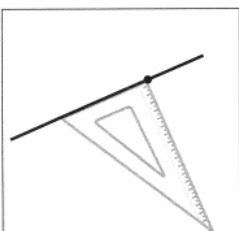
Exercice 2 : Trace le milieu de chaque segment.



Exercice 3 : Marque les angles droits en rouge.



Exercice 4 : Trace un angle droit à partir du point.



Signature des parents

