

A

B

C

..... a la carte A.
 a la carte B.
 a la carte C.



Carte A =

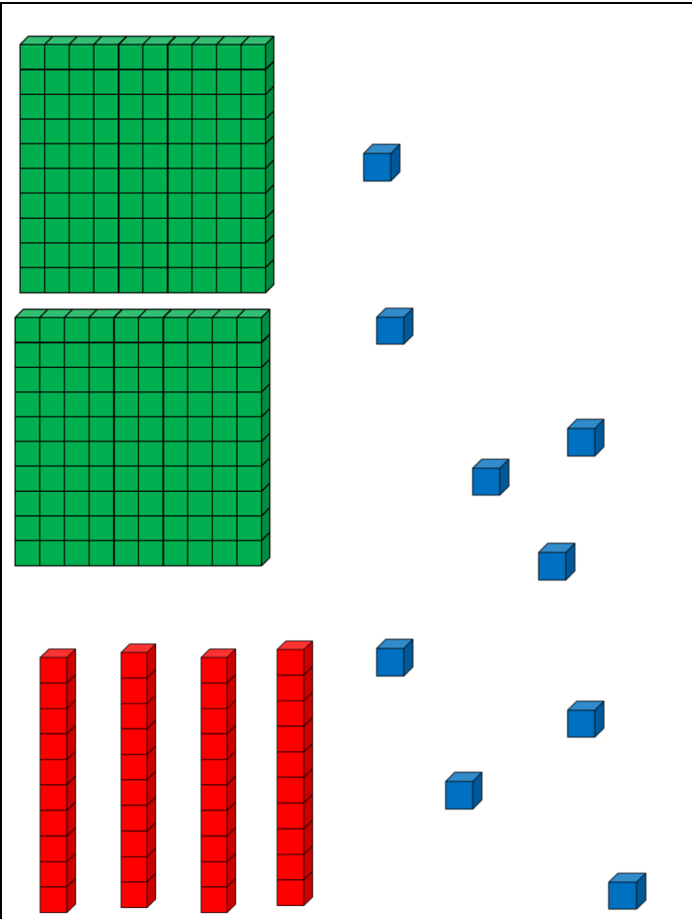
Carte B =

Carte C =

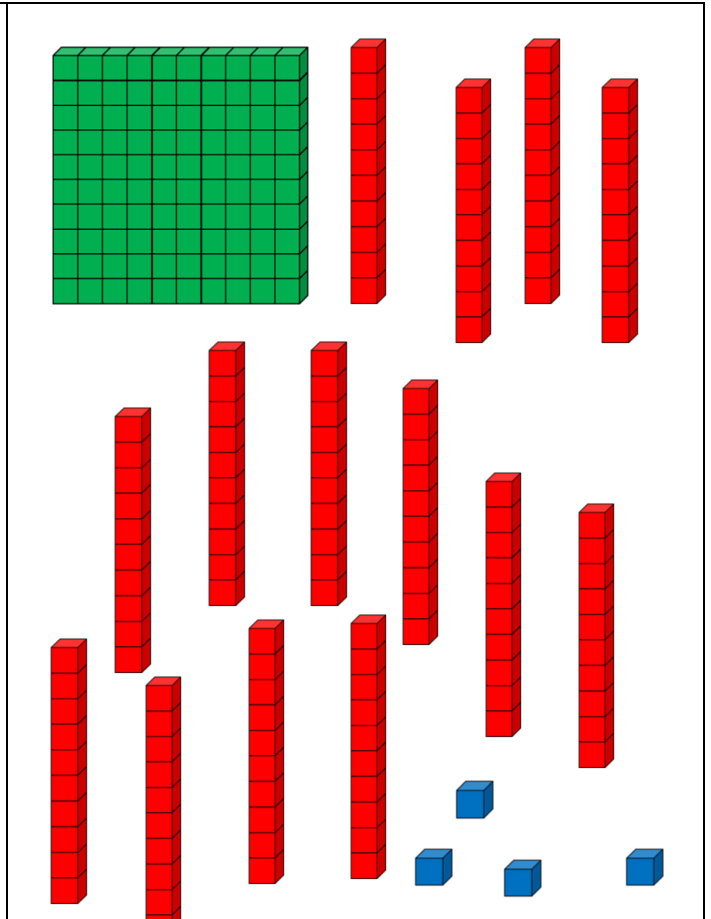
..... a le nombre le plus grand.

..... a le nombre le plus petit.

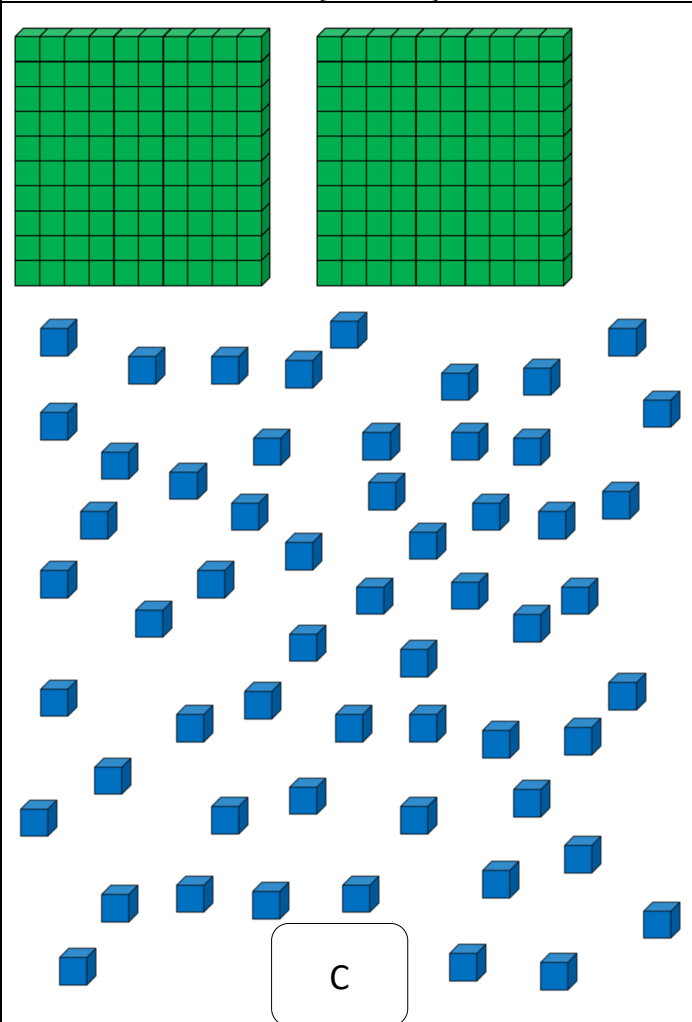
Coller les cartes dans l'ordre croissant.



A



B



C



Carte A =

Carte B =

Carte C =

Ecrire ces nombres dans l'ordre croissant :

Exercice 1 : Représente ces nombres comme sur l'exemple.

c	d	u
2	3	8

c	d	u
1	2	6

c	d	u
2	0	0

c	d	u
3	0	2

c	d	u
3	4	5

c	d	u
2	6	9

Exercice 2 : Représente ces nombres et écris-les en chiffres.

cent-soixante-trois

1 6 3

trois-cent-quatre-vingt-un

cinq-cent-soixante-treize

1 4 1

5 0 3

Exercice 7 : Complète :

- 1 dizaine = unités
- 1 centaine = ... dizaines = unités
- 3 centaines = unités
- 54 dizaines = unités
- 3 centaines 17 dizaines 2 unités =
- 80 dizaines 5 unités =

Exercice 3 : Colorie de la même couleur les étiquettes qui représentent le même nombre.

731

317

173

sept-cent-trente-et-un

trois-cent-dix-sept

cent-soixante-treize

7u 3c 1d

7c 3d 1u

7d 3u 1c

Exercice 4 : Colorie de la même couleur les étiquettes qui représentent le même nombre.

2c 2d 11u

3c 4d 13u

2c 10d 5u

2 3 1

.....

.....