




Fichier d'entraînement Numération



Objectif : Connaître, savoir écrire en chiffres et nommer les nombres entiers jusqu'à 9 999

CEINTURE BLANCHE



Comment réussir ? Pour pouvoir passer la ceinture blanche tu dois réussir les 6 exercices de suite sans faire plus d'une erreur par exercice et donc avoir les 6 étoiles coloriées.

ENTRAÎNEMENT 1

Ex 1 : Demande un tableau au maître puis place les 5 nombres suivants dans le tableau.



Classe des mille			Classe des unités simples		
Centaines de mille	Dizaines de mille	Unités de mille	Centaines	Dizaines	Unités
	☺ "cent"		☺ "mille"	☺ "cent"	



789 - 4 274 - 9 854 - 5 080 - 7 000

Ex 2 : Recopie les nombres suivants en plaçant l'espace au bon endroit.



8931 - 5679 - 2500 - 8210 - 9200 - 8600 - 1234 - 5678 - 9742 - 9002

Ex 3 : Recopie puis entoure le chiffre des dizaines dans les nombres suivants.



86 - 73 - 896 - 306 - 960 - 1 743 - 3 459 - 9 560 - 8 003 - 5 432

Ex 4 : Recopie puis entoure le chiffre des unités dans les nombres suivants.



80 - 678 - 321 - 740 - 500 - 891 - 4 503 - 6200 - 7346 - 7 949

Ex 5 : Recopie puis entoure le nombre de dizaines dans les nombres suivants.



789 - 98 - 542 - 450 - 7 213 - 8 905 - 709 - 2 000 - 7 006 - 4 500

Ex 6 : Recopie puis entoure le nombre de centaines dans les nombres suivants.




789 - 972 - 5 478 - 3 247 - 7 300 - 8 634 - 2 007 - 869 - 8 753 - 3 698

Tu peux utiliser ton tableau de numération pour t'aider



Fichier d'entraînement Numération



Objectif : Connaître, savoir écrire en chiffres et nommer les nombres entiers jusqu'à 9 999

CEINTURE BLANCHE



Comment réussir ? Pour pouvoir passer la ceinture blanche tu dois réussir les 6 exercices de suite sans faire plus d'une erreur par exercice et donc avoir les 6 étoiles coloriées.

ENTRAÎNEMENT 2

Ex 1 : Demande un tableau au maître puis place les 5 nombres suivants dans le tableau.

2

Classe des mille			Classe des unités simples		
Centaines de mille	Dizaines de mille	Unités de mille	Centaines	Dizaines	Unités
	☺ "cent"	☺ "mille"	☺ "cent"		



854 - 3 248 - 5 873 - 8 520 - 4 009

Ex 2 : Recopie les nombres suivants en plaçant l'espace au bon endroit.



7478 - 5687 - 8888 - 5200 - 4780 - 4006 - 6300 - 7806 - 9877 - 8855

Ex 3 : Recopie puis entoure le chiffre des dizaines dans les nombres suivants.



32 - 91 - 632 - 478 - 204 - 600 - 1 247 - 6 500 - 7 400 - 6 327

Ex 4 : Recopie puis entoure le chiffre des unités dans les nombres suivants.



50 - 630 - 325 - 504 - 600 - 1 478 - 5 040 - 6 358 - 7 531 - 3 000

Ex 5 : Recopie puis entoure le nombre de dizaines dans les nombres suivants.



854 - 32 - 723 - 760 - 4 784 - 3 047 - 8 009 - 4 000 - 6 400 - 3 014

Ex 6 : Recopie puis entoure le nombre de centaines dans les nombres suivants.




854 - 934 - 7 804 - 9 632 - 3 541 - 6 532 - 7 478 - 3 216 - 9 800 - 8 000

Tu peux utiliser ton tableau de numération pour t'aider



Fichier d'entraînement Numération



Objectif : Connaître, savoir écrire en chiffres et nommer les nombres entiers jusqu'à 9 999

CEINTURE BLANCHE



Comment réussir ? Pour pouvoir passer la ceinture blanche tu dois réussir les 6 exercices de suite sans faire plus d'une erreur par exercice et donc avoir les 6 étoiles coloriées.

ENTRAÎNEMENT 3

Ex 1 : Demande un tableau au maître puis place les 5 nombres suivants dans le tableau.

3

Classe des mille			Classe des unités simples		
Centaines de mille	Dizaines de mille	Unités de mille	Centaines	Dizaines	Unités
	☺ "cent"		☺ "mille"	☺ "cent"	



637 - 420 - 7 604 - 8500 - 1 000

Ex 2 : Recopie les nombres suivants en plaçant l'espace au bon endroit.



1478 - 2365 - 3000 - 4200 - 5040 - 6003 - 7423 - 8630 - 9871 - 4878

Ex 3 : Recopie puis entoure le chiffre des dizaines dans les nombres suivants.



58 - 63 - 78 - 90 - 856 - 748 - 600 - 7 965 - 5 320 - 4 500

Ex 4 : Recopie puis entoure le chiffre des unités dans les nombres suivants.



32 - 77 - 90 - 568 - 610 - 8 547 - 3 698 - 5040 - 6 300 - 9 639

Ex 5 : Recopie puis entoure le nombre de dizaines dans les nombres suivants.



478 - 69 - 657 - 2 358 - 700 - 5 480 - 8 230 - 4 500 - 9 999 - 6 543 - 3 210

Ex 6 : Recopie puis entoure le nombre de centaines dans les nombres suivants.




8 700 - 6 357 - 5 412 - 3 500 - 6 785 - 987 - 500 - 7 000 - 6 600 - 7 455

Tu peux utiliser ton tableau de numération pour t'aider



Fichier d'entraînement Numération



Objectif : Connaître, savoir écrire en chiffres et nommer les nombres entiers jusqu'à 9 999

CEINTURE BLANCHE



Comment réussir ? Pour pouvoir passer la ceinture blanche tu dois réussir les 6 exercices de suite sans faire plus d'une erreur par exercice et donc avoir les 6 étoiles coloriées.

ENTRAÎNEMENT 4

Ex 1 : Demande un tableau au maître puis place les 5 nombres suivants dans le tableau.

4

Classe des mille			Classe des unités simples		
Centaines de mille	Dizaines de mille	Unités de mille	Centaines	Dizaines	Unités
	☺ "cent"		☺ "mille"	☺ "cent"	



854 - 5 245 - 700 - 3 004 - 5 687

Ex 2 : Recopie les nombres suivants en plaçant l'espace au bon endroit.



8888 - 7654 - 5324 - 4785 - 8569 - 8000 - 5600 - 3322 - 4125 - 2001

Ex 3 : Recopie puis entoure le chiffre des dizaines dans les nombres suivants.



37 - 49 - 80 - 234 - 874 - 305 - 555 - 6 342 - 8 505 - 4 900 - 2 000

Ex 4 : Recopie puis entoure le chiffre des unités dans les nombres suivants.



41 - 75 - 10 - 698 - 420 - 6 354 - 4 531 - 2 400 - 8 900 - 4 001

Ex 5 : Recopie puis entoure le nombre de dizaines dans les nombres suivants.



632 - 47 - 324 - 200 - 4 785 - 5 554 - 4 230 - 8 700 - 6 480 - 1 497 - 6 000

Ex 6 : Recopie puis entoure le nombre de centaines dans les nombres suivants.




478 - 2 500 - 3 784 - 4 525 - 2 304 - 2 657 - 4 823 - 9 004 - 7 000 - 6 239

Tu peux utiliser ton tableau de numération pour t'aider



Fichier d'entraînement Numération



Objectif : Connaître, savoir écrire en chiffres et nommer les nombres entiers jusqu'à 9 999

CEINTURE BLANCHE



Comment réussir ? Pour pouvoir passer la ceinture blanche tu dois réussir les 6 exercices de suite sans faire plus d'une erreur par exercice et donc avoir les 6 étoiles coloriées.

ENTRAÎNEMENT 5

Ex 1 : Demande un tableau au maître puis place les 5 nombres suivants dans le tableau.

5

Classe des mille			Classe des unités simples		
Centaines de mille	Dizaines de mille	Unités de mille	Centaines	Dizaines	Unités
	☺ "cent"		☺ "mille"	☺ "cent"	



49 - 748 - 6 847 - 6 321 - 5 400

Ex 2 : Recopie les nombres suivants en plaçant l'espace au bon endroit.



4444 - 2358 - 4100 - 5000 - 4478 - 3210 - 8000 - 4322 - 8456 - 2011

Ex 3 : Recopie puis entoure le chiffre des dizaines dans les nombres suivants.



54 - 36 - 478 - 239 - 450 - 1 200 - 2045 - 8005 - 4700 - 6359

Ex 4 : Recopie puis entoure le chiffre des unités dans les nombres suivants.



365 - 874 - 36 - 894 - 800 - 1 475 - 9 855 - 6 322 - 9 600 - 4 000 - 6 511

Ex 5 : Recopie puis entoure le nombre de dizaines dans les nombres suivants.



641 - 320 - 500 - 455 - 6 987 - 4 294 - 7 359 - 3 141 - 5 000 - 3 200

Ex 6 : Recopie puis entoure le nombre de centaines dans les nombres suivants.




321 - 1 453 - 2 001 - 4 500 - 6 550 - 4 998 - 8 590 - 4 670 - 7 777 - 5 367

Tu peux utiliser ton tableau de numération pour t'aider



Fichier d'entraînement Numération - correction



CEINTURE BLANCHE

ENTRAÎNEMENT 1

Ex 1 : Place les 5 nombres suivants dans le tableau.

Classe des milles			Unités simples		
Centaines de mille	Dizaines de mille	Unités de mille	Centaines	dizaines	Unités
			6	3	7
			4	2	0
		7	6	0	4
		8	5	0	0
		1	0	0	0

Ex 2 : Recopie les nombres suivants en plaçant l'espace au bon endroit.

8 931 - 5 679 - 2 500 - 8 210 - 9 200 - 8 600 - 1 234 - 5 678 - 9 742 - 9 002

Ex 3 : Recopie puis entoure le chiffre des dizaines dans les nombres suivants.

86 - 73 - 896 - 306 - 960 - 1 743 - 3 459 - 9 560 - 8 003 - 5 432

Ex 4 : Recopie puis entoure le chiffre des unités dans les nombres suivants.

80 - 678 - 321 - 740 - 500 - 891 - 4 503 - 6200 - 7346 - 7949

Ex 5 : Recopie puis entoure le nombre de dizaines dans les nombres suivants.

789 - 98 - 542 - 450 - 7 213 - 8 905 - 709 - 2 000 - 7 006 - 4 500

Ex 6 : Recopie puis entoure le nombre de centaines dans les nombres suivants.

789 - 972 - 5 478 - 3 247 - 7 300 - 8 634 - 2 007 - 869 - 8 753 - 3 698

ENTRAÎNEMENT 2

Ex 1 : Place les 5 nombres suivants dans le tableau.

Classe des milles			Unités simples		
Centaines de mille	Dizaines de mille	Unités de mille	Centaines	dizaines	Unités
			8	5	4
		3	2	4	8
		5	8	7	3
		8	5	2	0
		4	0	0	9

Ex 2 : Recopie les nombres suivants en plaçant l'espace au bon endroit.

7 478 - 5 687 - 8 888 - 5 200 - 4 780 - 4 006 - 6 300 - 7 806 - 9 877 - 8 855

Ex 3 : Recopie puis entoure le chiffre des dizaines dans les nombres suivants.

32 - 91 - 632 - 478 - 204 - 600 - 1247 - 6500 - 7400 - 6327

Ex 4 : Recopie puis entoure le chiffre des unités dans les nombres suivants.

50 - 630 - 325 - 504 - 600 - 1478 - 5040 - 6358 - 7531 - 3000

Ex 5 : Recopie puis entoure le nombre de dizaines dans les nombres suivants.

854 - 32 - 723 - 760 - 4784 - 3047 - 8009 - 4000 - 6400 - 3014

Ex 6 : Recopie puis entoure le nombre de centaines dans les nombres suivants.

854 - 934 - 7804 - 9632 - 3541 - 6532 - 7478 - 3216 - 9800 - 8000

ENTRAÎNEMENT 3

Ex 1 : Puis place les 5 nombres suivants dans le tableau.

2

Classe des milles			Unités simples		
Centaines de mille	Dizaines de mille	Unités de mille	Centaines	dizaines	Unités
			6	3	7
			4	2	0
		7	6	0	4
		8	5	0	0
		1	0	0	0

Ex 2 : Recopie les nombres suivants en plaçant l'espace au bon endroit.

1 478 - 2 365 - 3 000 - 4 200 - 5 040 - 6 003 - 7 423 - 8 630 - 9 871 - 4 878

Ex 3 : Recopie puis entoure le chiffre des dizaines dans les nombres suivants.

58 - 63 - 78 - 90 - 856 - 748 - 600 - 7965 - 5320 - 4500

Ex 4 : Recopie puis entoure le chiffre des unités dans les nombres suivants.

32 - 77 - 90 - 568 - 610 - 8547 - 3698 - 5040 - 6300 - 9639

Ex 5 : Recopie puis entoure le nombre de dizaines dans les nombres suivants.

478 - 69 - 657 - 2358 - 700 - 5480 - 8230 - 4500 - 9999 - 6543 - 3210

Ex 6 : Recopie puis entoure le nombre de centaines dans les nombres suivants.

8700 - 6357 - 5412 - 3500 - 6785 - 987 - 500 - 7000 - 6600 - 7455

ENTRAÎNEMENT 4

Ex 1 : Place les 5 nombres suivants dans le tableau.

4

Classe des milles			Unités simples		
Centaines de mille	Dizaines de mille	Unités de mille	Centaines	dizaines	Unités
			8	5	4
		5	2	4	5
			7	0	0
		3	0	0	4
		5	6	8	7

Ex 2 : Recopie les nombres suivants en plaçant l'espace au bon endroit.

8 888 - 7 654 - 5 324 - 4 785 - 8 569 - 8 000 - 5 600 - 3 322 - 4 125 - 2 001

Ex 3 : Recopie puis entoure le chiffre des dizaines dans les nombres suivants.

37 - 49 - 80 - 234 - 874 - 305 - 555 - 6 342 - 8 505 - 4 900 - 2 000

Ex 4 : Recopie puis entoure le chiffre des unités dans les nombres suivants.

41 - 75 - 10 - 698 - 420 - 6 354 - 4 531 - 2 400 - 8 900 - 4 001

Ex 5 : Recopie puis entoure le nombre de dizaines dans les nombres suivants.

632 - 47 - 324 - 200 - 4 785 - 5 554 - 4 230 - 8 700 - 6 480 - 1 497 - 6 000

Ex 6 : Recopie puis entoure le nombre de centaines dans les nombres suivants.

478 - 2 500 - 3 784 - 4 525 - 2 304 - 2 657 - 4 823 - 9 004 - 7 000 - 6 239

ENTRAÎNEMENT 5

Ex 1 : Place les 5 nombres suivants dans le tableau.

5

Classe des milles			Unités simples		
Centaines de mille	Dizaines de mille	Unités de mille	Centaines	dizaines	Unités
				4	9
			7	4	8
		6	8	4	7
		6	3	2	1
		5	4	0	0

Ex 2 : Recopie les nombres suivants en plaçant l'espace au bon endroit.

4 444 - 2 358 - 4 100 - 5 000 - 4 478 - 3 210 - 8 000 - 4 322 - 8 456 - 2 011

Ex 3 : Recopie puis entoure le chiffre des dizaines dans les nombres suivants.

54 - 36 - 478 - 239 - 450 - 1 200 - 2045 - 8005 - 4700 - 6359

Ex 4 : Recopie puis entoure le chiffre des unités dans les nombres suivants.

365 - 874 - 36 - 894 - 800 - 1 475 - 9 855 - 6 322 - 9 600 - 4 000 - 6 511

Ex 5 : Recopie puis entoure le nombre de dizaines dans les nombres suivants.

641 - 320 - 500 - 455 - 6 987 - 4 294 - 7 359 - 3 141 - 5 000 - 3 200

Ex 6 : Recopie puis entoure le nombre de centaines dans les nombres suivants.

321 - 1 453 - 2 001 - 4 500 - 6 550 - 4 998 - 8 590 - 4 670 - 7 777 - 5 367