


Nom :

Résultat :
...../33

Test passage de la ceinture verte de numération

Série A

Objectifs : Connaître, savoir écrire en chiffres et nommer les nombres entiers jusqu'à 9 999



A faire sur la fiche

Ex 1 : Place les 5 nombres suivants dans le tableau.

Classe des mille			Classe des unités simples		
Centaines de mille	Dizaines de mille	Unités de mille	Centaines	Dizaines	Unités

47 521 - 234 869 - 632 412 - 958 789 - 666 321

Ex 2 : Recopie les nombres suivants en plaçant l'espace au bon endroit

452147 - 236654 - 555 234 - 896321 - 8500410 - 3254789 - 63241 - 896200

Ex 3 : Entoure le chiffre des dizaines de mille dans les nombres suivants

47 852 - 324 784 - 632 410 - 800 000 - 4 521 000

Ex 4 : Entoure le chiffre des unités de mille dans les nombres suivants.

24 789 - 325 840 - 650 000 - 697 987 - 5 630 470

Ex 5 : Entoure le nombre de dizaines de mille dans les nombres suivants

630 214 - 74 255 - 896 300 - 200 147 - 1 231 014

Ex 6 : Entoure le nombre de centaines dans les nombres suivants

478 963 - 412 555 - 478 444 - 20 000 - 8 600 047

Tu peux utiliser ton tableau de numération pour t'aider

Pour réussir tu dois avoir
27 bonnes réponses.




Nom :

Résultat :
...../33

Test passage de la ceinture verte de numération - correction

Série A

Objectifs : Connaître, savoir écrire en chiffres et nommer les nombres entiers jusqu'à 9 999



Ex 1 : Place les 5 nombres suivants dans le tableau.

Classe des milles			Unités simples		
Centaines de mille	Dizaines de mille	Unités de mille	Centaines	dizaines	Unités
	4	7	5	2	1
2	3	4	8	6	9
6	3	2	4	1	2
9	5	8	7	8	9
6	6	6	3	2	1

Ex 2 : Recopie les nombres suivants en plaçant l'espace au bon endroit

452 147 - 236 654 - 555 234 - 896 321 - 8 500 410 - 3 254 789 - 63 241 - 896 200

Ex 3 : Entoure le chiffre des dizaines de mille dans les nombres suivants

47 852 - 324 784 - 632 410 - 800 000 - 4 521 000

Ex 4 : Entoure le chiffre des unités de mille dans les nombres suivants.

24 789 - 325 840 - 650 000 - 697 987 - 5 630 470

Ex 5 : Entoure le nombre de dizaines de mille dans les nombres suivants

630 214 - 74 255 - 896 300 - 200 147 - 1 231 014

Ex 6 : Entoure le nombre de centaines dans les nombres suivants

478 963 - 412 555 - 478 444 - 20 000 - 8 600 047




Nom :

Résultat :
...../33

Test passage de la ceinture verte de numération

Série B

Objectifs : Connaître, savoir écrire en chiffres et nommer les nombres entiers jusqu'à 9 999



A faire sur la fiche

Ex 1 : Place les 5 nombres suivants dans le tableau.

Classe des mille			Classe des unités simples		
Centaines de mille	Dizaines de mille	Unités de mille	Centaines	Dizaines	Unités

89 000 - 632 410 - 987 456 - 300 210 - 987 412

Ex 2 : Recopie les nombres suivants en plaçant l'espace au bon endroit

8963200 - 741951 - 663544 - 789321 - 300200 - 899633 - 7458214 - 32146

Ex 3 : Entoure le chiffre des dizaines de mille dans les nombres suivants

856 321 - 456 200 - 650 004 - 980 055 - 4 632 415

Ex 4 : Entoure le chiffre des unités de mille dans les nombres suivants.

41 254 - 632 478 - 320 144 - 958 632 - 4 000 124

Ex 5 : Entoure le nombre de dizaines de mille dans les nombres suivants

457 896 - 200 000 - 634 506 - 987 453 - 2 247 722

Ex 6 : Entoure le nombre de centaines dans les nombres suivants

369 412 - 632 000 - 784 563 - 999 987 - 5 410 201

Tu peux utiliser ton tableau de numération pour t'aider

Pour réussir tu dois avoir
27 bonnes réponses.




Nom :

Résultat :
...../33

Test passage de la ceinture verte de numération - correction

Série B

Objectifs : Connaître, savoir écrire en chiffres et nommer les nombres entiers jusqu'à 9 999



Ex 1 : Place les 5 nombres suivants dans le tableau.

Classe des milles			Unités simples		
Centaines de mille	Dizaines de mille	Unités de mille	Centaines	dizaines	Unités

Ex 2 : Recopie les nombres suivants en plaçant l'espace au bon endroit

8 963 200 - 741 951 - 663 544 - 789 321 - 300 200 - 899 633 - 7 458 214 - 32 146

Ex 3 : Entoure le chiffre des dizaines de mille dans les nombres suivants

8 5 6 321 - 4 5 6 200 - 6 5 0 004 - 9 8 0 055 - 4 6 3 2 415

Ex 4 : Entoure le chiffre des unités de mille dans les nombres suivants.

4 1 254 - 63 2 478 - 32 0 144 - 95 8 632 - 4 00 0 124

Ex 5 : Entoure le nombre de dizaines de mille dans les nombres suivants

45 7 896 - 20 0 000 - 63 4 506 - 98 7 453 - 2 24 7 722

Ex 6 : Entoure le nombre de centaines dans les nombres suivants

369 4 12 - 632 0 00 - 784 5 63 - 999 9 87 - 5 410 2 01



Nom :

Résultat :
...../33

Test passage de la ceinture verte de numération

Série C

Objectifs : Connaître, savoir écrire en chiffres et nommer les nombres entiers jusqu'à 9 999



A faire sur la fiche

Ex 1 : Place les 5 nombres suivants dans le tableau.

Classe des mille			Classe des unités simples		
Centaines de mille	Dizaines de mille	Unités de mille	Centaines	Dizaines	Unités

74 000 - 235 410 - 896 321 - 40 058 - 63 210

Ex 2 : Recopie les nombres suivants en plaçant l'espace au bon endroit

411024 - 655223 - 410000 - 563000 - 47521 - 8654222 - 998774 - 1000000

Ex 3 : Entoure le chiffre des dizaines de mille dans les nombres suivants

896 547 - 23 544 - 412 000 - 850 255 - 1 235 401

Ex 4 : Entoure le chiffre des unités de mille dans les nombres suivants.

456 687 - 49 999 - 90 047 - 630 214 - 5 563 217

Ex 5 : Entoure le nombre de dizaines de mille dans les nombres suivants

741 147 - 204 589 - 562 147 - 632 478

Ex 6 : Entoure le nombre de centaines dans les nombres suivants

8 956 144 - 236 966 - 124 478 - 652 231 - 963 247

Tu peux utiliser ton tableau de numération pour t'aider

Pour réussir tu dois avoir
27 bonnes réponses.




Nom :

Résultat :
...../33

Test passage de la ceinture verte de numération - correction

Série C

Objectifs : Connaître, savoir écrire en chiffres et nommer les nombres entiers jusqu'à 9 999



Ex 1 : Place les 5 nombres suivants dans le tableau.

Classe des milles			Unités simples		
Centaines de mille	Dizaines de mille	Unités de mille	Centaines	dizaines	Unités
	7	4	0	0	0
2	3	5	4	1	0
8	9	6	3	2	1
	4	0	0	5	8
	6	3	2	1	0

Ex 2 : Recopie les nombres suivants en plaçant l'espace au bon endroit

411 024 - 655 223 - 410 000 - 563 000 - 47 521 - 8 654 222 - 998 774 - 1 000 000

Ex 3 : Entoure le chiffre des dizaines de mille dans les nombres suivants

896 547 - 23 544 - 412 000 - 850 255 - 1 235 401

Ex 4 : Entoure le chiffre des unités de mille dans les nombres suivants.

456 687 - 49 999 - 90 047 - 630 214 - 5 563 217

Ex 5 : Entoure le nombre de dizaines de mille dans les nombres suivants

741 147 - 204 589 - 562 147 - 632 478

Ex 6 : Entoure le nombre de centaines dans les nombres suivants

8 9 5 6 144 - 236 966 - 124 478 - 652 231 - 963 247




Nom :

Résultat :
...../33

Test passage de la ceinture verte de numération

Série D

Objectifs : Connaître, savoir écrire en chiffres et nommer les nombres entiers jusqu'à 9 999



A faire sur la fiche

Ex 1 : Place les 5 nombres suivants dans le tableau.

Classe des mille			Classe des unités simples		
Centaines de mille	Dizaines de mille	Unités de mille	Centaines	Dizaines	Unités

632 147 - 96 300 - 40 000 - 635 748 - 268 742

Ex 2 : Recopie les nombres suivants en plaçant l'espace au bon endroit

144789 - 632214 - 785411 - 63214 - 9632147 - 2111100 - 987522 - 63214

Ex 3 : Entoure le chiffre des dizaines de mille dans les nombres suivants

41 235 - 785 411 - 235 698 - 904 409 - 2 365 541

Ex 4 : Entoure le chiffre des unités de mille dans les nombres suivants.

478 523 - 326 549 - 412 000 - 954 123 - 4 400 985

Ex 5 : Entoure le nombre de dizaines de mille dans les nombres suivants

985 632 - 14 401 - 452 100 - 258 416 - 1 147 888

Ex 6 : Entoure le nombre de centaines dans les nombres suivants

965 847 - 412 417 - 632 547 - 498 999 - 9 500 000

Tu peux utiliser ton tableau de numération pour t'aider

Pour réussir tu dois avoir
27 bonnes réponses.




Nom :

Résultat :
...../33

Test passage de la ceinture verte de numération - correction

Série D

Objectifs : Connaître, savoir écrire en chiffres et nommer les nombres entiers jusqu'à 9 999



Ex 1 : Place les 5 nombres suivants dans le tableau.

Classe des milles			Unités simples		
Centaines de mille	Dizaines de mille	Unités de mille	Centaines	dizaines	Unités
6	3	2	1	4	7
	9	6	3	0	0
	4	0	0	0	0
6	3	5	7	4	8
2	6	8	7	4	2

Ex 2 : Recopie les nombres suivants en plaçant l'espace au bon endroit

144 789 - 632 214 - 785 411 - 63 214 - 9 632 147 - 2 111 100 - 987 522 - 63 214

Ex 3 : Entoure le chiffre des dizaines de mille dans les nombres suivants

41 235 - 75 411 - 235 698 - 904 409 - 2 365 541

Ex 4 : Entoure le chiffre des unités de mille dans les nombres suivants.

478 523 - 326 549 - 412 000 - 954 123 - 4 400 985

Ex 5 : Entoure le nombre de dizaines de mille dans les nombres suivants

985 632 - 14 401 - 452 100 - 258 416 - 1 147 888

Ex 6 : Entoure le nombre de centaines dans les nombres suivants

965 847 - 412 417 - 632 547 - 498 999 - 9 500 000

