

# La circulation des biens et des Hommes

Introduction : Lire une carte routière

## Numérotation - Signalisation

Route européenne - Autoroute  
Route nationale - départementale

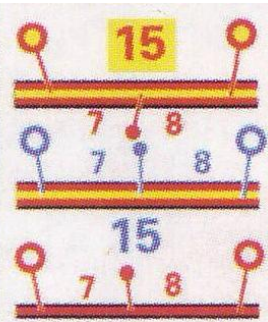


## Distances (totalisées et partielles)

Section à péage sur autoroute

Section libre sur autoroute

Sur route



## Routes

Autoroute - Station-service - Aire de repos  
Double chaussée de type autoroutier

Échangeurs : complet, partiels  
Numéros d'échangeurs

Route de liaison internationale ou nationale  
Route de liaison interrégionale ou de dégagement

Route revêtue - non revêtue

Chemin d'exploitation - Sentier

Autoroute - Route en construction  
le cas échéant: date de mise en service prévue)



## Sports - Loisirs

Stade - Golf - Hippodrome

Port de plaisance - Baignade - Parc aquatique

Base ou parc de loisirs - Circuit automobile

Piste cyclable / Voie Verte

Source : Association Française des Véloroutes et Voies Vertes

Refuge de montagne - Sentier de grande randonnée



## Curiosités

Principales curiosités : voir LE GUIDE VERT

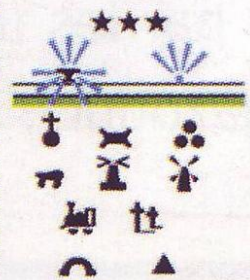
Table d'orientation - Panorama - Point de vue  
Parcours pittoresque

Édifice religieux - Château - Ruines

Monument mégalithique - Phare - Moulin à vent

Train touristique - Cimetière militaire

Grotte - Autres curiosités



## Transports

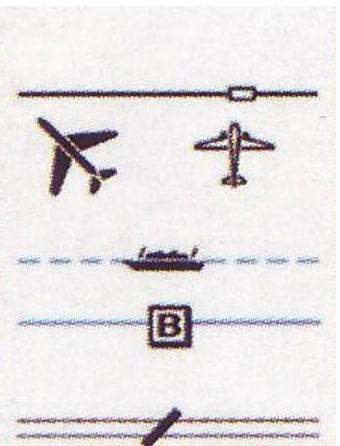
Voie ferrée - Gare

Aéroport - Aérodrome

Transport des autos :  
par bateau

par bac ( le Guide MICHELIN donne le numéro  
de téléphone des principaux bacs )

Bac pour piétons et cycles









# Je sais bien lire une carte routière


## Lire la légende

1. De quelles couleurs sont les autoroutes ?
2. De quelles couleurs sont les voies rapides ?
3. De quelle couleur sont les principales routes ?
4. De quelles couleurs sont les routes départementales (routes moyennes) ?
5. De quelles couleurs sont les petites routes ?
6. Quel signe sert à marquer la présence d'un golf sur la carte ?

## Je lis la carte et je l'utilise

7. Quel est le nom de plus la ville la plus grande de cette carte ? Justifie ta réponse.
8. Y a-t-il un aéroport autour de Lyon ? si oui quel est son nom ? Donne le nom de 2 ou 3 villages autour de l'aéroport ?
9. Quelle autoroute passe près de l'aéroport ?
10. Quel route dois-je utiliser pour aller de saint Symphorien d'ozon (sud de Lyon) à Saint pierre de Chandieu ?
11. Y a-t-il un ou plusieurs golfs sur cette carte ? pose un morceau de papier au-dessus

## Si j'ai fini avant

12. Combien y a-t-il de kilomètres pour aller de Meyzieu à pommier ? 
13. Selon toi comment sont représentées les zones forestières ?
14. Quelle est la seconde plus grosse ville après Lyon sur cette carte ?
15. Où se trouve ta ville par rapport à Lyon ? (utilise les points cardinaux)