


Retrouve la taille de chaque segment

CE2



Compétence : Vérifier la nature d'une figure plane en utilisant la règle graduée et l'équerre

Géométrie N°1

4 cm

5 cm

7 cm

9 cm

8 cm

6 cm

Géométrie N°2

11 cm

14 cm

12 cm


15 cm

10 cm

13 cm

Retrouve la taille de chaque segment

CE2



Compétence : Vérifier la nature d'une figure plane en utilisant la règle graduée et l'équerre

Retrouve la taille de chaque segment

CE2



Compétence : Vérifier la nature d'une figure plane en utilisant la règle graduée et l'équerre

Géométrie N°3

4 cm 3 mm

2 cm 5 mm

5 cm 1 mm

3 cm 8 mm

1 cm 9 mm

3 cm 1 mm

Géométrie N°4

5 cm 2 mm

5 cm 9 mm

6 cm 4 mm



7 cm

8 cm 1 mm

7 cm 8 mm

Retrouve la taille de chaque segment


CE2



Compétence : Vérifier la nature d'une figure plane en utilisant la règle graduée et l'équerre

Retrouve la taille de chaque segment

CE2



Compétence : Vérifier la nature d'une figure plane en utilisant la règle graduée et l'équerre

Géométrie N°5

8 cm 6 mm

8 cm 2 mm

8 cm 9 mm

4 cm 8 mm

4 cm 5 mm

4 cm 1 mm

Géométrie N°6

6 cm 2 mm

6 cm 9 mm

6 cm 0 mm

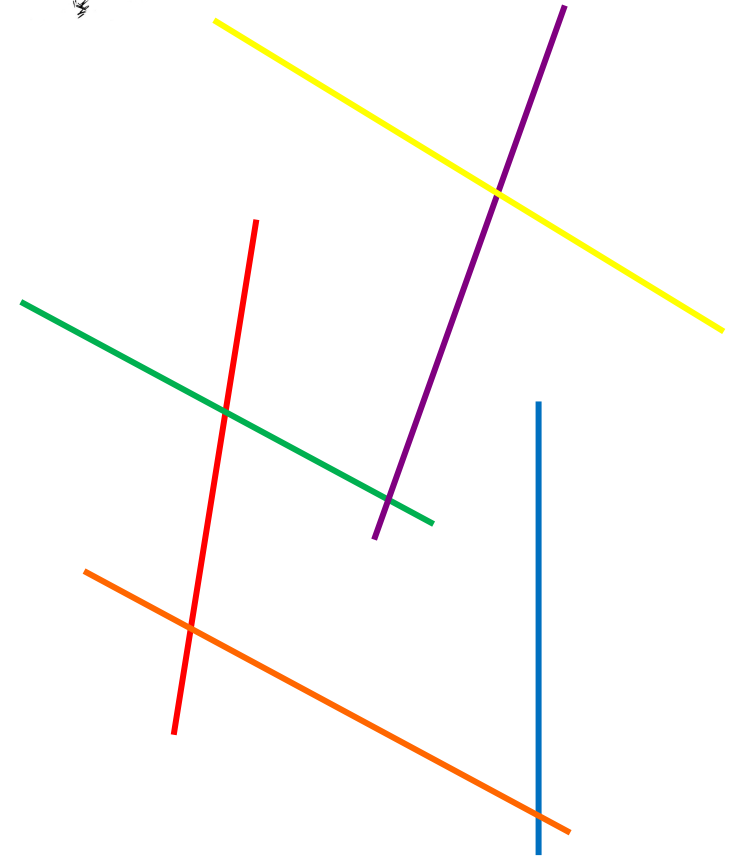

7 cm 3 mm

7 cm 5 mm

7 cm 9 mm

Retrouve la taille de chaque segment



CE2



Compétence : Vérifier la nature d'une figure plane en utilisant la règle graduée et l'équerre

Classe les segments du plus petit au plus grand

CE2



Compétence : Vérifier la nature d'une figure plane en utilisant la règle graduée et l'équerre

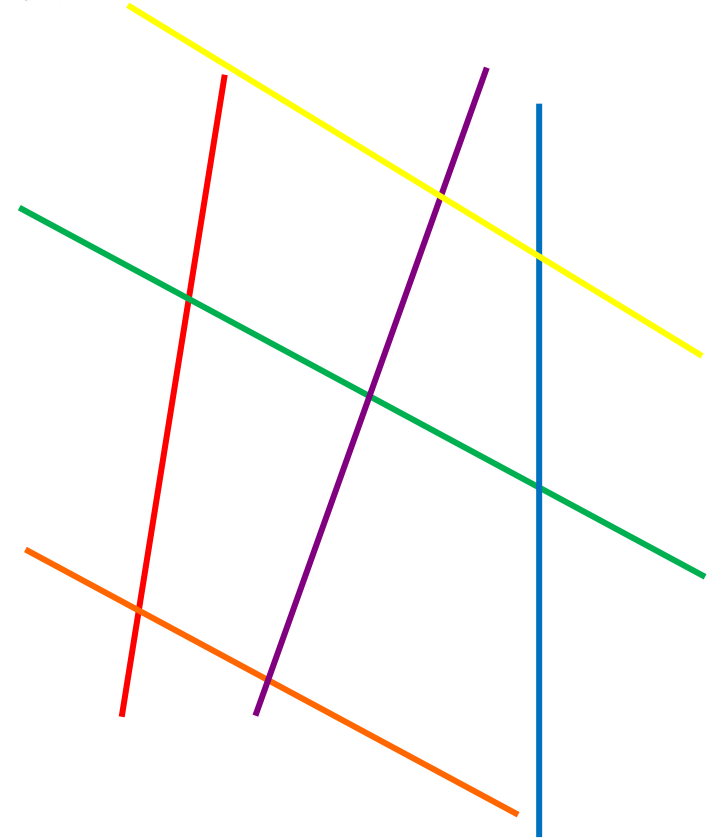

Géométrie N°7

1
2
3
4
5
6

Géométrie N°8

Classe les segments du plus petit au plus grand

CE2



Compétence : Vérifier la nature d'une figure plane en utilisant la règle graduée et l'équerre

Mesurer un segment - Correction

CE2



Géométrie N°1	Géométrie N°2	Géométrie N°3	Géométrie N°4

Mesurer un segment - correction

CE2



Géométrie N°5	Géométrie N°6	Géométrie N°7	Géométrie N°8