

# Fiche Bonus N°5 : Les pyramides Niveau 1

Score : ...../10

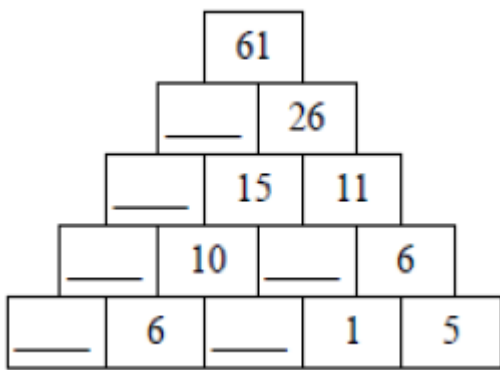
## Règle du jeu :

- Il s'agit de trouver les nombres manquants en effectuant des additions.
- Si on additionne les deux nombres d'en bas on trouve celui du dessus (dans la pyramide N°1  $1+5 = 6$  en dessus et ensuite on cherche  $6+... = 11$ )
- Le but est de remplir toutes les cases de chaque pyramide pour trouver le nombre d'en haut.

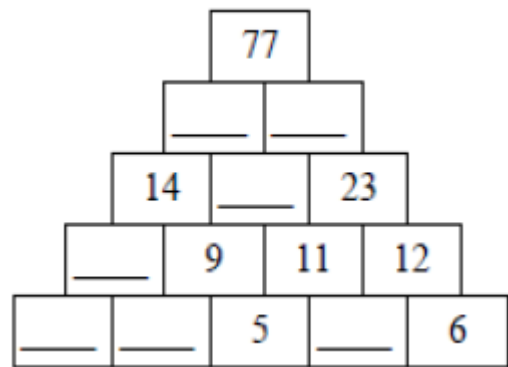
## Comment commencer ?

- il faut commencer par les nombres du bas et ne pas hésiter à faire des additions à trous ou des soustractions pour trouver le nombre qu'il manque.
- Tu peux ensuite vérifier tes résultats.

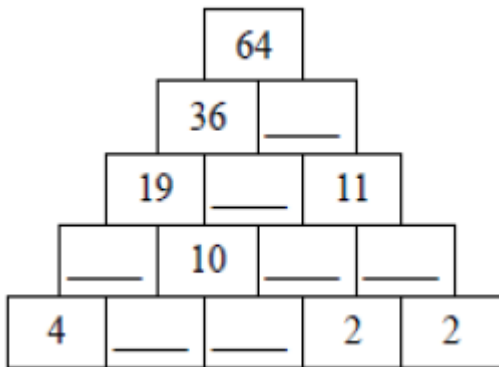
Pense à utiliser ton crayon à papier au cas où tu te trompes. Ainsi tu pourras gommer et te corriger.  
Cette fiche peut rapporter 10 points à toi et à ton groupe



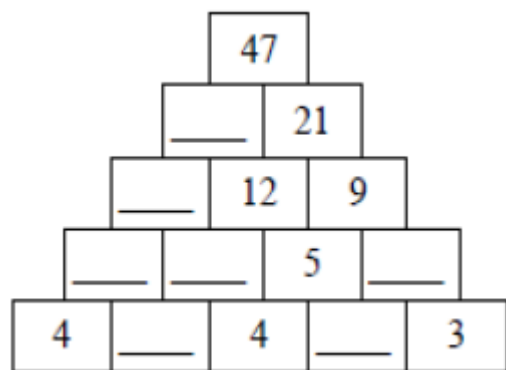
Pyramide 1



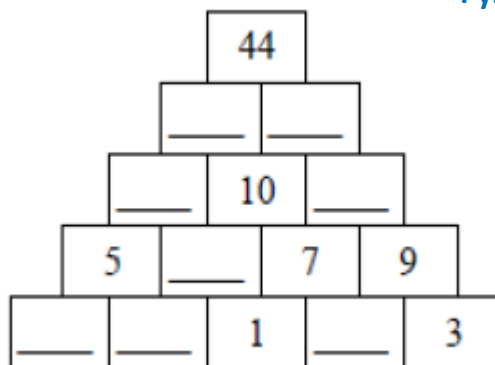
Pyramide 2



Pyramide 3



Pyramide 4



Pyramide 5

# Fiche Bonus N°5 : Les pyramides Niveau 1 - Correction

## Règle du jeu :

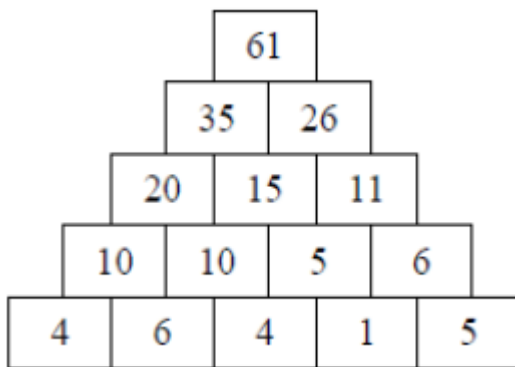
- Il s'agit de trouver les nombres manquants en effectuant des additions.
- Si on additionne les deux nombres d'en bas on trouve celui du dessus (dans la pyramide N°1  $1+5 = 6$  en dessous et ensuite on cherche  $6+... = 11$ )
- Le but est de remplir toutes les cases de chaque pyramide pour trouver le nombre d'en haut.

## Comment commencer ?

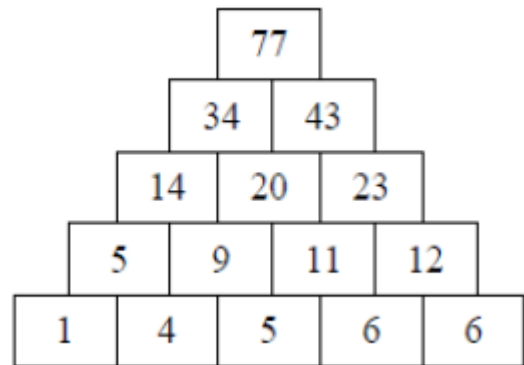
- il faut commencer par les nombres du bas et ne pas hésiter à faire des additions à trous ou des soustractions pour trouver le nombre qu'il manque.
- Tu peux ensuite vérifier tes résultats.

**Pense à utiliser ton crayon à papier au cas où tu te trompes. Ainsi tu pourras gommer et te corriger.**

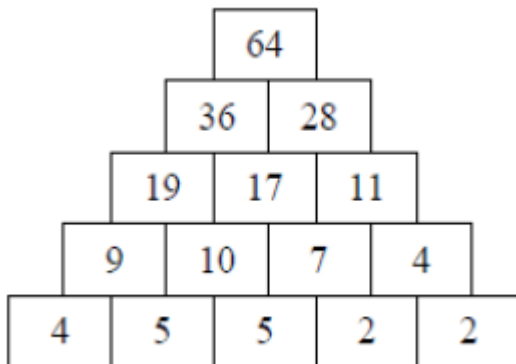
Cette fiche peut rapporter 10 points à toi et à ton groupe



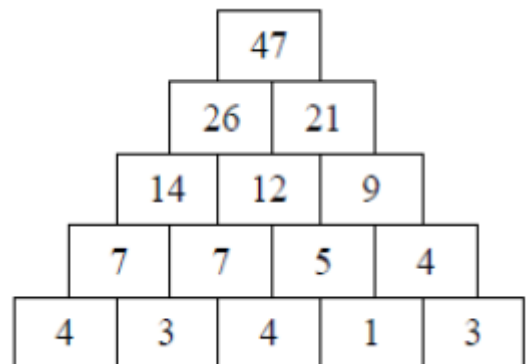
Pyramide 1



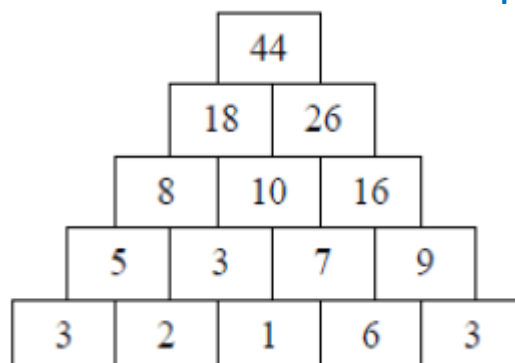
Pyramide 2



Pyramide 3



Pyramide 4



Pyramide 5