

Fiche Bonus N°7 : Les pyramides Niveau 1

Score :/10

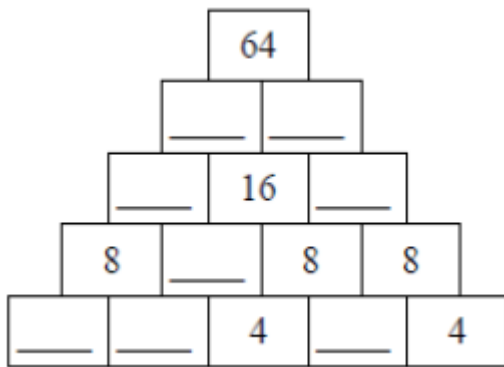
Règle du jeu :

- Il s'agit de trouver les nombres manquants en effectuant des additions.
- Si on additionne les deux nombres d'en bas on trouve celui du dessus (dans la pyramide N°1 $1+5 = 6$ en dessus et ensuite on cherche $6+... = 11$)
- Le but est de remplir toutes les cases de chaque pyramide pour trouver le nombre d'en haut.

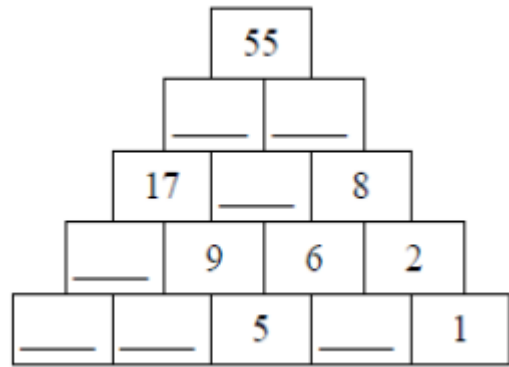
Comment commencer ?

- il faut commencer par les nombres du bas et ne pas hésiter à faire des additions à trous ou des soustractions pour trouver le nombre qu'il manque.
- Tu peux ensuite vérifier tes résultats.

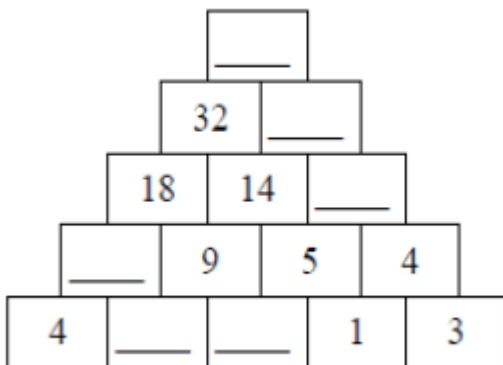
Pense à utiliser ton crayon à papier au cas où tu te trompes. Ainsi tu pourras gommer et te corriger.
Cette fiche peut rapporter 10 points à toi et à ton groupe



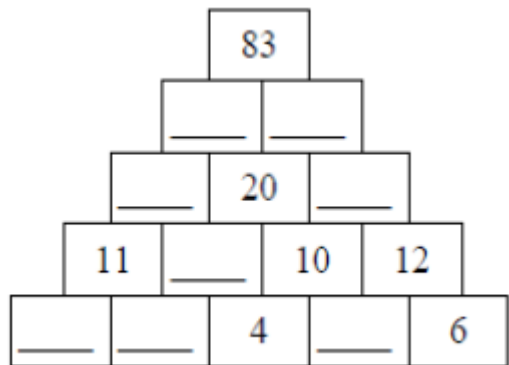
Pyramide 1



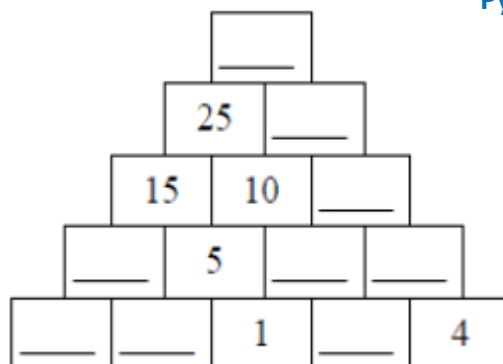
Pyramide 2



Pyramide 3



Pyramide 4



Pyramide 5

Fiche Bonus N°7 : Les pyramides Niveau 1 - Correction

Règle du jeu :

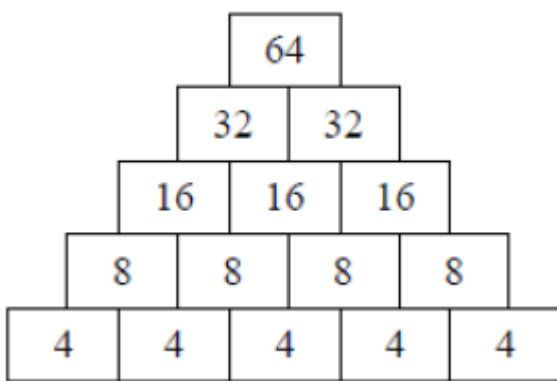
- Il s'agit de trouver les nombres manquants en effectuant des additions.
- Si on additionne les deux nombres d'en bas on trouve celui du dessus (dans la pyramide N°1 $1+5 = 6$ en dessus et ensuite on cherche $6+... = 11$)
- Le but est de remplir toutes les cases de chaque pyramide pour trouver le nombre d'en haut.

Comment commencer ?

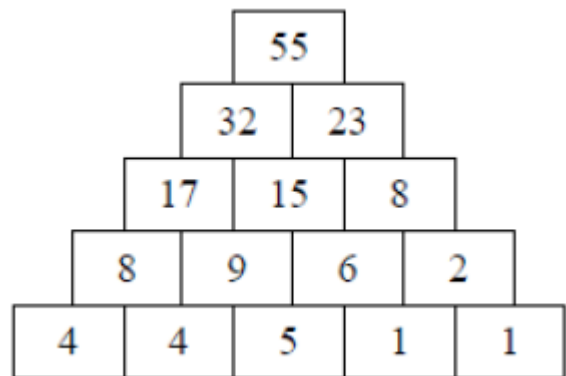
- il faut commencer par les nombres du bas et ne pas hésiter à faire des additions à trous ou des soustractions pour trouver le nombre qu'il manque.
- Tu peux ensuite vérifier tes résultats.

Pense à utiliser ton crayon à papier au cas où tu te trompes. Ainsi tu pourras gommer et te corriger.

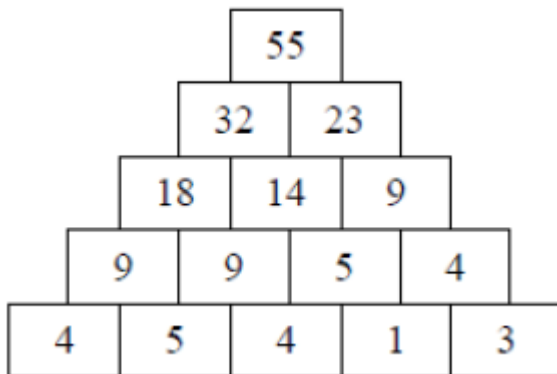
Cette fiche peut rapporter 10 points à toi et à ton groupe



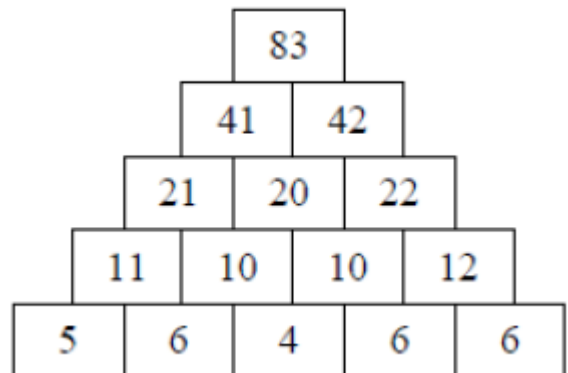
Pyramide 1



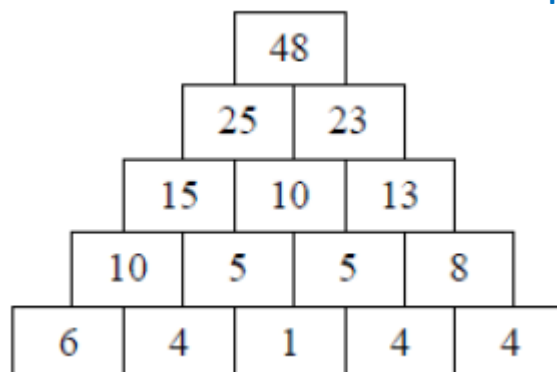
Pyramide 2



Pyramide 3



Pyramide 4



Pyramide 5