

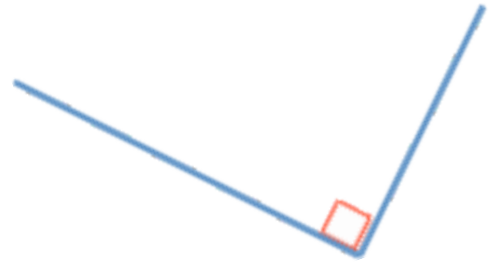


# Mathématiques CM


Mesure 4

## Identifier et reproduire des angles


♥ Deux .....  
 ..... forment un  
 .....




On peut comparer des angles en les découpant et en les superposant ou en utilisant un **gabarit** ou un **calque**.



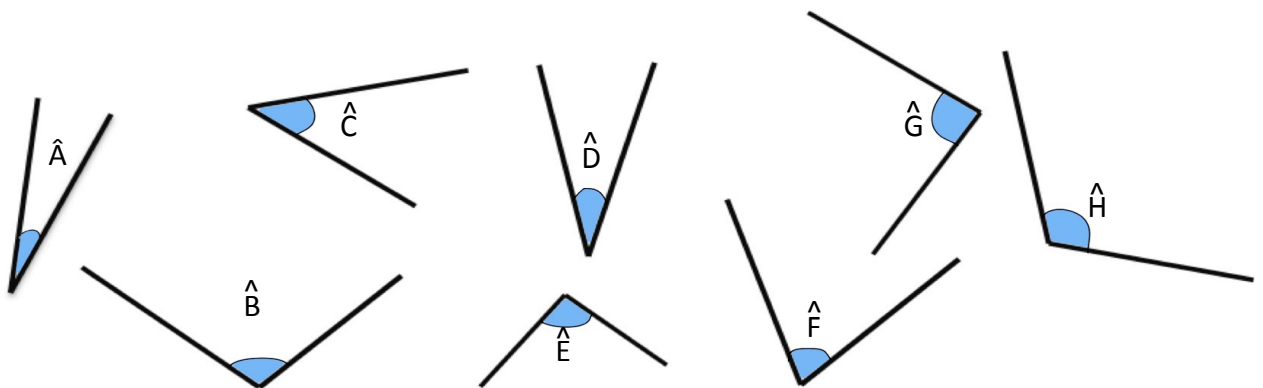
♥ Un angle .....  
 ..... est un .....



♥ Un angle .....  
 ..... est un .....



**1** Observe les angles puis complète le tableau :



ANGLE	A	B	C	D	E	F	G	H
<i>droit</i>								
<i>aigu</i>								
<i>obtus</i>								