

1



Alex et Lisa se partagent le trésor.
Chacun doit recevoir le même nombre de pépites et il
doit rester le moins de pépites.
Combien de pépites aura chaque enfant?

Two empty boxes for the answer: a large rounded rectangle on the left and a smaller square on the right.



9



Alex a 18 billes. Lisa, en jouant, lui en gagne 7.
Combien de billes aura Alex à la fin de la partie.

Two empty boxes for the answer: a large rounded rectangle on the left and a smaller square on the right.

17



Alex, Moustik et Lisa se partagent le trésor.
Chacun doit recevoir le même nombre de pépites et il
doit rester le moins de pépites.
Combien de pépites aura chaque personnages?

Two empty boxes for the answer: a large rounded rectangle on the left and a smaller square on the right.



2

Lisa a 7 images. Elle reçoit 5 images en cadeau.
Combien d'images Lisa a-t-elle maintenant ?



--	--




10

Lilou a ramassé 15 noisettes. Jules en a ramassé 7.
Combien de noisettes ont-ils ramassé en tout ?



--	--



18

La maîtresse doit corriger 2 piles de 24 cahiers.
Combien de cahiers doit-elle corriger ?



--	--

Alex a 8 images.
Il en donne 3 à sa sœur.
Combien a-t-il d'images maintenant.



3



Alex et Lisa achète un paquet de 18 bonbons.
Ils partagent le paquet en deux parts égales.
Combien de bonbons ont-ils chacun?

11



Alex a 7 billes bleues, Lisa a 15 billes rouges et Moustik a 10 billes vertes. Ils mettent toutes leurs billes dans un grand sac.
Combien de billes y a-t-il dans le sac?




19



4

Maman achète deux boîtes de feutre au supermarché.
Chaque boîte contient 6 feutres.
Combien y a-t-il de feutres en tout?

--	--



12

Lisa a deux billets de 5 euros dans sa tirelire.
Combien a-t-elle en tout?

--	--



20

Alex doit ramassé 29 pommes pour sa maman. Il en a
déjà cueillies 20.
Combien doit-il encore cueillir de pomme?

--	--



Sarah a 7 voitures.
Paul lui en donne 4.
Combien de voiture a maintenant Sarah?

5

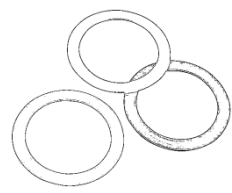
Two empty boxes for the answer: a large rounded rectangle on the left and a smaller square on the right.



Alex ramasse 9 anneaux bleus à la piscine. Lisa ramasse 12 anneaux rouge.
Combien d'anneaux ont-ils ramassé en tout?

13

Two empty boxes for the answer: a large rounded rectangle on the left and a smaller square on the right.



Alex a acheté 3 paquets de gâteaux.
Dans chaque paquets, il y a 14 gâteaux.
Combien de gâteaux y a-t-il en tout?

21

Two empty boxes for the answer: a large rounded rectangle on the left and a smaller square on the right.




6

Le marchand de ballon a 12 ballons.
Il veut les donner à 4 enfants pour que chacun en ait le même nombre.

Combien de ballon aura chaque enfant?

--	--



14

Dans la classe de Lisa, il y a 16 filles et 9 garçons.
Combien y a-t-il d'élèves en tout dans la classe?

--	--



22

Dans la classe, il y a 27 enfants. La maitresse veut faire trois équipes.
Combien y aura-t-il d'équipes?

--	--



7

La maitresse doit acheter trois bouteilles de peinture.
Chaque bouteille coûte 10 euros.
Combien payera-t-elle?



15

La maitresse a fait quatre équipes de 5 enfants.
Il y a combien d'enfants en tout?



23

Alex a 40 billes. Il en donne 14 à son meilleur copain.
Combien lui reste-t-il de billes?



8

Dans le placard, il y a 21 gâteaux.
Alex en mange 4.
Combien de gâteaux reste-t-il dans le placard?



16

Maman sort 12 cookies du four. Elle les partage entre Alex, Lisa et Moustik.
Combien chaque personnage va-t-il manger de cookies?



24

Alex, Lisa et Moustik collectionnent les cartes Pokémon.
Alex a 16 cartes, Lisa en a 23 et Moustik a 7 cartes.
Combien de cartes ont-ils en tout?

