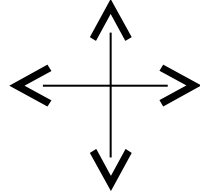



Prénom :	20	LE CIEL ET LA TERRE CE2	Date :/...../20.....		
			A	EA	NA
- la rotation de la Terre sur elle-même et la durée du jour.					
- Lumières et ombres					

1. Complète le schéma /2



2. Dessine l'ombre de ce personnage. /2



3. Réponds aux questions suivantes sur la course du soleil dans le ciel

a) Voit-on toujours le soleil au même endroit dans le ciel? /1,5

b) Où se lève et se couche le Soleil ? /2

c) Explique 2 expériences qui expliquent la course du soleil dans le ciel /4


1.
2.

4) Dessine le mouvement apparent du soleil dans la journée.
Dessine en rouge l'endroit où se trouve le soleil à midi.

5. Colorie la partie éclairée de la Terre et complète :

/3

/3,5



5. Complète le texte à trous.

/2

La Terre effectue un tour sur elle-même en