









<p>1/ Dans la trousse de Pierre, il y a 5 stylos et 6 feutres. Combien Pierre a-t-il d'objets dans sa trousse ?</p>	
<p>.....</p>	


<p>5/ Dans un bouquet, il y a 32 roses et 17 iris. Combien y a-t-il de fleurs dans le bouquet ?</p>	
<p>.....</p>	


<p>2/ Pierre avait 13 billes ce matin en arrivant à l'école. À la récréation il en a perdu 8. Combien de billes lui reste-t-il ?</p>	
<p>.....</p>	

<p>6/ Il y a 12 singes et il y a 9 bananes. Combien de singes n'auront pas de banane ?</p>	
<p>.....</p>	

<p>3/ Il y a 9 enfants et il y a 6 livres. Combien manque-t-il de livres ?</p>	
<p>.....</p>	

<p>7/ Maman a acheté 12 œufs. En les portant elle en casse 3. Combien d'œufs lui reste-t-il ?</p>	
<p>.....</p>	

<p>4/ Ali a 20 images. Il les partage avec Jules, Lea et Evan. Combien chacun aura-t-il d'images ?</p>	
<p>.....</p>	

<p>8/ Ali a 18 petites voitures. Il les partage avec Julie et Evan. Combien chacun aura-t-il de petites voitures ?</p>	
<p>.....</p>	



9/ Pour Noël maman a invité mes 7 cousins et mes 4 cousines. Combien aurons-nous d'invités pour manger?



.....

13/ Katia a 25 roses. Elle en offre 11 à sa cousine. Combien en a-t-elle gardé ?



.....

10/ Lucie a fait 20 pots de confiture de framboises. Elle les a partagés entre ses 4 copines. Combien chaque copine a-t-elle eu de pots de confiture de framboises?



.....

14/ Il y a 10 chiens et il n'y a que 5 os. Combien de chiens n'auront pas d'os ?



.....

11/ Il y a 12 singes et il y a 10 bananes. Combien manque-t-il de bananes ?



.....

15/ Il y a 19 jetons jaunes et 15 jetons rouges dans la boîte. Combien de jetons y a-t-il en tout ?



.....

12/ Charlotte a 15 biscuits dans son sac. Elle en mange 8. Combien lui en reste-t-il ?



.....

16/ Pierre a 18 images de footballeur. Son frère lui en donne 5. Combien Pierre en a-t-il maintenant ?



.....



17/ Il y a 22 élèves en CP, mais la maitresse n'a que 18 bonbons. Combien manque-t-il de bonbons ?



.....

21/ Dans la classe, il y a 4 chaises rouges, 6 chaises bleues et 9 chaises jaunes. Combien y a-t-il de chaises en tout dans la classe ?



.....

18/ La maîtresse avait 68 cahiers. Elle en distribue 26. Combien lui en reste-t-il ?



.....

22/ Anita a 54 bonbons. Elle en dévore 28. Combien de bonbons lui reste-t-il ?



.....

19/ Dans la classe de CE2, il y a 28 élèves. La maitresse veut faire 4 équipes. Combien d'élèves doit-elle mettre dans chaque équipe ?



.....

23/ Sophie joue au jeu de l'oie. Elle est sur la case 29. Elle doit reculer de 7 cases. Sur quelle case va-t-elle arriver ?



.....

20/ Mona a 42 DVD. Elle en achète 8 nouveaux. Combien en a-t-elle maintenant ?



.....

24/ Il y a 5 chats. Combien y a-t-il de pattes ?



.....



25/ Dans la classe de Monsieur Legrand, il y a 15 filles et 12 garçons. Combien d'élèves y a-t-il dans la classe de Monsieur Legrand ?



.....

29/ Tom a mis 24 grenouilles dans son aquarium. 17 grenouilles se sauvent. Combien en reste-t-il dans l'aquarium ?



.....

26/ Anthony a 42 poules dans son poulailler. Un loup passe et en mange 23. Combien y a-t-il de poules vivantes ?



.....

30/ Mona a 42 DVD. Elle en achète 8 nouveaux. Combien en a-t-elle maintenant ?



.....

27/ Dans la classe, il y avait 26 élèves. Deux nouveaux élèves sont arrivés. Combien d'enfants y a-t-il maintenant dans la classe ?



.....

31/ Dans ma boîte de jeu, il y a 21 jetons blancs, 16 jetons rouges et 40 jetons verts. Combien de jetons ai-je dans ma boîte ?



.....

28/ Dans la classe de CE2, il y a 28 élèves. La maîtresse veut faire 4 équipes. Combien d'élèves doit-elle mettre dans chaque équipe ?



.....

32/ Mardi midi, Charlotte est à la page 25 de son livre. Elle décide de lire 10 pages chaque matin. À quelle page sera-t-elle mercredi soir ?



.....

