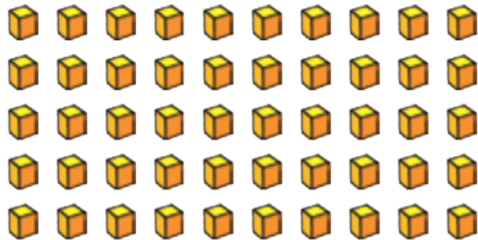


MATHEMATIQUES 48, 49 – Numération/Calcul :

Additions de dizaines et d'unités

Exercice n°1

Entoure 2 dizaines et 4 unités.

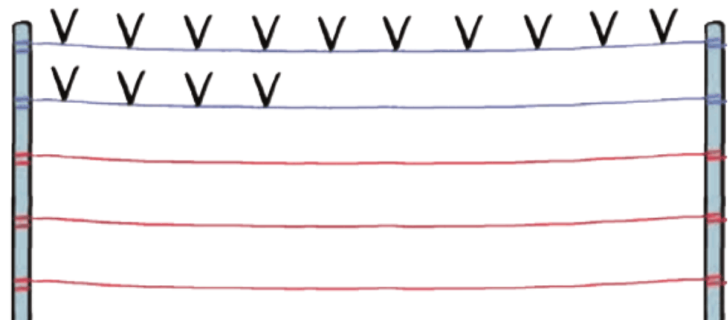


Exercice n°2

Il y a **14** oiseaux sur les fils bleus et **30** oiseaux sur les fils rouges. Dessine les oiseaux qui sont sur les fils rouges, puis complète le calcul et la phrase.

$$14 + \square = \square$$

En tout, il y a oiseaux.

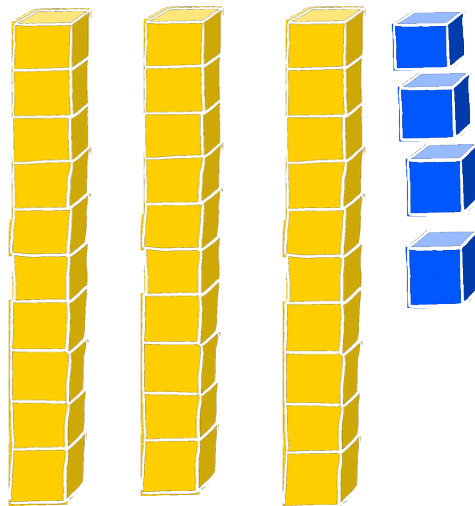


Exercice n°3


Calcule. Tu peux utiliser tes dizaines jaunes et tes unités bleues pour t'aider.

3 dizaines

+ 4 unités



$$10 + 10 + 10 + 4 = \dots$$



$$10 + 10 + 10 + 10 + 8 = \dots$$

Exercice n°4

Calcule :

$$10 + 10 + 10 + 10 + 10 + 1 = \dots$$

$$10 + 10 + 10 + 6 = \dots$$

$$10 + 5 = \dots$$

$$2 + 60 = \dots$$

$$40 + 6 = \dots$$

$$9 + 70 = \dots$$

$$30 + 2 = \dots$$

$$5 + 40 = \dots$$

$$40 + 3 = \dots$$

$$60 + 8 = \dots$$

$$70 + 2 = \dots$$

$$9 + 80 = \dots$$

$$5 + 40 = \dots$$

$$90 + 4 = \dots$$

$$60 + 7 = \dots$$