
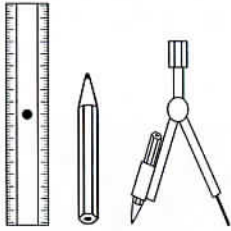


# 8 • Chasse au trésor



## La route du trésor :

- 1 • Soit E le milieu de AB, et E' le milieu de DC.

Trace EE', puis la diagonale DB.

- 2 • Soit F le milieu de la diagonale DB.

Trace le segment AF.

- 3 • Soit G le milieu du segment AE.

Trace le segment GF.

- 4 • Marque le point F', milieu du segment AF.

Trace EF'.

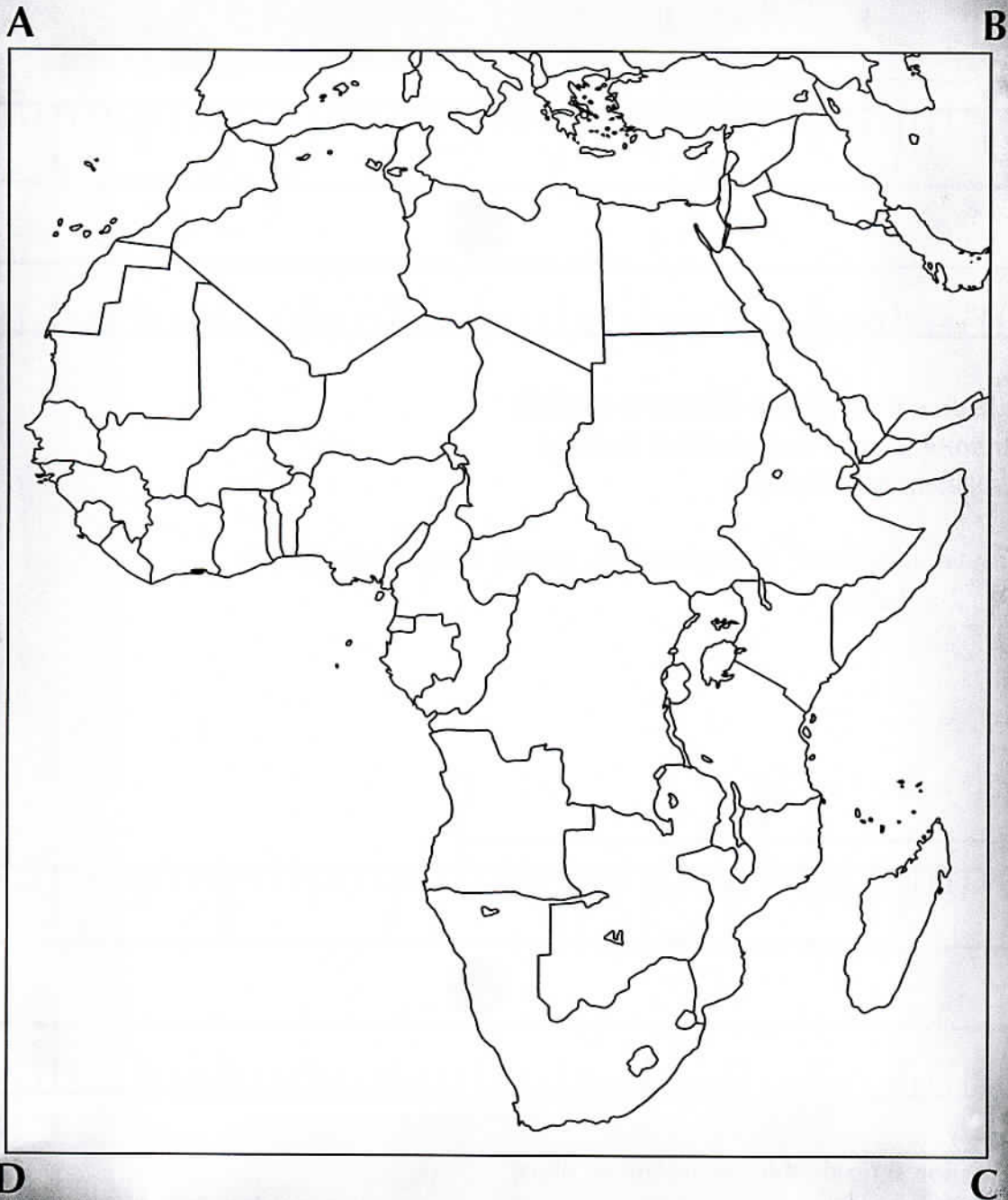
- 5 • GF et EF' se coupent au point H.

LE TRÉSOR EST AU POINT H.

- 6 • Quel est ce pays ?

.....





# 8 • Correction

