












Ecris les nombres manquants.


1	2	3	4	5	6	7	8	9	10
	12	13	14	15	16		18	19	20
21	22	23		25	26	27	28	29	30
31	32	33		35	36	34	38	39	
41	42	43	44	45	46	47	48	49	50
51	52	53	54	55	56	57	58	59	60
61		63	64	65	66	67	68	69	70
71	72	73			76	77	78	79	80
81	82	83	84	85	86	87	88		90
91	92		94	95	96	97	98	99	100

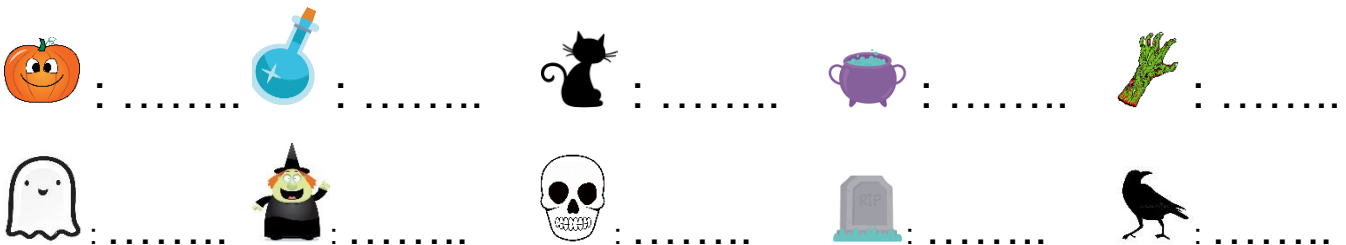
 :  :  :  :  :


 :  :  :  :  :



Ecris les nombres manquants.



			4	5					10
							18		
21									30
				35					
								69	
									
					86				
91									











Ecris les nombres manquants.



1									
							18		
21									
									
									
									
		62							
									
									
									100

 :  :

 :  :

 :  :

 :  :

 :  :