

CE2

1 * Observe cette figure.

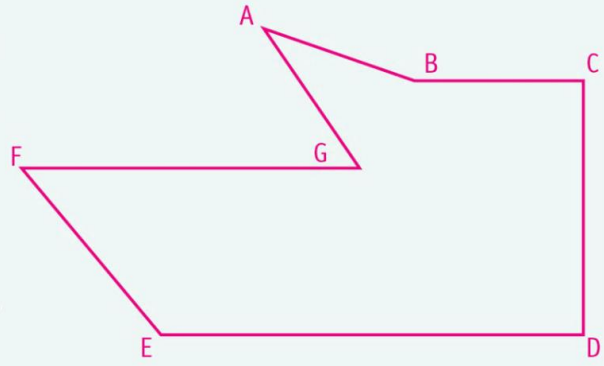
a. Indique le nom de chaque côté :

b. Marque les angles droits.

c. Indique la longueur des segments [DE] et [CD].

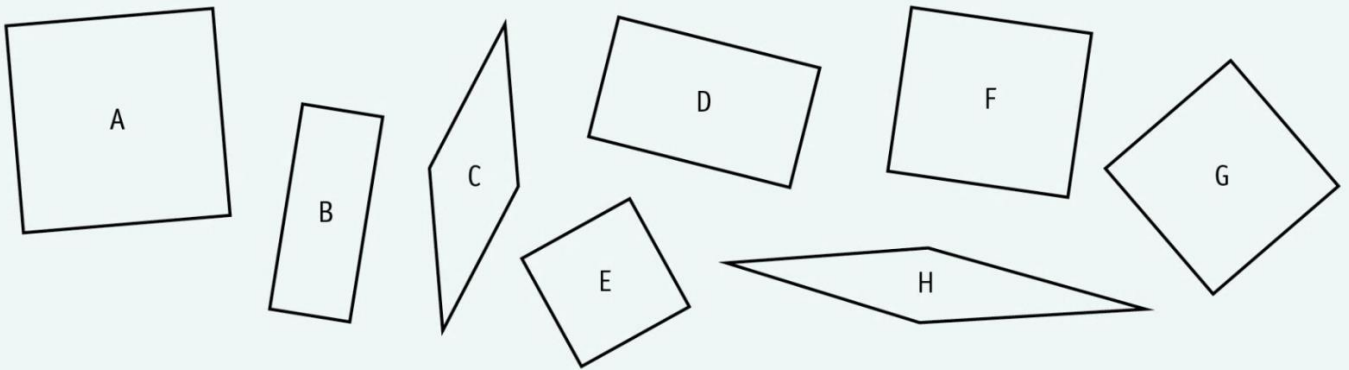
→ DE = CD =

d. Place le milieu des segments [BC] et [FG].



2 * Parmi ces figures, colorie les carrés en bleu, les rectangles en rouge et les losanges en vert.

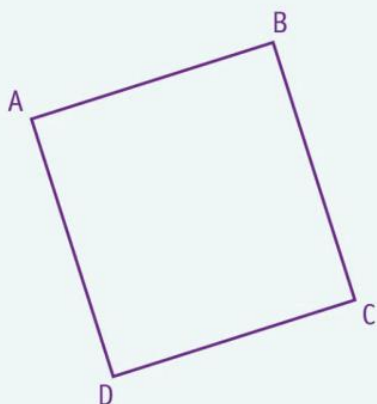
Pense à utiliser ta règle graduée et ton équerre.



CE2

3 ** Décris cette figure et indique son nom.

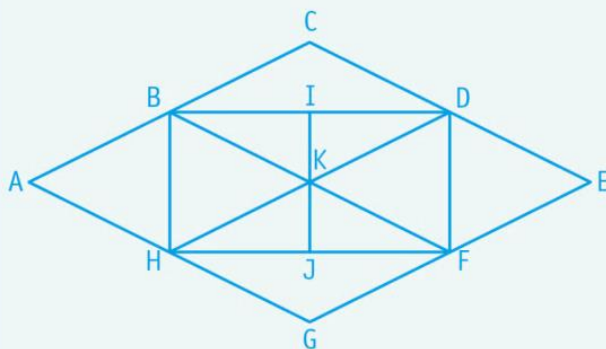
Observe la longueur des côtés et les angles.



.....

.....

4 *** Nomme les carrés, les rectangles et les losanges de cette figure.



Carrés :

Rectangle :


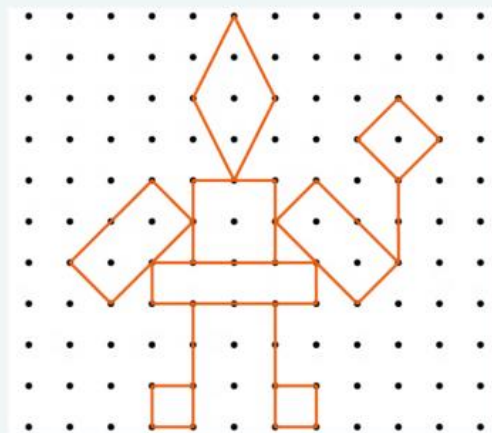
Losanges :

CE2

5 ** Trace :


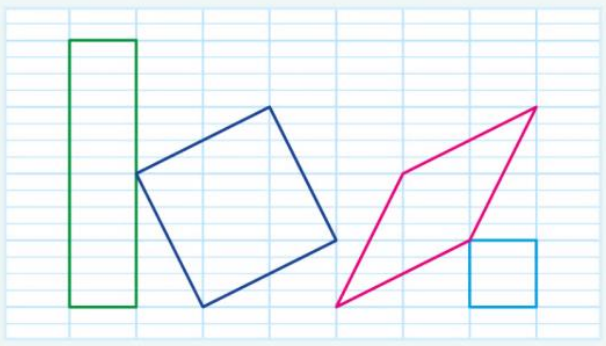
- un losange de 2 cm de côté ;
- un carré ayant un côté de 1 cm 5 mm ;
- un rectangle de 3 cm de longueur et de 2 cm de largeur.

6 * Reproduis cette figure.



CE2

7 * Reproduis ces figures.



8 *** Reproduis ce château.

ABCD, EFGH et IJKL sont des losanges.

