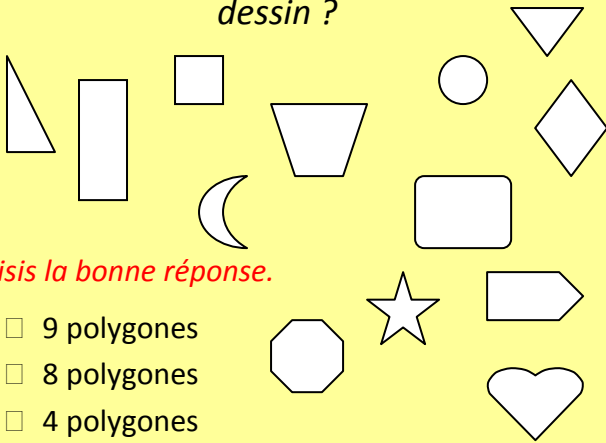


GEOMETRIE

Combien y a-t-il de polygones dans le dessin ?



Choisis la bonne réponse.

- 9 polygones
- 8 polygones
- 4 polygones

GEOMETRIE

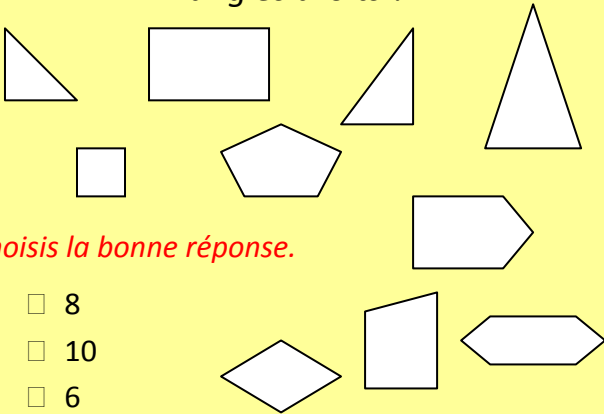
Choisis la bonne réponse.



8 polygones

GEOMETRIE

Combien y a-t-il de figures qui ont des angles droits ?



Choisis la bonne réponse.

- 8
- 10
- 6

GEOMETRIE

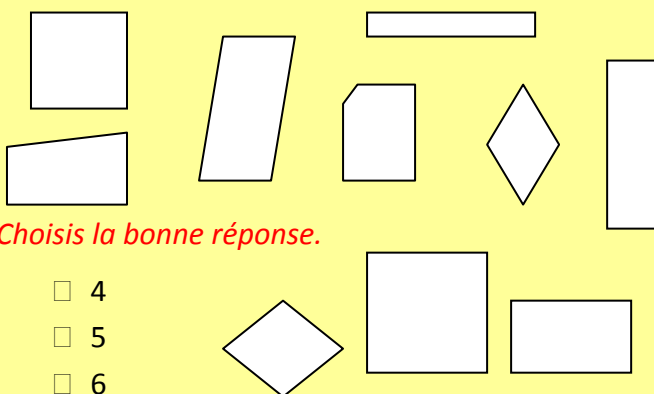
Choisis la bonne réponse.



6

GEOMETRIE

Combien y a-t-il de rectangles ?



Choisis la bonne réponse.

- 4
- 5
- 6

GEOMETRIE

Choisis la bonne réponse.



5

GEOMETRIE

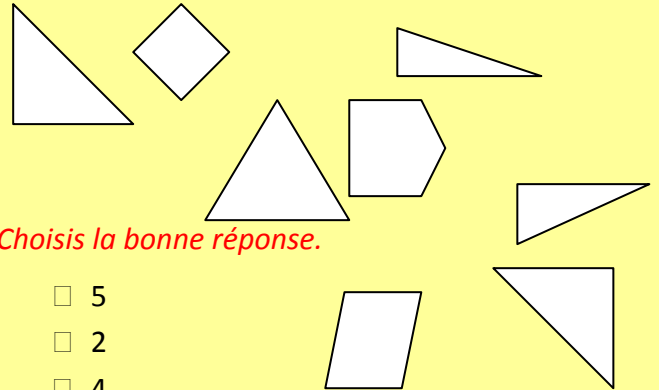
Choisis la bonne réponse.



4

GEOMETRIE

Combien y a-t-il de triangles rectangles dans le dessin ?



Choisis la bonne réponse.

- 5
- 2
- 4

GEOMETRIE


Choisis la bonne réponse.



Un cube

GEOMETRIE

Si on plie ce patron, quel solide obtient-on ?



Choisis la bonne réponse.

- Un cube
- Un pavé
- Une pyramide

GEOMETRIE

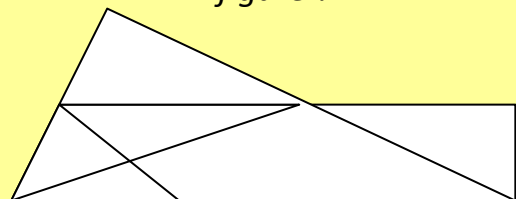
Choisis la bonne réponse.



2

GEOMETRIE

Avec combien de formes est faite cette figure ?



Choisis la bonne réponse.

- 1
- 2
- 3