

Défi calcul mental n°17



Compétence travaillée : Multiplier par 20, 200, 2000.

...../ 30 points

1/ Ecris seulement le résultat.

2/ Problème : _____

3/ Calcule le plus rapidement possible.

<input type="checkbox"/>		<input type="checkbox"/>		<input type="checkbox"/>	
--------------------------	---	--------------------------	---	--------------------------	---

$6 \times 20 = \dots\dots\dots$ $16 \times 20 = \dots\dots\dots$ $50 \times 200 = \dots\dots\dots$ $3000 \times 20 = \dots\dots\dots$

$23 \times 200 = \dots\dots\dots$ $130 \times 20 = \dots\dots\dots$ $75 \times 20 = \dots\dots\dots$

$26 \times 20 = \dots\dots\dots$ $82 \times 200 = \dots\dots\dots$ $53 \times 20 = \dots\dots\dots$

Défi calcul mental n°17






Compétence travaillée : Multiplier par 20, 200, 2000.

...../ 30 points

1/ Ecris seulement le résultat.

2/ Problème : _____

3/ Calcule le plus rapidement possible.

<input type="checkbox"/>		<input type="checkbox"/>		<input type="checkbox"/>	
--------------------------	---	--------------------------	---	--------------------------	---

$6 \times 20 = \dots\dots\dots$ $16 \times 20 = \dots\dots\dots$ $50 \times 200 = \dots\dots\dots$ $3000 \times 20 = \dots\dots\dots$

$23 \times 200 = \dots\dots\dots$ $130 \times 20 = \dots\dots\dots$ $75 \times 20 = \dots\dots\dots$

$26 \times 20 = \dots\dots\dots$ $82 \times 200 = \dots\dots\dots$ $53 \times 20 = \dots\dots\dots$