

Calcul mental

Consigne : Dictée de nombres entre 10 et 70. Ecrire les nombres dans les cercles.

**Numération et calculs**

Consigne : Calcule en dessinant comme Picbille ou Dédé.

$$24 + 43$$

$$24 + 43 = \dots\dots\dots$$

Consigne : Calcule en dessinant comme Picbille ou Dédé.

$$32 + 23$$

$$32 + 23 = \dots\dots\dots$$

Consigne : Calcule en dessinant comme Picbille ou Dédé.

$$38 + 21$$

$$38 + 21 = \dots\dots\dots$$

Phonologie

Consigne : Entoure les mots dans lesquels la lettre « e » chante (è).

maîtresse	lunettes	sportive	hirondelle	mygale
parapluie	chouette	sauterelle	radiateur	trompette

Copie

Sur ton ardoise, entraîne toi à tracer chacune des syllabes suivantes sans lever le crayon :

esse erre elle ette (les barres du « t » sont ajoutées à la fin) enne

Dictée

Sur l'ardoise, écrire les sept mots suivants sous la dictée : *des devinettes, la marelle, le dressage, la varicelle, les chiennes, une greffe, du verre*. Faire la correction seul ou avec un adulte.

Lecture-compréhension

Neuvième travail : la ceinture de la reine des Amazones

Eurysthée voulut qu'Héraclès ramène la ceinture d'or de la reine des Amazones : Hippolyte. Les Amazones étaient un peuple de femmes qui adoraient chasser et faire la guerre. Elles se coupaient un sein pour mieux tirer à l'arc et elles détestaient les hommes. La mission était loin d'être facile pour Héraclès et quelques compagnons partirent avec lui.

La reine Hippolyte fut charmée par les victoires d'Héraclès. Elle accepta de lui donner sa ceinture. Mais Héra était furieuse que notre héros réussisse si facilement. Elle persuada les Amazones qu'il voulait enlever leur reine. Elles attaquèrent et un terrible combat suivit. Pour se défendre, Héraclès fut obligé de tuer la reine. Il avait la ceinture mais il resta attristé par cette aventure.

Calcul mental

Consigne : Additions et soustractions mentales : $25 + 8$; $31 - 7$; $9 + 9$; $17 + 7$; $40 - 8$

**Numération et calculs**

C'est le même exercice que tu as fait hier mais cette fois-ci, il y a plus de 10 unités. Quand il y a plus de 10 unités, tu mets 10 unités dans un paquet ou une boîte pour former une dizaine supplémentaire.

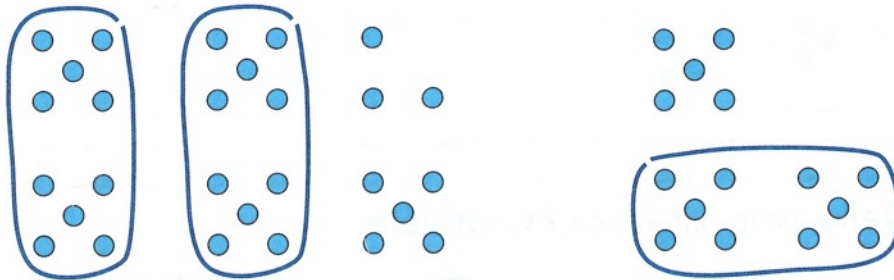
Tu peux regarder la vidéo explicative de la maitresse qui réalise l'exemple ci-dessous :

<https://youtu.be/PkuZ3otCZno>

Exemple à réaliser juste après avoir vu la vidéo :

Dédé calcule $28 + 15$.

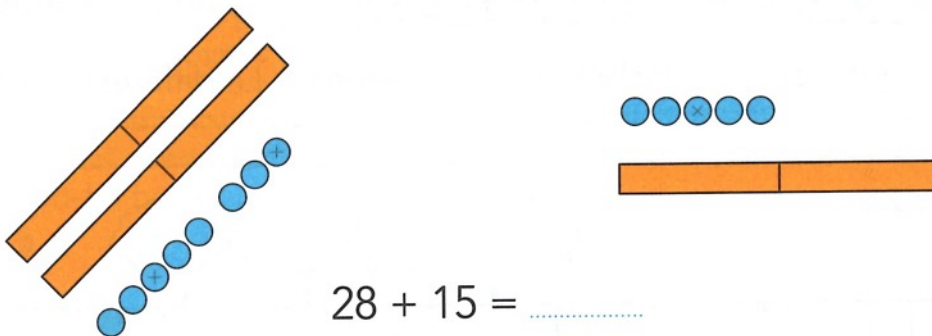
Calcule.



$$28 + 15 = \dots\dots\dots$$

Picbille calcule $28 + 15$.

Calcule.



$$28 + 15 = \dots\dots\dots$$

En t'aidant de l'exemple et de la vidéo explicative de la maitresse, à toi de réaliser les calculs suivants. Attention, il y a parfois plus de 10 unités !

Consigne : Calcule en dessinant comme Picbille ou Dédé.

$$36 + 17$$



$$36 + 17 = \dots\dots\dots$$

Consigne : Calcule en dessinant comme Picbille ou Dédé.

$$25 + 28$$



$$25 + 28 = \dots\dots\dots$$

Problème du jour

J'ai 18 euros dans ma poche.

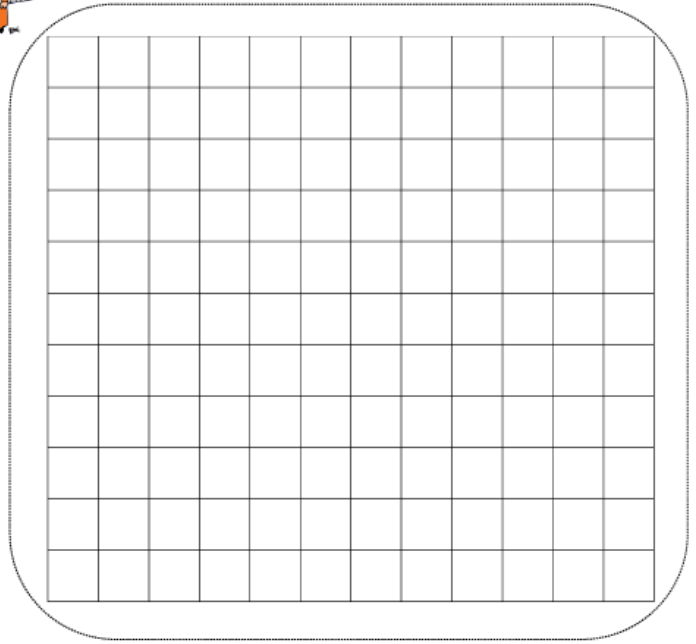
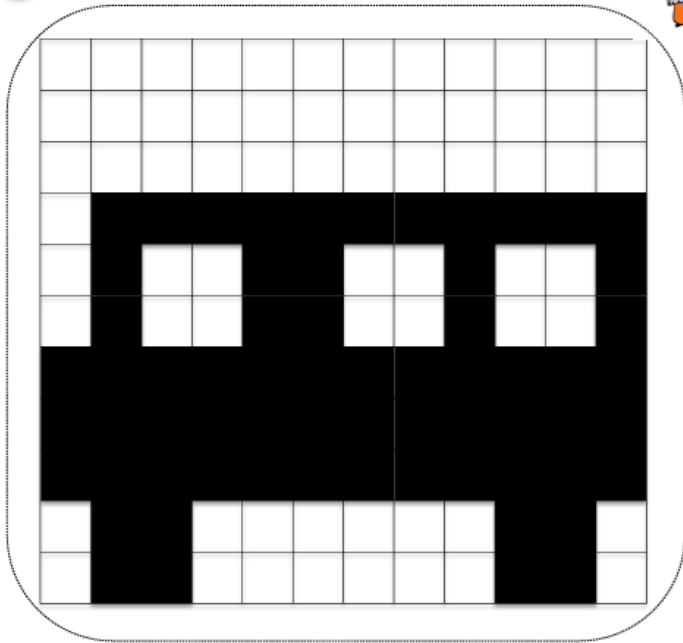
Combien dois-je ajouter d'argent pour avoir 27 euros ?

Je cherche :



Géométrie

1 Noircis les mêmes cases sur le quadrillage à côté.



Lecture


une échelle

ell ett err ess
enn



Consigne : Lire les textes de la **leçon 42** puis répondre aux questions de compréhension suivantes.

➤ Texte 1 : Que voudrait faire le personnage (il faut comprendre le mot « vers ») ?

Handwriting practice lines for the first question.

➤ Texte 1 : Est-ce un garçon ou une fille qui parle ? Comment le sais-tu ?

Handwriting practice lines for the second question.

Calculs

Consigne : Calcule en dessinant comme Dédé ou comme Picbille.

$$15 + 39$$



$$15 + 39 = \dots\dots\dots$$




$$23 + 28$$



$$23 + 28 = \dots\dots\dots$$



$$37 + 19$$



$$37 + 19 = \dots\dots\dots$$

Lecture

Consigne : Lis les syllabes et les mots de la leçon de lecture « **Les valeurs de la lettre c** ».

Dictée

Consigne : Sur l'ardoise, écrire les sept éléments suivants sous la dictée : *Elle grimaca, C'est une farce, Tu es coquin, Il a compris, Je suis déçu, des chats*

Fais la correction avec un adulte.

Lecture-compréhension

Dixième travail : les bœufs de Géryon

Héraclès dut ensuite voler le troupeau de bœufs du géant Géryon. Ce n'était pas une mince affaire ! Ce géant habitait à une année de marche du royaume d'Eurysthée. Il avait trois têtes et trois bustes et faisaient garder son troupeau par un berger et un chien redoutables.

Pensant que la voie était libre, Héraclès attacha les bœufs dès son arrivée. Mais le chien l'attaqua : d'un coup de massue, notre héros réussit à assommer la bête et le berger qui l'accompagnait. Quand le géant Géryon marcha vers Héraclès, il lui tira toutes ses flèches et le tua.

Pour rapporter le troupeau à Eurysthée, Héraclès devait s'armer de courage pour faire le long chemin du retour.

Entoure le territoire de Géryon sur la carte.



Géryon est un berger qui garde des bœufs à deux têtes.	VRAI	FAUX
Les bœufs se laissent capturer facilement.	VRAI	FAUX
Héraclès se débarrasse rapidement du berger Eurythion et de son chien	VRAI	FAUX
Géryon meurt sous les coups de massue répétés d'Héraclès.	VRAI	FAUX
C'est une mission rapide.	VRAI	FAUX

1. A quoi ressemble Géryon ? Décris-le.

•

•

2. Comment Héraclès tue-t-il Géryon ?

•

3. Dans le texte, trouve un mot qui veut dire la même chose que « dangereux » ? (On appelle cela un synonyme).

•

Calcul mental

Consigne : Calcule mentalement : $50 - 20$; $80 - 30$; $75 - 10$; $50 - 40$; $65 - 20$.

**Calculs**

Consigne : Calcule en dessinant comme Dédé ou comme Picbille.

$$36 + 15$$

$$36 + 15 = \dots\dots\dots$$




$$34 + 27$$

$$34 + 27 = \dots\dots\dots$$

Lecture

Consigne : Lire le texte de la leçon de lecture « **Les valeurs de la lettre C** ».

- *Pourquoi le poisson confond une flaque d'eau, la cuvette des WC et la casserole pleine d'eau avec l'océan ?*



Dictée

Consigne : Sur l'ardoise, écrire la phrase suivante sous la dictée : *Le poisson grimaca quand il comprit la farce de ce coquin de chat !*

Fais la correction avec un adulte.

Copie

Dans ton cahier d'écriture, recopie en écriture cursive le texte du Gros Chat et du poisson jusqu'à « la colline » : ce sont les deux premières phrases.

Production d'écrits (à faire dans le cahier d'écrivain)

Ecris un texte libre sur le sujet de ton choix. Ce peut être une histoire inventée ou tu peux parler de ce que tu as fait cette semaine.

Si tu le souhaites, tu peux l'écrire sur l'ordinateur et me l'envoyer par mail avec l'aide d'un adulte ! Je te répondrai avec plaisir ;-)

Espace

Colorie les cases de la couleur indiquée.

		1	2	3	4	5
vert	B	2				
Rouge	D	4				
Jaune	A	3				
Bleu	C	5				
Orange	E	1				

Jeu mathématique : le sudoku**Comment résoudre un sudoku ?**

Il faut remplir toute la grille uniquement avec les chiffres 1,2,3 et 4.

4	2	1	3
1	3	4	2
3	4	2	1
2	1	3	4

Chaque ligne doit avoir chaque chiffre : 1,2,3,4.

Chaque colonne doit avoir chaque chiffre.

Chaque carré doit avoir chaque chiffre : 1,2,3,4.

1			
2			1
3			2
			3

5

	4		
	3	2	
	2	3	
		4	

6