

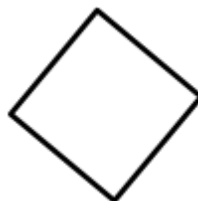

**G 04**

## Reconnaître les figures géométriques




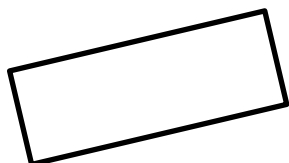
### Le carré

4 angles  
4 côtés de même longueur.




### Le rectangle

4 angles  
4 côtés qui ne sont pas de la même longueur :  
2 petits et 2 grands



### Le triangle

Il a 3 angles et 3 côtés.



*Je m'entraîne (avec l'aide d'un adulte)*

**pour savoir reconnaître quelques formes géométriques et comprendre qu'un nom correspond à une classe de formes.**

- Classer les formes découpées du fichier : carrés, rectangles, triangles, autres.
- Expliquer son classement (nombre de côtés, longueur des côtés).


**G 04**

## Reconnaître les figures géométriques



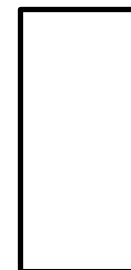
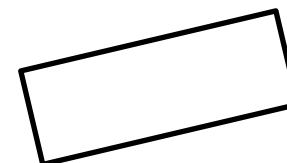
### Le carré

4 angles  
4 côtés de même longueur.



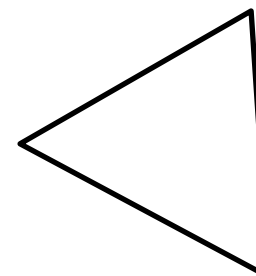
### Le rectangle

4 angles  
4 côtés qui ne sont pas de la même longueur :  
2 petits et 2 grands



### Le triangle

Il a 3 angles et 3 côtés.



*Je m'entraîne (avec l'aide d'un adulte)*

**pour savoir reconnaître quelques formes géométriques et comprendre qu'un nom correspond à une classe de formes.**

- Classer les formes découpées du fichier : carrés, rectangles, triangles, autres.
- Expliquer son classement (nombre de côtés, longueur des côtés).