


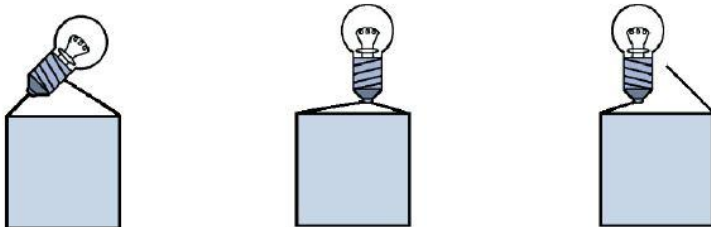
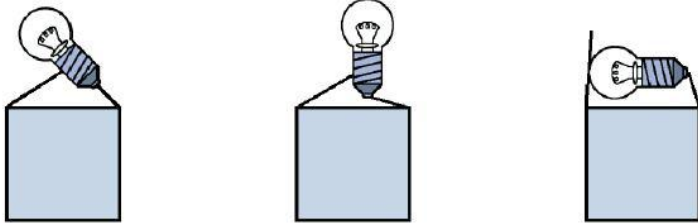


Prénom :
date :

1) Complète le schéma à l'aide de ces mots : le globe en verre, le filament, l'isolant, le plot, le culot, gaz inerte, les potences. . (7 points)



2) Complète le schéma en coloriant en jaune les ampoules qui peuvent s'allumer. (3 points)



Que faut-il faire pour allumer l'ampoule (1 point) ?

.....
.....
.....
.....
.....



Prénom :
date :

3) Quels sont les objets conducteurs d'électricité et quels sont les isolants ? Entoure en vert les conducteurs. (3 points)



Que signifie « conducteur » (1 point) ?

.....
.....
.....

Que signifie « isolant » (1 point) ?

.....
.....
.....

4) Entoure en vert les situations non dangereuses. (4 points)

