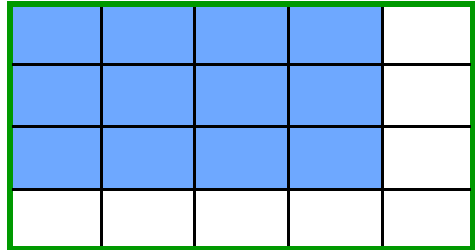


Fractions (1)
Ecris tes réponses directement sur les cartes
avec le crayon spécial.
Retourne les cartes pour vérifier.
Note ton score

Fractions 1

L'unité est le rectangle vert.

Quelle fraction de l'unité
est-elle coloriée?

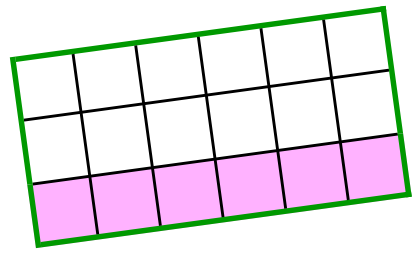


Réponse
 $\frac{15}{20}$

L'unité (u) est le rectangle vert.

Quelle fraction de l'unité
est-elle coloriée?

2 réponses possibles.



$$\frac{18}{3} \text{ ou } \frac{6}{1}$$

Réponse

L'unité (u) est le segment vert.

Quelle fraction de l'unité
est-elle coloriée?



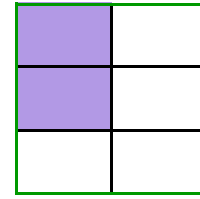
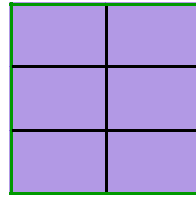
$$\frac{6}{7}$$

Réponse

L'unité (u) est le rectangle vert.

Quelle fraction de l'unité
est-elle coloriée?

2 réponses possibles.



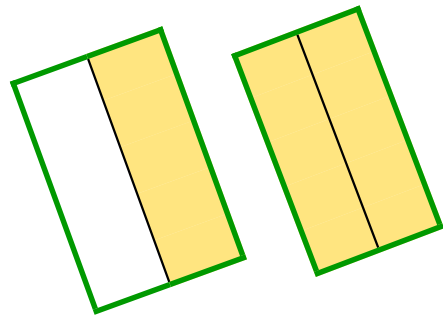
$\frac{6}{8}$ ou $1 + \frac{6}{2}$

Réponse

L'unité (u) est le rectangle vert.

Quelle fraction de l'unité
est-elle coloriée?

2 réponses possibles.


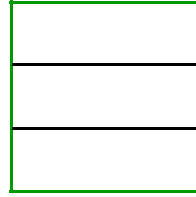


$\frac{2}{3}$ ou $1 + \frac{1}{2}$

Réponse

L'unité (u) est le rectangle vert.

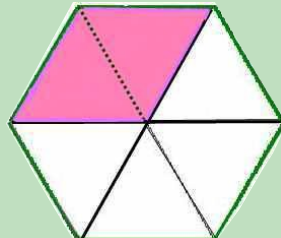
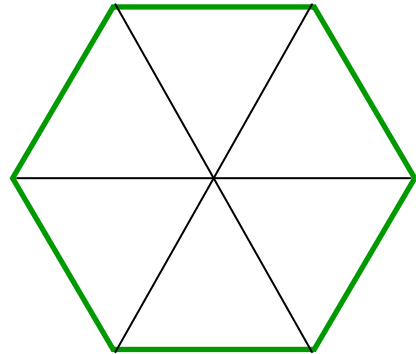
Colorie $\frac{2}{6}$ de u



Réponse

L'unité (u) est le polygone vert.

Colorie $\frac{1}{3}$ de u

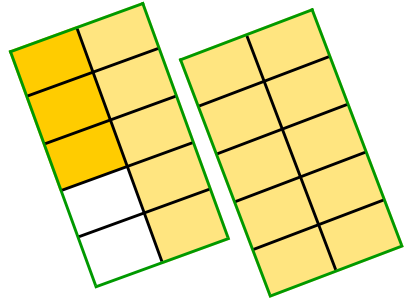


Réponse

L'unité (u) est le rectangle vert.

Quelle fraction de l'unité
est-elle coloriée?

2 réponses possibles.



$$\frac{6}{10} \quad \text{ou} \quad \frac{10}{8} + 1$$

Réponse

L'unité (u) est le segment vert .

Colorie $\frac{4}{6}$ de u



Réponse

