


Nombres et quantités : dizaines, unités

1 Relie une collection de 10 perles en dessinant un fil rouge, puis encore une collection de 10 perles avec un fil vert et encore une collection de 10 perles avec un fil orange.



Il y a collections de 10 perles et perles non reliées.

Il y a dizaines et unités.


Il y a perles en tout.

Retiens bien !

Une dizaine c'est un paquet de 10 unités.




2 Utilise la même technique pour dénombrer les perles.



C'est dizaines et unités.

Il y a perles.



C'est dizaines et unités.

Il y a perles.

3 Complète.

48 c'est dizaines et unités.

52 c'est unités et dizaines.

4 dizaines et 9 unités, c'est

3 dizaines et 4 unités, c'est

73 c'est unités et dizaines.

60 c'est dizaines et unité.

2 dizaines et 1 unité, c'est

5 dizaines, c'est