

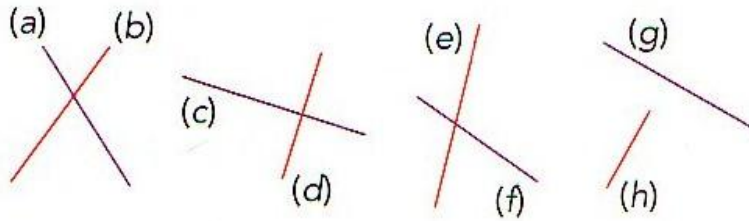


Espace et géométrie : Droites perpendiculaires et droites parallèles

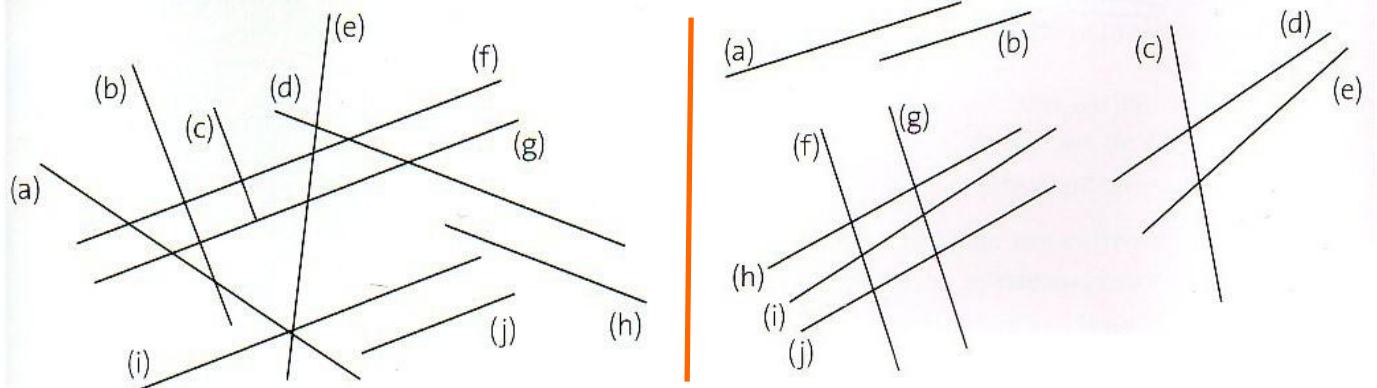
Reconnaître des droites parallèles et perpendiculaires

Fiche d'exercices n° 2
Leçon 2

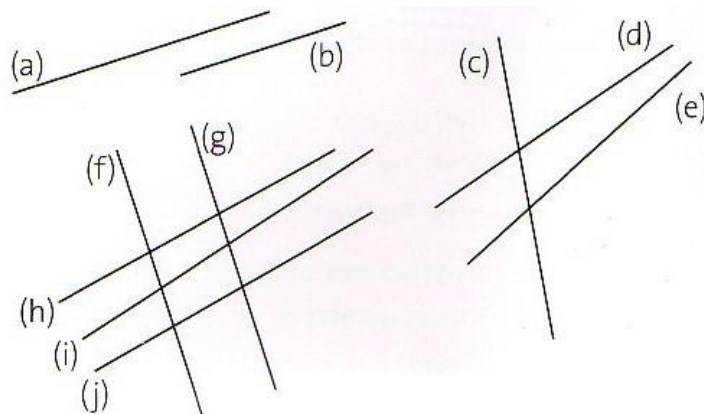
 **Exercice 1** : Avec ton équerre, **trouve** les droites perpendiculaires entre elles.



 **Exercice 2** : **Trouve** les droites perpendiculaires entre elles.



 **Exercice 3** : **Nomme** les droites parallèles.



 **Exercice 4** : **Trouve** les droites parallèles entre elles.

